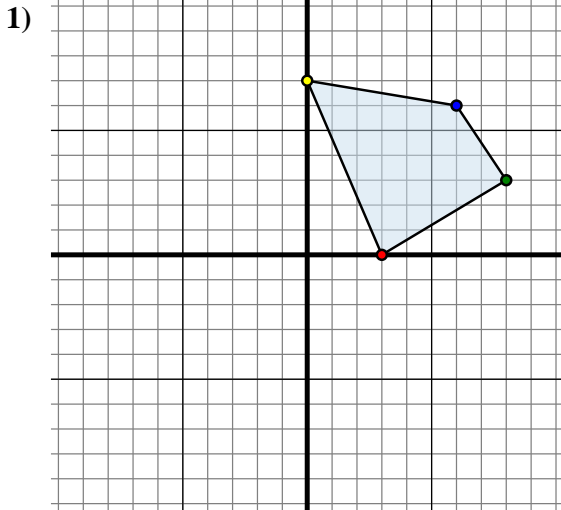




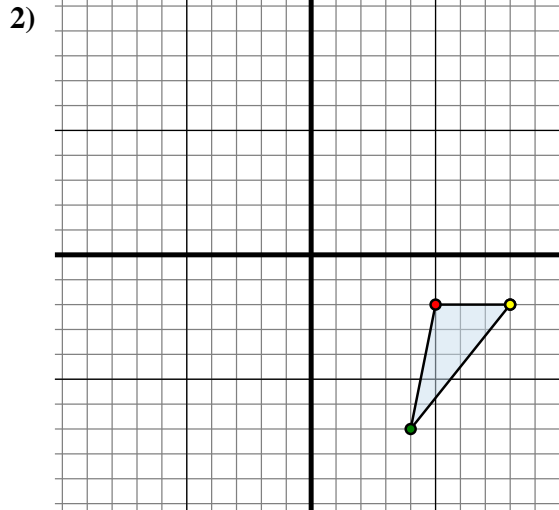
Trasladar cada forma como se describe.



La forma anterior tiene las siguientes coordenadas:

- A. (3 , 0)
- B. (8 , 3)
- C. (6 , 6)
- D. (0 , 7)

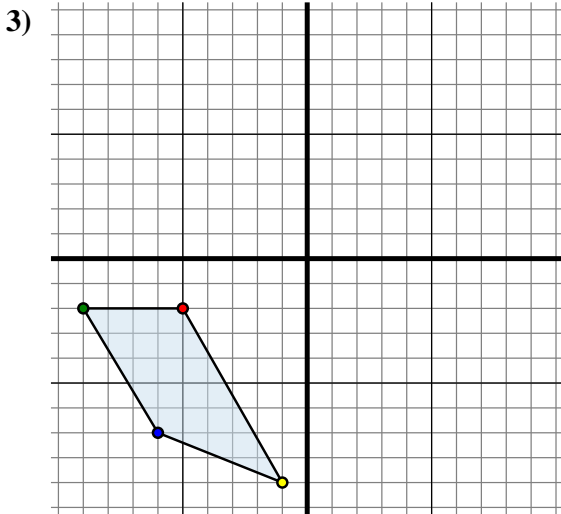
Mueva la forma 1 unidad a la derecha y 2 unidades a la abajo.



La forma anterior tiene las siguientes coordenadas:

- A. (5 , -2)
- B. (4 , -7)
- C. (8 , -2)

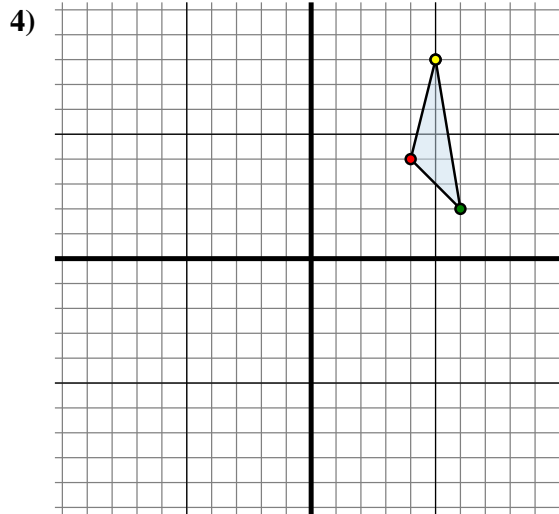
Mueva la forma 0 unidades a la izquierda y 12 unidades a la arriba.



La forma anterior tiene las siguientes coordenadas:

- A. (-5 , -2)
- B. (-9 , -2)
- C. (-6 , -7)
- D. (-1 , -9)

Mueva la forma 0 unidades a la izquierda y 5 unidades a la arriba.



La forma anterior tiene las siguientes coordenadas:

- A. (4 , 4)
- B. (6 , 2)
- C. (5 , 8)

Mueva la forma 3 unidades a la izquierda y 1 unidad a la abajo.

Respuestas

1A. (4 , -2)

1B. _____

1C. _____

1D. _____

1G. gráfica

2A. _____

2B. _____

2C. _____

2G. gráfica

3A. _____

3B. _____

3C. _____

3D. _____

3G. gráfica

4A. _____

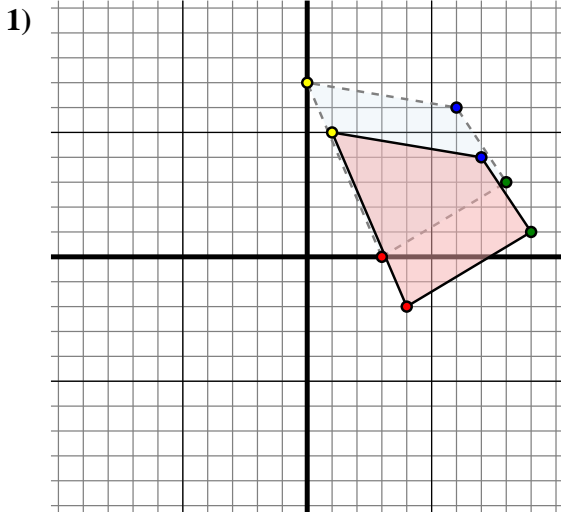
4B. _____

4C. _____

4G. gráfica



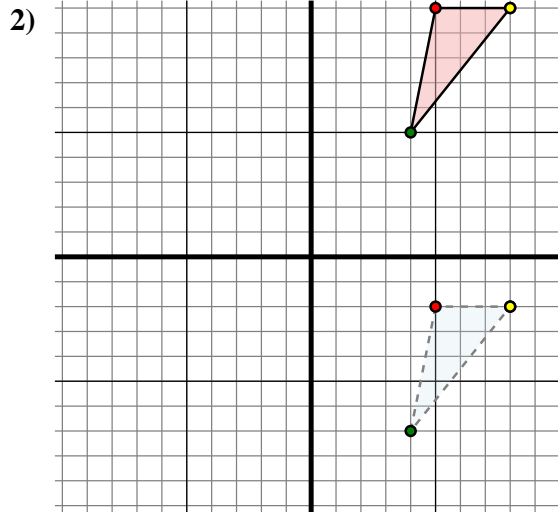
Trasladar cada forma como se describe.



La forma anterior tiene las siguientes coordenadas:

- A. (3 , 0)
- B. (8 , 3)
- C. (6 , 6)
- D. (0 , 7)

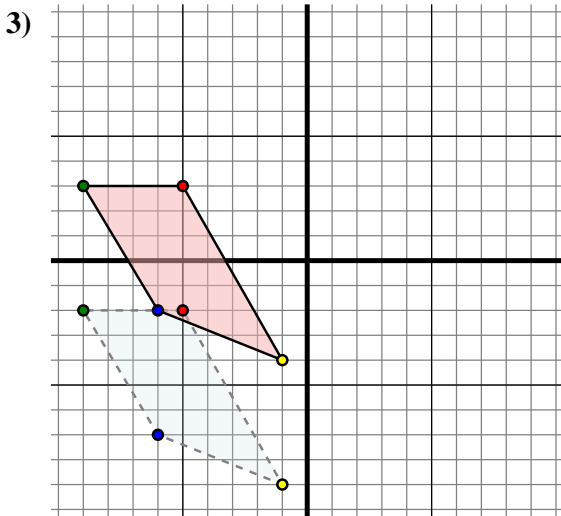
Mueva la forma 1 unidad a la derecha y 2 unidades a la abajo.



La forma anterior tiene las siguientes coordenadas:

- A. (5 , -2)
- B. (4 , -7)
- C. (8 , -2)

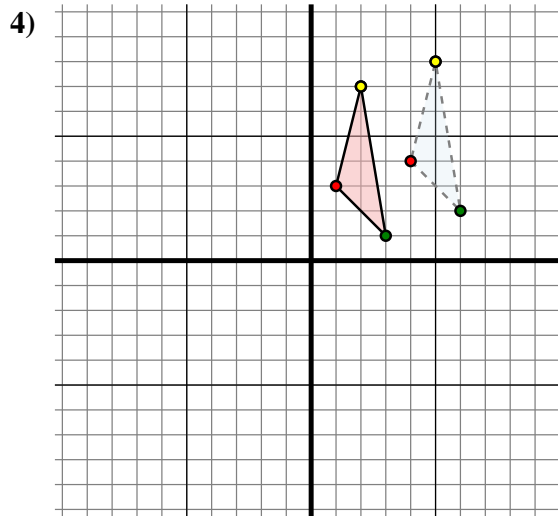
Mueva la forma 0 unidades a la izquierda y 12 unidades a la arriba.



La forma anterior tiene las siguientes coordenadas:

- A. (-5 , -2)
- B. (-9 , -2)
- C. (-6 , -7)
- D. (-1 , -9)

Mueva la forma 0 unidades a la izquierda y 5 unidades a la arriba.



La forma anterior tiene las siguientes coordenadas:

- A. (4 , 4)
- B. (6 , 2)
- C. (5 , 8)

Mueva la forma 3 unidades a la izquierda y 1 unidad a la abajo.

Respuestas

1A. (4 , -2)

1B. (9 , 1)

1C. (7 , 4)

1D. (1 , 5)

1G. gráfica

2A. (5 , 10)

2B. (4 , 5)

2C. (8 , 10)

2G. gráfica

3A. (-5 , 3)

3B. (-9 , 3)

3C. (-6 , -2)

3D. (-1 , -4)

3G. gráfica

4A. (1 , 3)

4B. (3 , 1)

4C. (2 , 7)

4G. gráfica