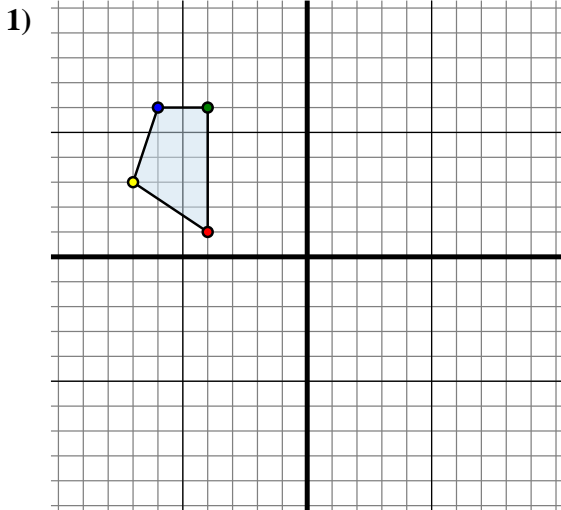




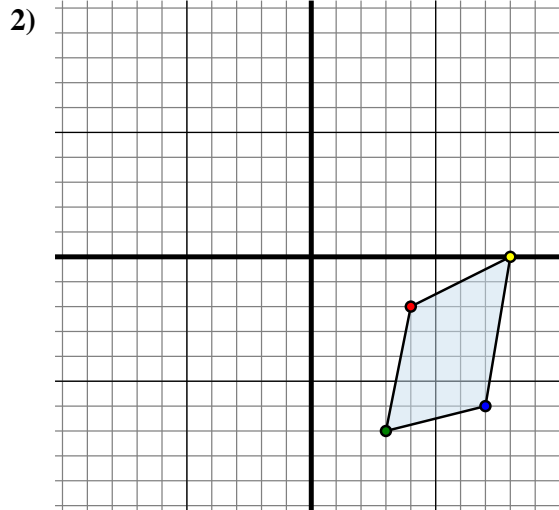
Trasladar cada forma como se describe.



La forma anterior tiene las siguientes coordenadas:

- A. (-4 , 1)
- B. (-4 , 6)
- C. (-6 , 6)
- D. (-7 , 3)

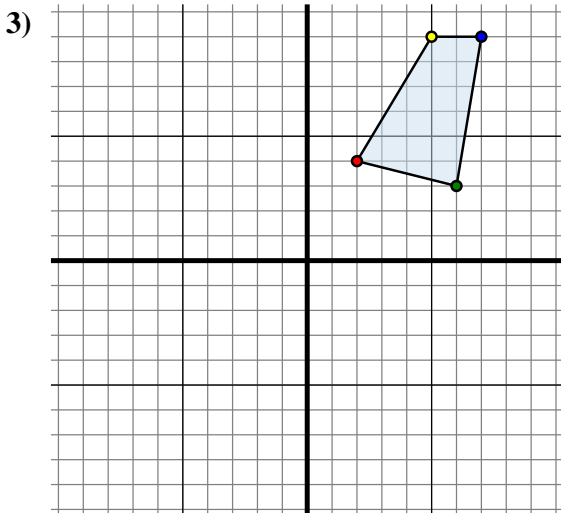
Mueva la forma 14 unidades a la derecha y 1 unidad a la abajo.



La forma anterior tiene las siguientes coordenadas:

- A. (4 , -2)
- B. (3 , -7)
- C. (7 , -6)
- D. (8 , 0)

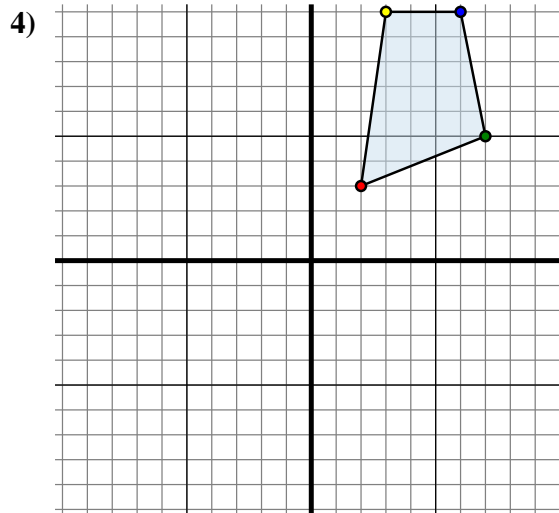
Mueva la forma 8 unidades a la izquierda y 1 unidad a la abajo.



La forma anterior tiene las siguientes coordenadas:

- A. (2 , 4)
- B. (6 , 3)
- C. (7 , 9)
- D. (5 , 9)

Mueva la forma 3 unidades a la izquierda y 8 unidades a la abajo.



La forma anterior tiene las siguientes coordenadas:

- A. (2 , 3)
- B. (7 , 5)
- C. (6 , 10)
- D. (3 , 10)

Mueva la forma 1 unidad a la izquierda y 11 unidades a la abajo.

Respuestas

1A. (10 , 0)

1B. _____

1C. _____

1D. _____

1G. gráfica

2A. _____

2B. _____

2C. _____

2D. _____

2G. gráfica

3A. _____

3B. _____

3C. _____

3D. _____

3G. gráfica

4A. _____

4B. _____

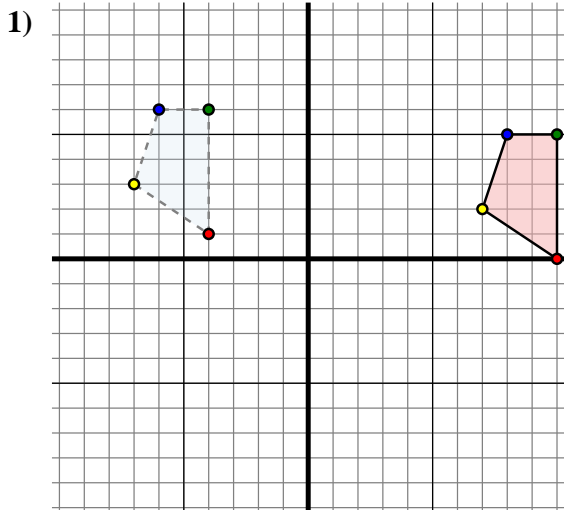
4C. _____

4D. _____

4G. gráfica



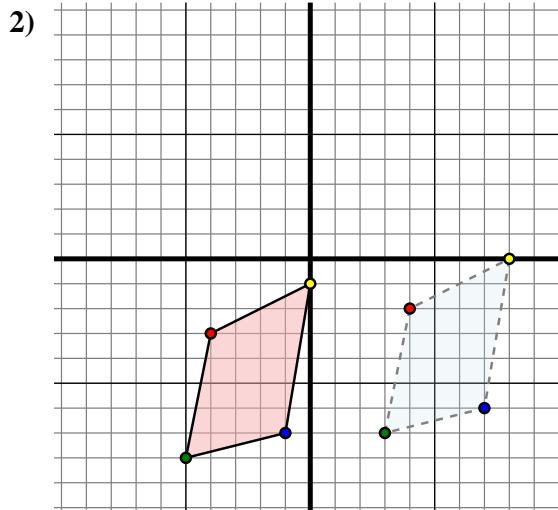
Trasladar cada forma como se describe.



La forma anterior tiene las siguientes coordenadas:

- A. (-4 , 1)
- B. (-4 , 6)
- C. (-6 , 6)
- D. (-7 , 3)

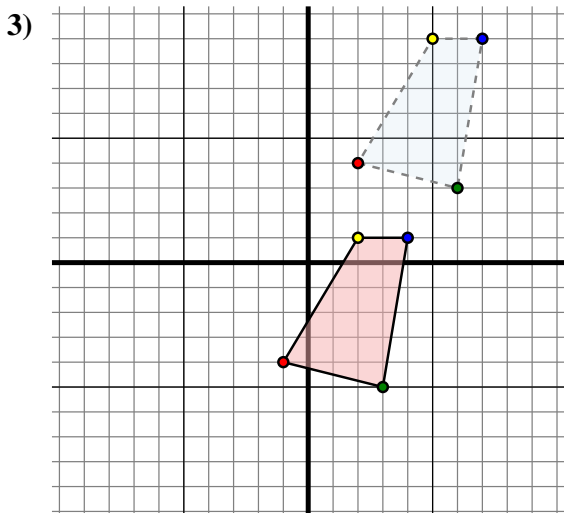
Mueva la forma 14 unidades a la derecha y 1 unidad a la abajo.



La forma anterior tiene las siguientes coordenadas:

- A. (4 , -2)
- B. (3 , -7)
- C. (7 , -6)
- D. (8 , 0)

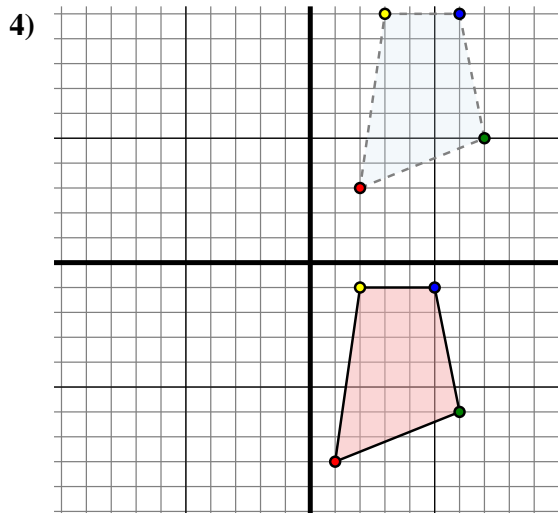
Mueva la forma 8 unidades a la izquierda y 1 unidad a la abajo.



La forma anterior tiene las siguientes coordenadas:

- A. (2 , 4)
- B. (6 , 3)
- C. (7 , 9)
- D. (5 , 9)

Mueva la forma 3 unidades a la izquierda y 8 unidades a la abajo.



La forma anterior tiene las siguientes coordenadas:

- A. (2 , 3)
- B. (7 , 5)
- C. (6 , 10)
- D. (3 , 10)

Mueva la forma 1 unidad a la izquierda y 11 unidades a la abajo.

Respuestas

1A. (10 , 0)

1B. (10 , 5)

1C. (8 , 5)

1D. (7 , 2)

1G. gráfica

2A. (-4 , -3)

2B. (-5 , -8)

2C. (-1 , -7)

2D. (0 , -1)

2G. gráfica

3A. (-1 , -4)

3B. (3 , -5)

3C. (4 , 1)

3D. (2 , 1)

3G. gráfica

4A. (1 , -8)

4B. (6 , -6)

4C. (5 , -1)

4D. (2 , -1)

4G. gráfica