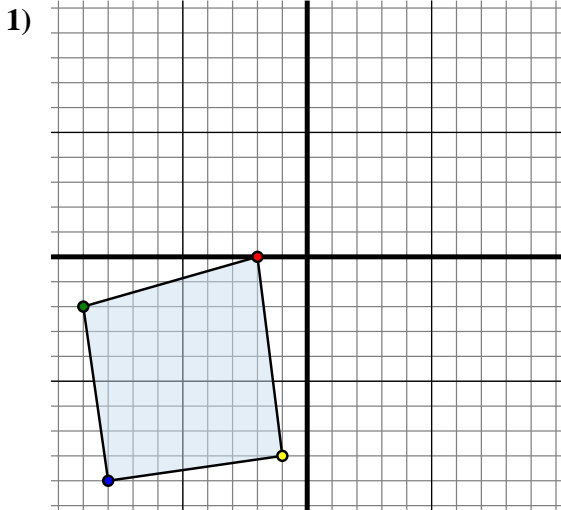




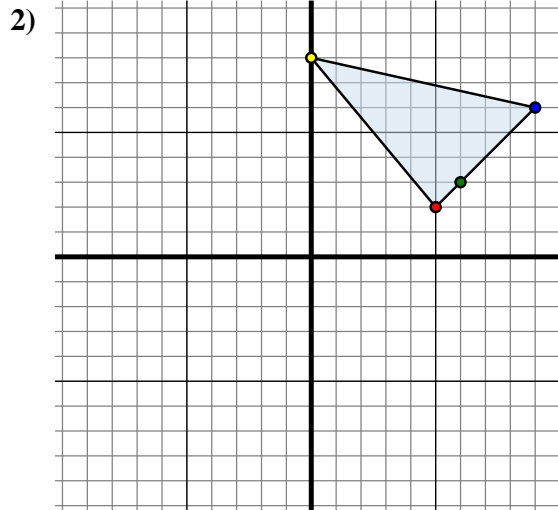
Trasladar cada forma como se describe.



La forma anterior tiene las siguientes coordenadas:

- A. (-2 , 0)
- B. (-9 , -2)
- C. (-8 , -9)
- D. (-1 , -8)

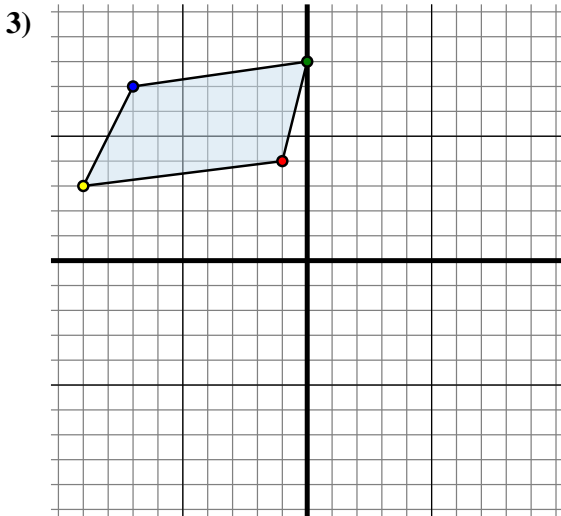
Mueva la forma 10 unidades a la derecha y 3 unidades a la arriba.



La forma anterior tiene las siguientes coordenadas:

- A. (5 , 2)
- B. (6 , 3)
- C. (9 , 6)
- D. (0 , 8)

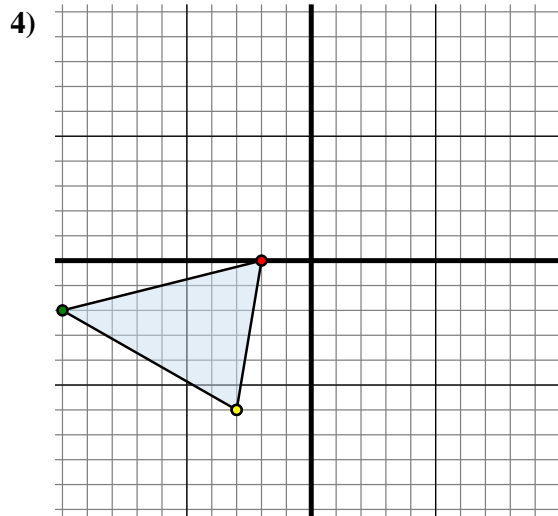
Mueva la forma 6 unidades a la izquierda y 8 unidades a la abajo.



La forma anterior tiene las siguientes coordenadas:

- A. (-1 , 4)
- B. (0 , 8)
- C. (-7 , 7)
- D. (-9 , 3)

Mueva la forma 4 unidades a la derecha y 8 unidades a la abajo.



La forma anterior tiene las siguientes coordenadas:

- A. (-2 , 0)
- B. (-10 , -2)
- C. (-3 , -6)

Mueva la forma 3 unidades a la derecha y 0 unidades a la abajo.

Respuestas

1A. (8 , 3)

1B. _____

1C. _____

1D. _____

1G. gráfica

2A. _____

2B. _____

2C. _____

2D. _____

2G. gráfica

3A. _____

3B. _____

3C. _____

3D. _____

3G. gráfica

4A. _____

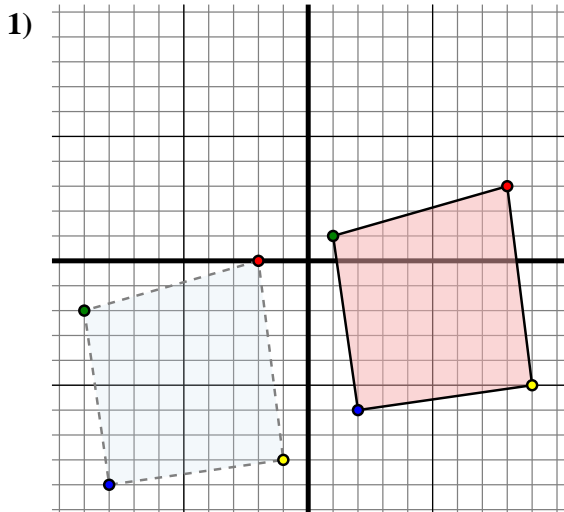
4B. _____

4C. _____

4G. gráfica



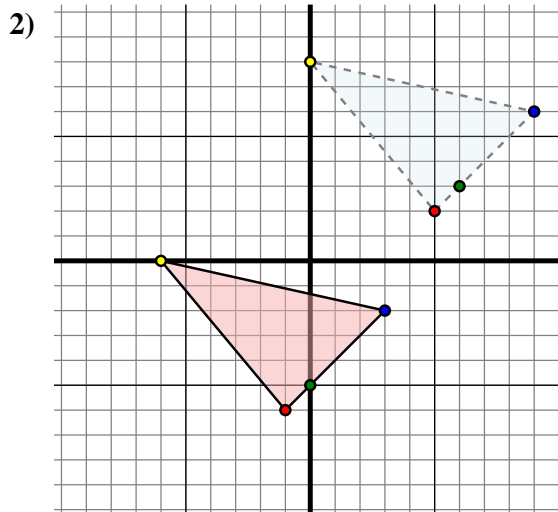
Trasladar cada forma como se describe.



La forma anterior tiene las siguientes coordenadas:

- A. (-2 , 0)
- B. (-9 , -2)
- C. (-8 , -9)
- D. (-1 , -8)

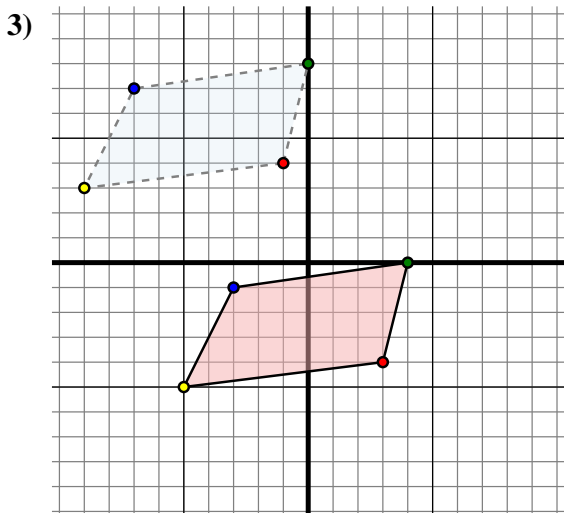
Mueva la forma 10 unidades a la derecha y 3 unidades a la arriba.



La forma anterior tiene las siguientes coordenadas:

- A. (5 , 2)
- B. (6 , 3)
- C. (9 , 6)
- D. (0 , 8)

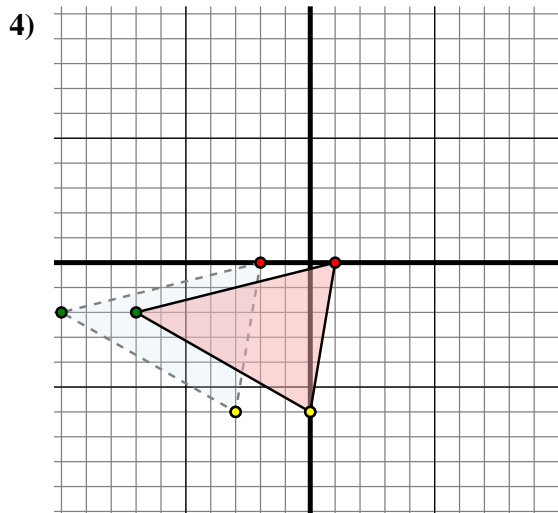
Mueva la forma 6 unidades a la izquierda y 8 unidades a la abajo.



La forma anterior tiene las siguientes coordenadas:

- A. (-1 , 4)
- B. (0 , 8)
- C. (-7 , 7)
- D. (-9 , 3)

Mueva la forma 4 unidades a la derecha y 8 unidades a la abajo.



La forma anterior tiene las siguientes coordenadas:

- A. (-2 , 0)
- B. (-10 , -2)
- C. (-3 , -6)

Mueva la forma 3 unidades a la derecha y 0 unidades a la abajo.

Respuestas

1A. (8 , 3)

1B. (1 , 1)

1C. (2 , -6)

1D. (9 , -5)

1G. gráfica

2A. (-1 , -6)

2B. (0 , -5)

2C. (3 , -2)

2D. (-6 , 0)

2G. gráfica

3A. (3 , -4)

3B. (4 , 0)

3C. (-3 , -1)

3D. (-5 , -5)

3G. gráfica

4A. (1 , 0)

4B. (-7 , -2)

4C. (0 , -6)

4G. gráfica