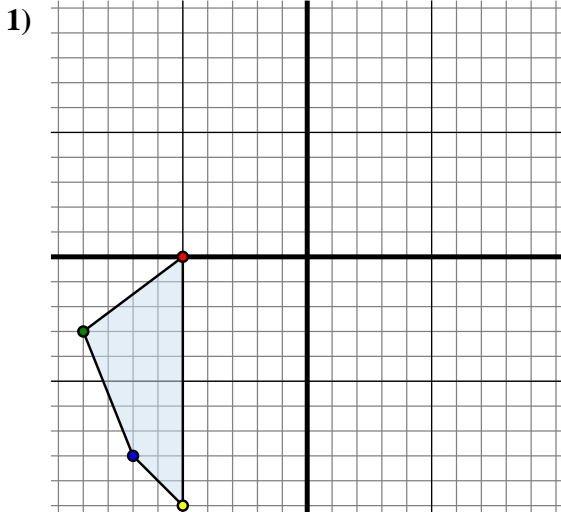




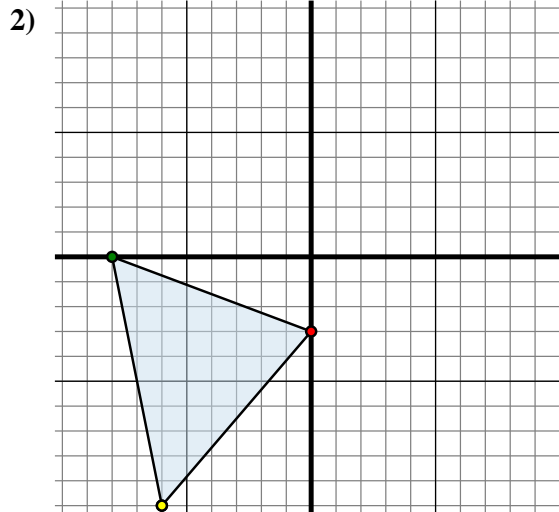
Trasladar cada forma como se describe.



La forma anterior tiene las siguientes coordenadas:

- A. (-5 , 0)
- B. (-9 , -3)
- C. (-7 , -8)
- D. (-5 , -10)

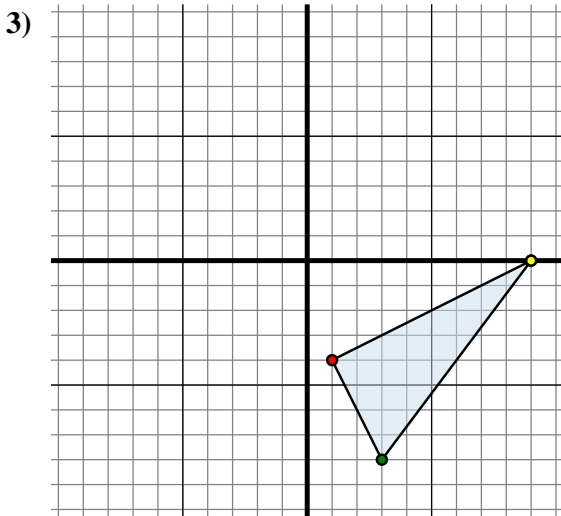
Mueva la forma 15 unidades a la derecha y 0 unidades a la abajo.



La forma anterior tiene las siguientes coordenadas:

- A. (0 , -3)
- B. (-8 , 0)
- C. (-6 , -10)

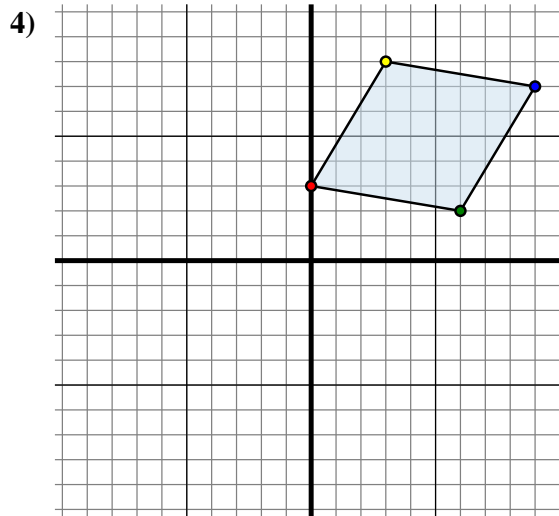
Mueva la forma 6 unidades a la derecha y 3 unidades a la arriba.



La forma anterior tiene las siguientes coordenadas:

- A. (1 , -4)
- B. (3 , -8)
- C. (9 , 0)

Mueva la forma 7 unidades a la izquierda y 1 unidad a la abajo.



La forma anterior tiene las siguientes coordenadas:

- A. (0 , 3)
- B. (6 , 2)
- C. (9 , 7)
- D. (3 , 8)

Mueva la forma 10 unidades a la izquierda y 4 unidades a la abajo.

Respuestas

1A. (10 , 0)

1B. _____

1C. _____

1D. _____

1G. gráfica

2A. _____

2B. _____

2C. _____

2G. gráfica

3A. _____

3B. _____

3C. _____

3G. gráfica

4A. _____

4B. _____

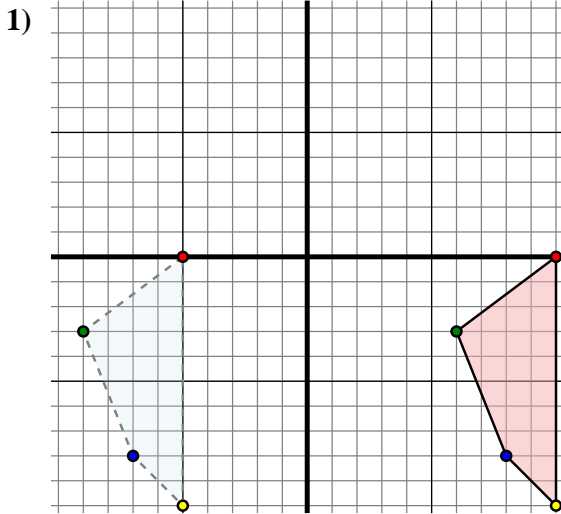
4C. _____

4D. _____

4G. gráfica



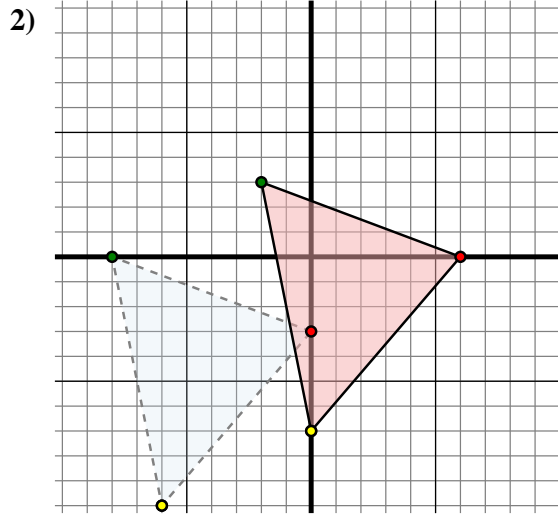
Trasladar cada forma como se describe.



La forma anterior tiene las siguientes coordenadas:

- A. (-5 , 0)
- B. (-9 , -3)
- C. (-7 , -8)
- D. (-5 , -10)

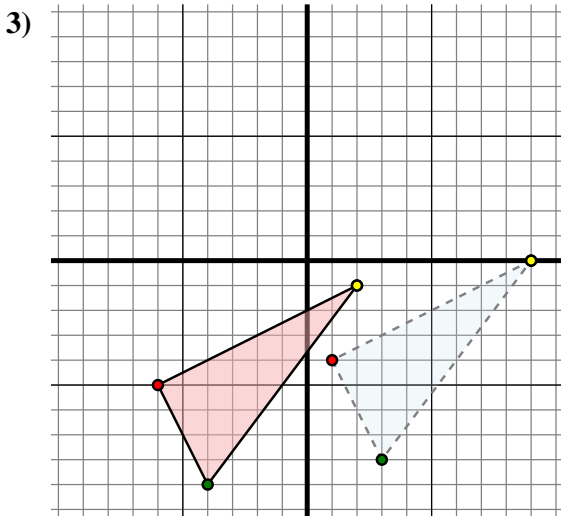
Mueva la forma 15 unidades a la derecha y 0 unidades a la abajo.



La forma anterior tiene las siguientes coordenadas:

- A. (0 , -3)
- B. (-8 , 0)
- C. (-6 , -10)

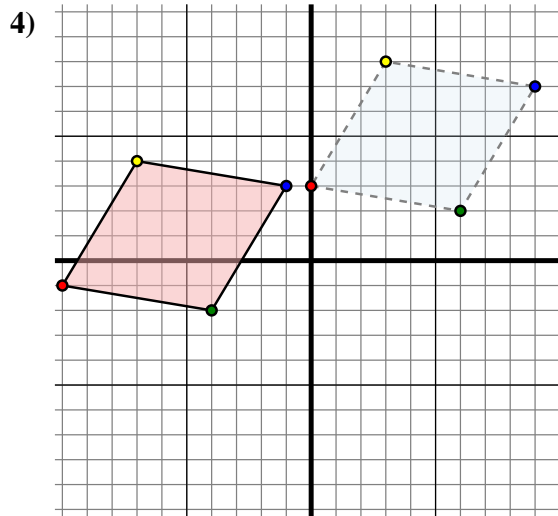
Mueva la forma 6 unidades a la derecha y 3 unidades a la arriba.



La forma anterior tiene las siguientes coordenadas:

- A. (1 , -4)
- B. (3 , -8)
- C. (9 , 0)

Mueva la forma 7 unidades a la izquierda y 1 unidad a la abajo.



La forma anterior tiene las siguientes coordenadas:

- A. (0 , 3)
- B. (6 , 2)
- C. (9 , 7)
- D. (3 , 8)

Mueva la forma 10 unidades a la izquierda y 4 unidades a la abajo.

Respuestas

1A. (10 , 0)

1B. (6 , -3)

1C. (8 , -8)

1D. (10 , -10)

1G. gráfica

2A. (6 , 0)

2B. (-2 , 3)

2C. (0 , -7)

2G. gráfica

3A. (-6 , -5)

3B. (-4 , -9)

3C. (2 , -1)

3G. gráfica

4A. (-10 , -1)

4B. (-4 , -2)

4C. (-1 , 3)

4D. (-7 , 4)

4G. gráfica