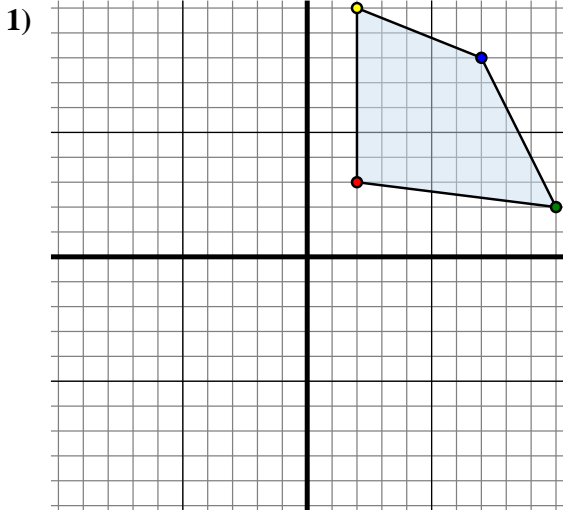




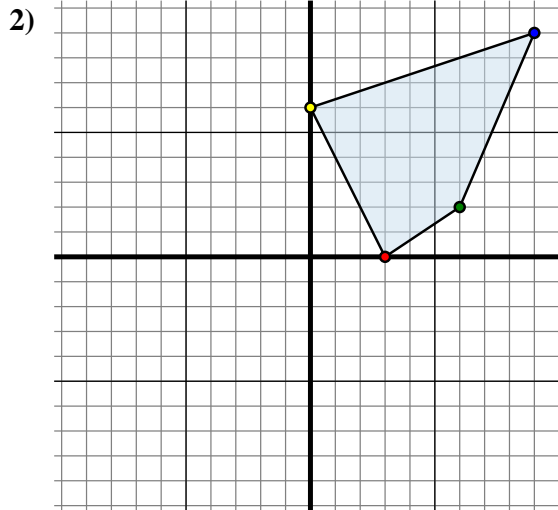
Trasladar cada forma como se describe.



La forma anterior tiene las siguientes coordenadas:

- A. (2 , 3)
- B. (10 , 2)
- C. (7 , 8)
- D. (2 , 10)

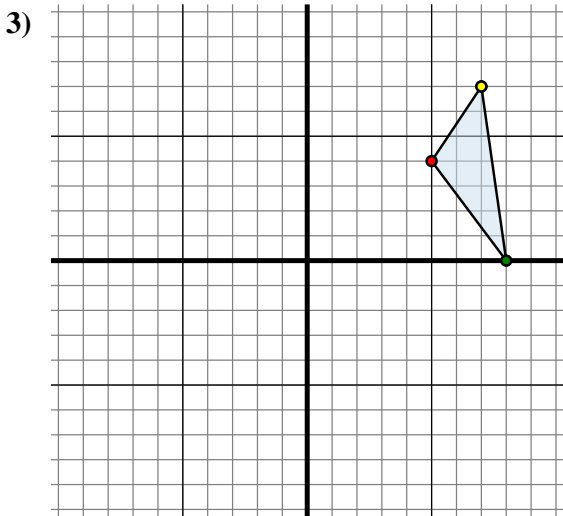
Mueva la forma 11 unidades a la izquierda y 2 unidades a la abajo.



La forma anterior tiene las siguientes coordenadas:

- A. (3 , 0)
- B. (6 , 2)
- C. (9 , 9)
- D. (0 , 6)

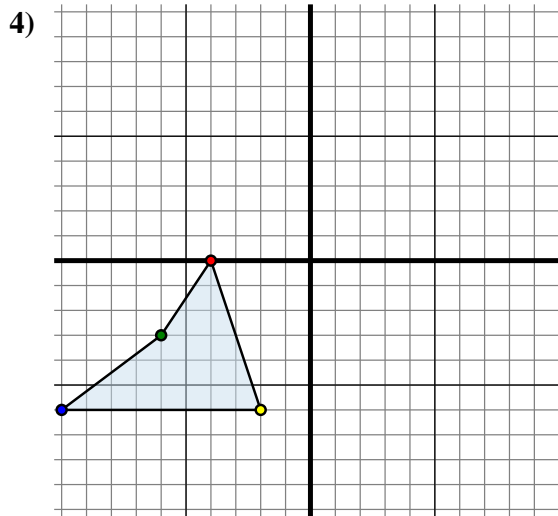
Mueva la forma 5 unidades a la izquierda y 7 unidades a la abajo.



La forma anterior tiene las siguientes coordenadas:

- A. (5 , 4)
- B. (8 , 0)
- C. (7 , 7)

Mueva la forma 0 unidades a la izquierda y 2 unidades a la abajo.



La forma anterior tiene las siguientes coordenadas:

- A. (-4 , 0)
- B. (-6 , -3)
- C. (-10 , -6)
- D. (-2 , -6)

Mueva la forma 1 unidad a la derecha y 4 unidades a la abajo.

Respuestas

1A. (-9 , 1)

1B. _____

1C. _____

1D. _____

1G. gráfica

2A. _____

2B. _____

2C. _____

2D. _____

2G. gráfica

3A. _____

3B. _____

3C. _____

3G. gráfica

4A. _____

4B. _____

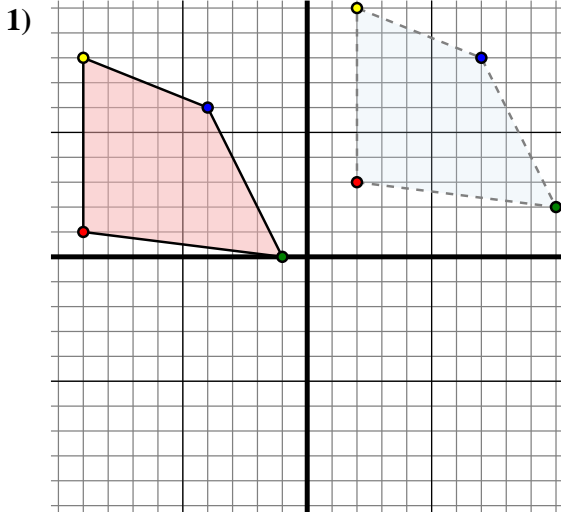
4C. _____

4D. _____

4G. gráfica



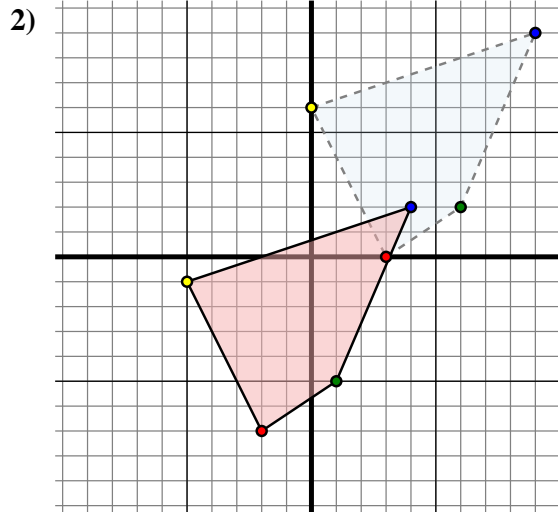
Trasladar cada forma como se describe.



La forma anterior tiene las siguientes coordenadas:

- A. (2 , 3)
- B. (10 , 2)
- C. (7 , 8)
- D. (2 , 10)

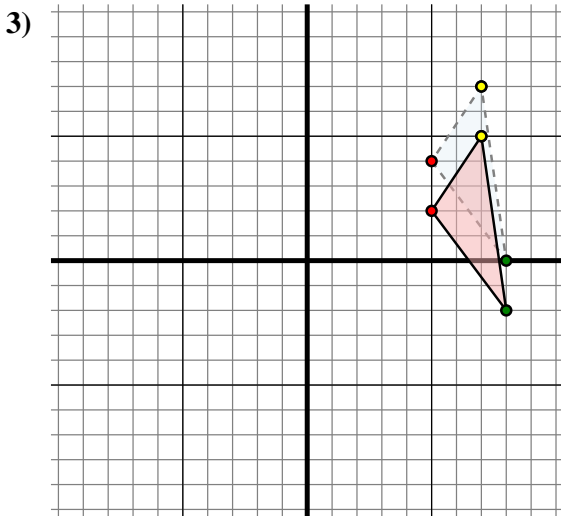
Mueva la forma 11 unidades a la izquierda y 2 unidades a la abajo.



La forma anterior tiene las siguientes coordenadas:

- A. (3 , 0)
- B. (6 , 2)
- C. (9 , 9)
- D. (0 , 6)

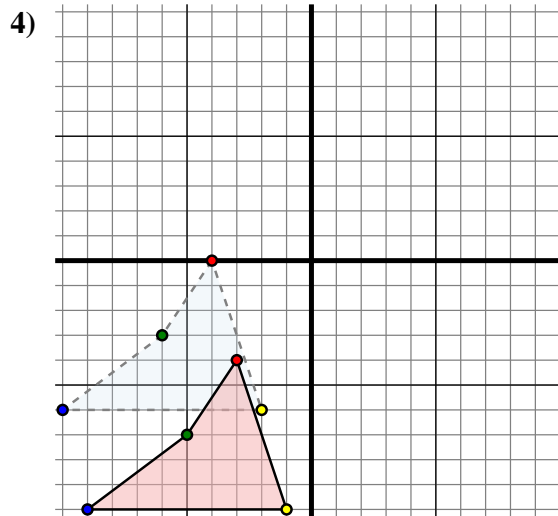
Mueva la forma 5 unidades a la izquierda y 7 unidades a la abajo.



La forma anterior tiene las siguientes coordenadas:

- A. (5 , 4)
- B. (8 , 0)
- C. (7 , 7)

Mueva la forma 0 unidades a la izquierda y 2 unidades a la abajo.



La forma anterior tiene las siguientes coordenadas:

- A. (-4 , 0)
- B. (-6 , -3)
- C. (-10 , -6)
- D. (-2 , -6)

Mueva la forma 1 unidad a la derecha y 4 unidades a la abajo.

Respuestas

1A. (-9 , 1)

1B. (-1 , 0)

1C. (-4 , 6)

1D. (-9 , 8)

1G. gráfica

2A. (-2 , -7)

2B. (1 , -5)

2C. (4 , 2)

2D. (-5 , -1)

2G. gráfica

3A. (5 , 2)

3B. (8 , -2)

3C. (7 , 5)

3G. gráfica

4A. (-3 , -4)

4B. (-5 , -7)

4C. (-9 , -10)

4D. (-1 , -10)

4G. gráfica