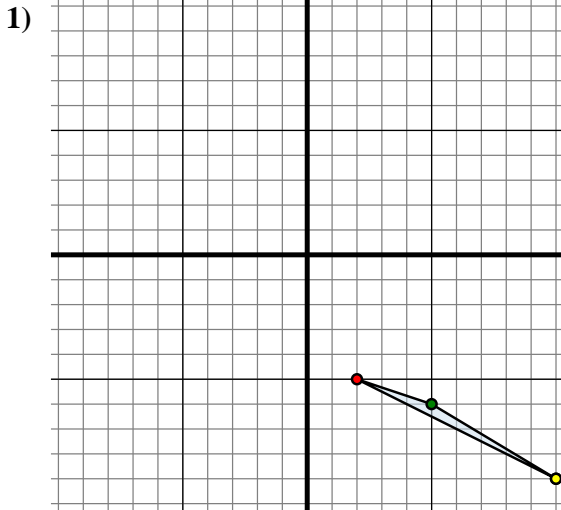




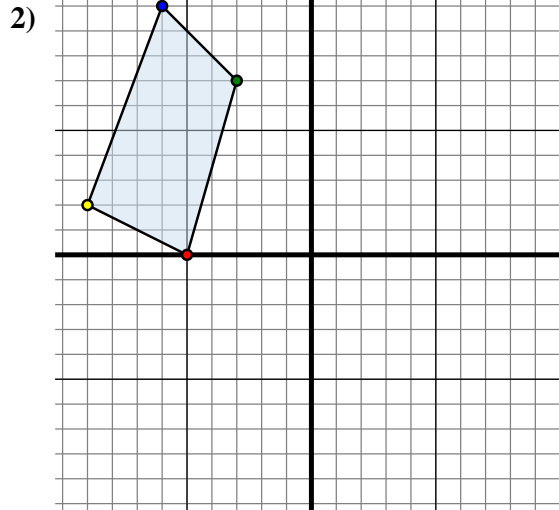
Trasladar cada forma como se describe.



La forma anterior tiene las siguientes coordenadas:

- A. (2 , -5)
- B. (5 , -6)
- C. (10 , -9)

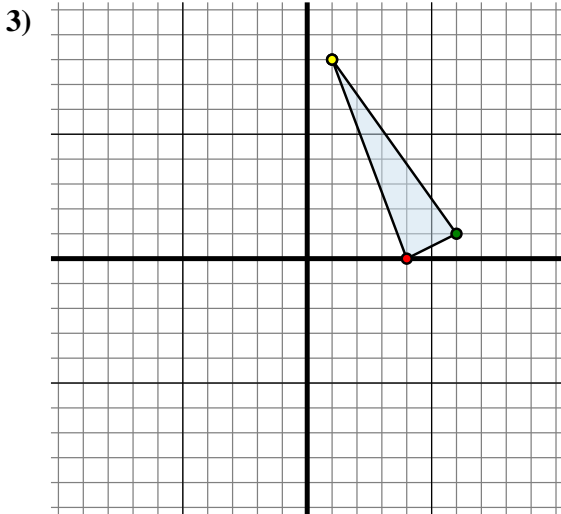
Mueva la forma 10 unidades a la izquierda y 9 unidades a la arriba.



La forma anterior tiene las siguientes coordenadas:

- A. (-5 , 0)
- B. (-3 , 7)
- C. (-6 , 10)
- D. (-9 , 2)

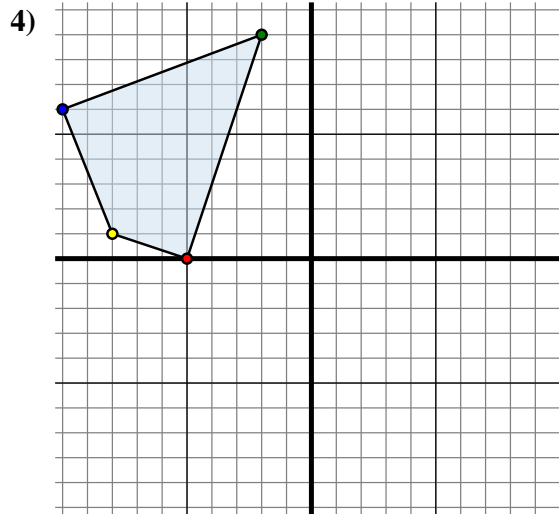
Mueva la forma 1 unidad a la derecha y 9 unidades a la abajo.



La forma anterior tiene las siguientes coordenadas:

- A. (4 , 0)
- B. (6 , 1)
- C. (1 , 8)

Mueva la forma 2 unidades a la derecha y 6 unidades a la abajo.



La forma anterior tiene las siguientes coordenadas:

- A. (-5 , 0)
- B. (-2 , 9)
- C. (-10 , 6)
- D. (-8 , 1)

Mueva la forma 6 unidades a la derecha y 10 unidades a la abajo.

**Respuestas**

1A. (-8 , 4)

1B. \_\_\_\_\_

1C. \_\_\_\_\_

1G. gráfica

2A. \_\_\_\_\_

2B. \_\_\_\_\_

2C. \_\_\_\_\_

2D. \_\_\_\_\_

2G. gráfica

3A. \_\_\_\_\_

3B. \_\_\_\_\_

3C. \_\_\_\_\_

3G. gráfica

4A. \_\_\_\_\_

4B. \_\_\_\_\_

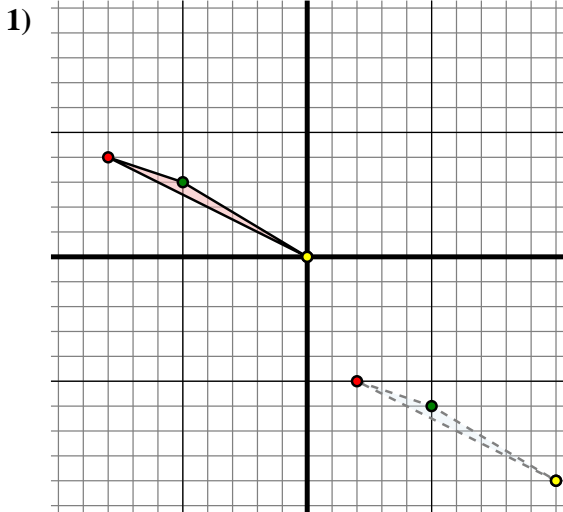
4C. \_\_\_\_\_

4D. \_\_\_\_\_

4G. gráfica



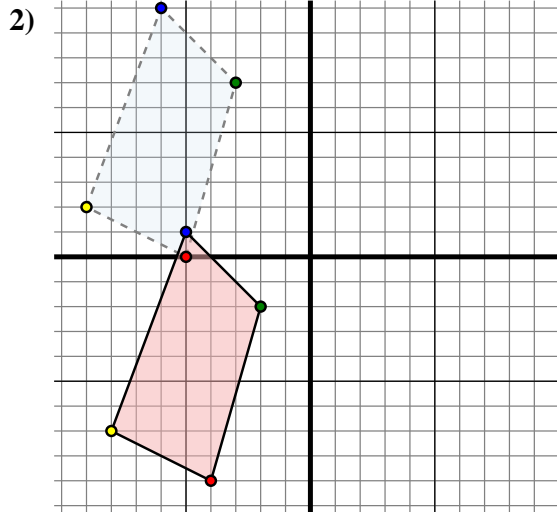
Trasladar cada forma como se describe.



La forma anterior tiene las siguientes coordenadas:

- A. (2 , -5)
- B. (5 , -6)
- C. (10 , -9)

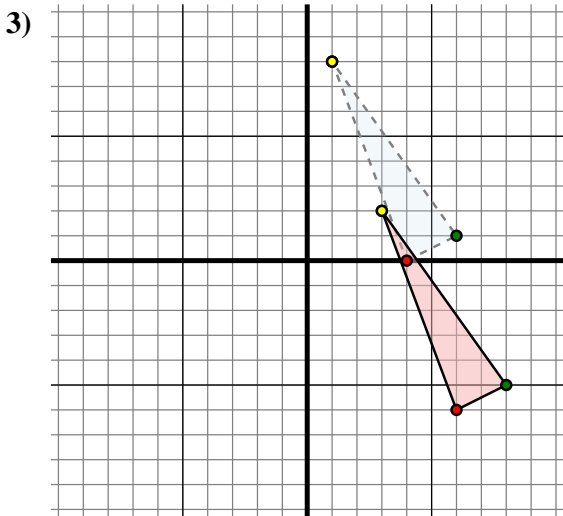
Mueva la forma 10 unidades a la izquierda y 9 unidades a la arriba.



La forma anterior tiene las siguientes coordenadas:

- A. (-5 , 0)
- B. (-3 , 7)
- C. (-6 , 10)
- D. (-9 , 2)

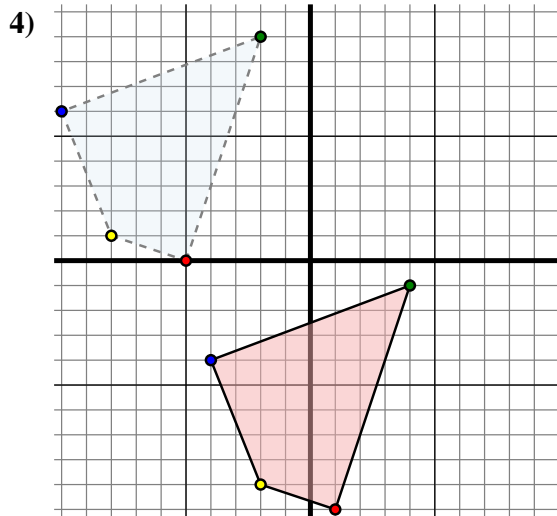
Mueva la forma 1 unidad a la derecha y 9 unidades a la abajo.



La forma anterior tiene las siguientes coordenadas:

- A. (4 , 0)
- B. (6 , 1)
- C. (1 , 8)

Mueva la forma 2 unidades a la derecha y 6 unidades a la abajo.



La forma anterior tiene las siguientes coordenadas:

- A. (-5 , 0)
- B. (-2 , 9)
- C. (-10 , 6)
- D. (-8 , 1)

Mueva la forma 6 unidades a la derecha y 10 unidades a la abajo.

**Respuestas**

1A. (-8 , 4)

1B. (-5 , 3)

1C. (0 , 0)

1G. gráfica

2A. (-4 , -9)

2B. (-2 , -2)

2C. (-5 , 1)

2D. (-8 , -7)

2G. gráfica

3A. (6 , -6)

3B. (8 , -5)

3C. (3 , 2)

3G. gráfica

4A. (1 , -10)

4B. (4 , -1)

4C. (-4 , -4)

4D. (-2 , -9)

4G. gráfica