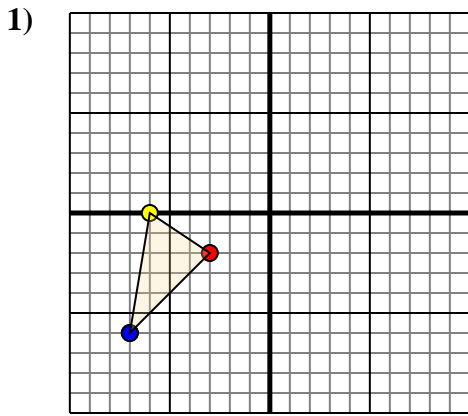




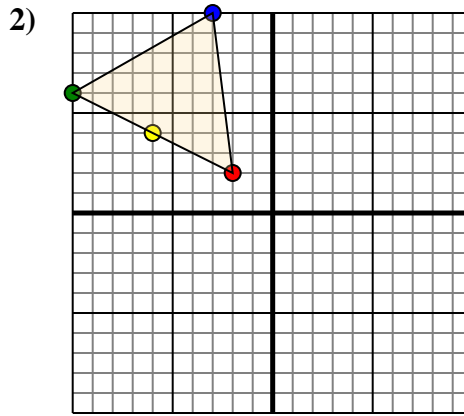
Trasladar cada forma como se describe.



La forma anterior tiene las siguientes coordenadas:

- A. (-3,-2)
- B. (-6,0)
- C. (-7,-6)

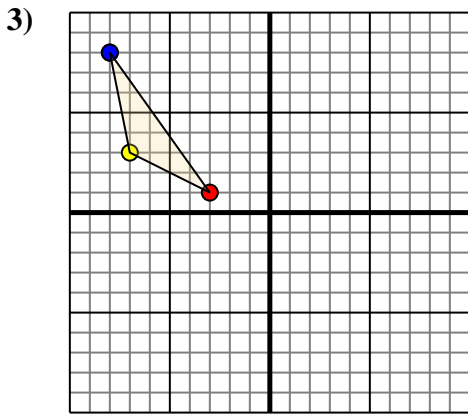
Mueva la forma 5 unidades a la derecha y 2 unidades a la arriba.



La forma anterior tiene las siguientes coordenadas:

- A. (-2,2)
- B. (-6,4)
- C. (-10,6)
- D. (-3,10)

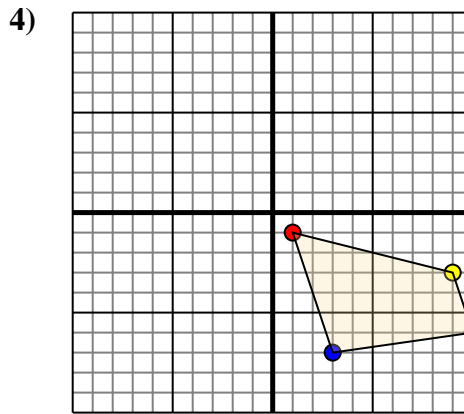
Mueva la forma 2 unidades a la derecha y 3 unidades a la abajo.



La forma anterior tiene las siguientes coordenadas:

- A. (-3,1)
- B. (-7,3)
- C. (-8,8)

Mueva la forma 3 unidades a la derecha y 3 unidades a la abajo.



La forma anterior tiene las siguientes coordenadas:

- A. (1,-1)
- B. (9,-3)
- C. (10,-6)
- D. (3,-7)

Mueva la forma 5 unidades a la izquierda y 10 unidades a la arriba.

Respuestas

1a. _____

1b. _____

1c. _____

1. gráfica

2a. _____

2b. _____

2c. _____

2d. _____

2. gráfica

3a. _____

3b. _____

3c. _____

3. gráfica

4a. _____

4b. _____

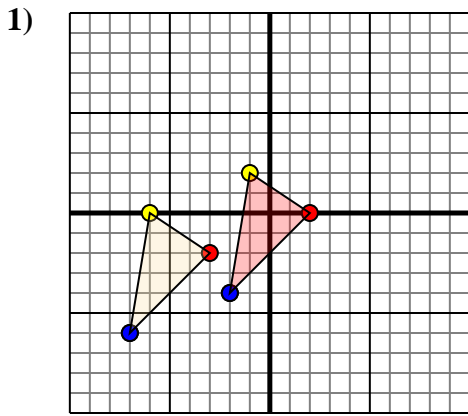
4c. _____

4d. _____

4. gráfica



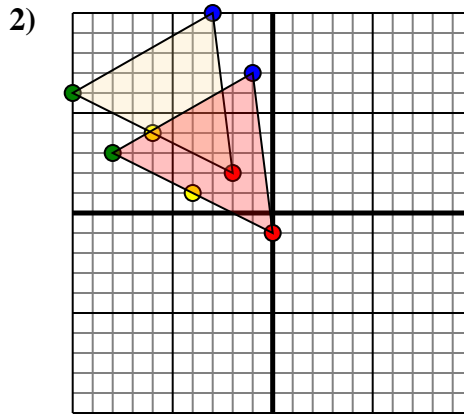
Trasladar cada forma como se describe.



La forma anterior tiene las siguientes coordenadas:

- A. (-3,-2)
- B. (-6,0)
- C. (-7,-6)

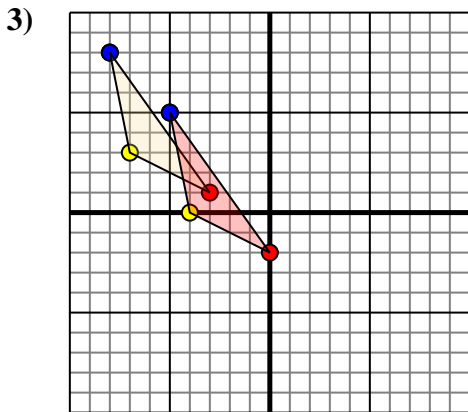
Mueva la forma 5 unidades a la derecha y 2 unidades a la arriba.



La forma anterior tiene las siguientes coordenadas:

- A. (-2,2)
- B. (-6,4)
- C. (-10,6)
- D. (-3,10)

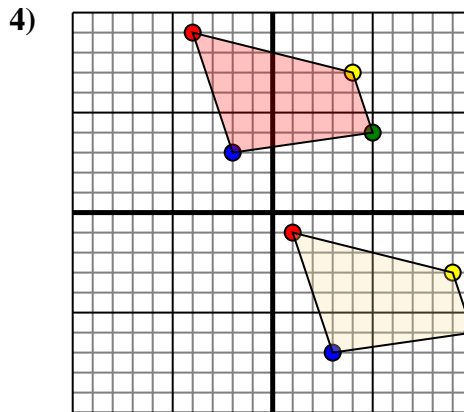
Mueva la forma 2 unidades a la derecha y 3 unidades a la abajo.



La forma anterior tiene las siguientes coordenadas:

- A. (-3,1)
- B. (-7,3)
- C. (-8,8)

Mueva la forma 3 unidades a la derecha y 3 unidades a la abajo.



La forma anterior tiene las siguientes coordenadas:

- A. (1,-1)
- B. (9,-3)
- C. (10,-6)
- D. (3,-7)

Mueva la forma 5 unidades a la izquierda y 10 unidades a la arriba.

Respuestas

1a. (2,0)

1b. (-1,2)

1c. (-2,-4)

1. gráfica

2a. (0,-1)

2b. (-4,1)

2c. (-8,3)

2d. (-1,7)

2. gráfica

3a. (0,-2)

3b. (-4,0)

3c. (-5,5)

3. gráfica

4a. (-4,9)

4b. (4,7)

4c. (5,4)

4d. (-2,3)

4. gráfica