



Medir cada una de las barras (en centímetros) y después generar un diagrama basado en la información.

1)



2)



3)



4)



5)



6)



7)



8)



9)



10)



11)



12)



13)



14)



15)




Diagrama de puntos

Respuestas

1. _____

2. _____

3. _____

4. _____

5. _____

6. _____

7. _____

8. _____

9. _____

10. _____

11. _____

12. _____

13. _____

14. _____

15. _____



Medir cada una de las barras (en centímetros) y después generar un diagrama basado en la información.

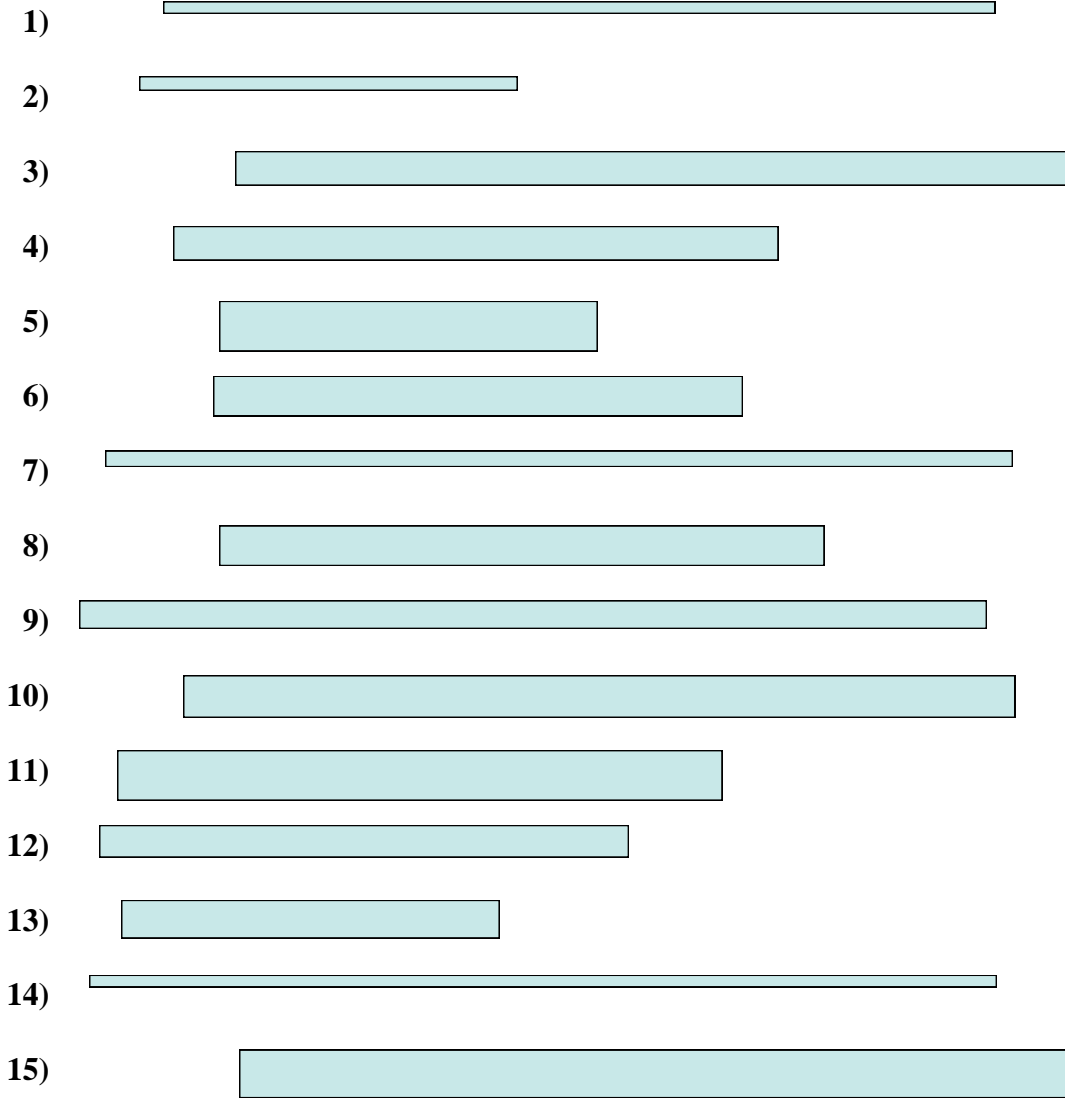
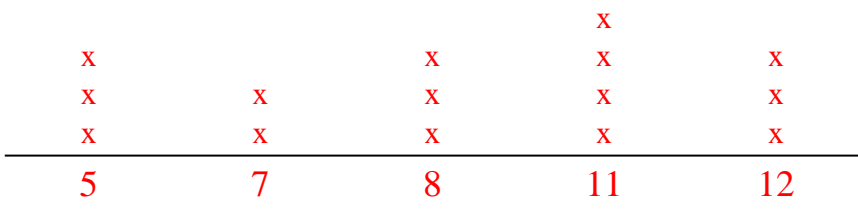


Diagrama de puntos



Respuestas

- 1. 11
- 2. 5
- 3. 11
- 4. 8
- 5. 5
- 6. 7
- 7. 12
- 8. 8
- 9. 12
- 10. 11
- 11. 8
- 12. 7
- 13. 5
- 14. 12
- 15. 11