


















Medir cada una de las barras (en centímetros) y después generar un diagrama basado en la información.

Respuestas

- 1) 
- 2) 
- 3) 
- 4) 
- 5) 
- 6) 
- 7) 
- 8) 
- 9) 
- 10) 
- 11) 
- 12) 
- 13) 
- 14) 
- 15) 

- 1. _____
- 2. _____
- 3. _____
- 4. _____
- 5. _____
- 6. _____
- 7. _____
- 8. _____
- 9. _____
- 10. _____
- 11. _____
- 12. _____
- 13. _____
- 14. _____
- 15. _____

Diagrama de puntos



Medir cada una de las barras (en centímetros) y después generar un diagrama basado en la información.

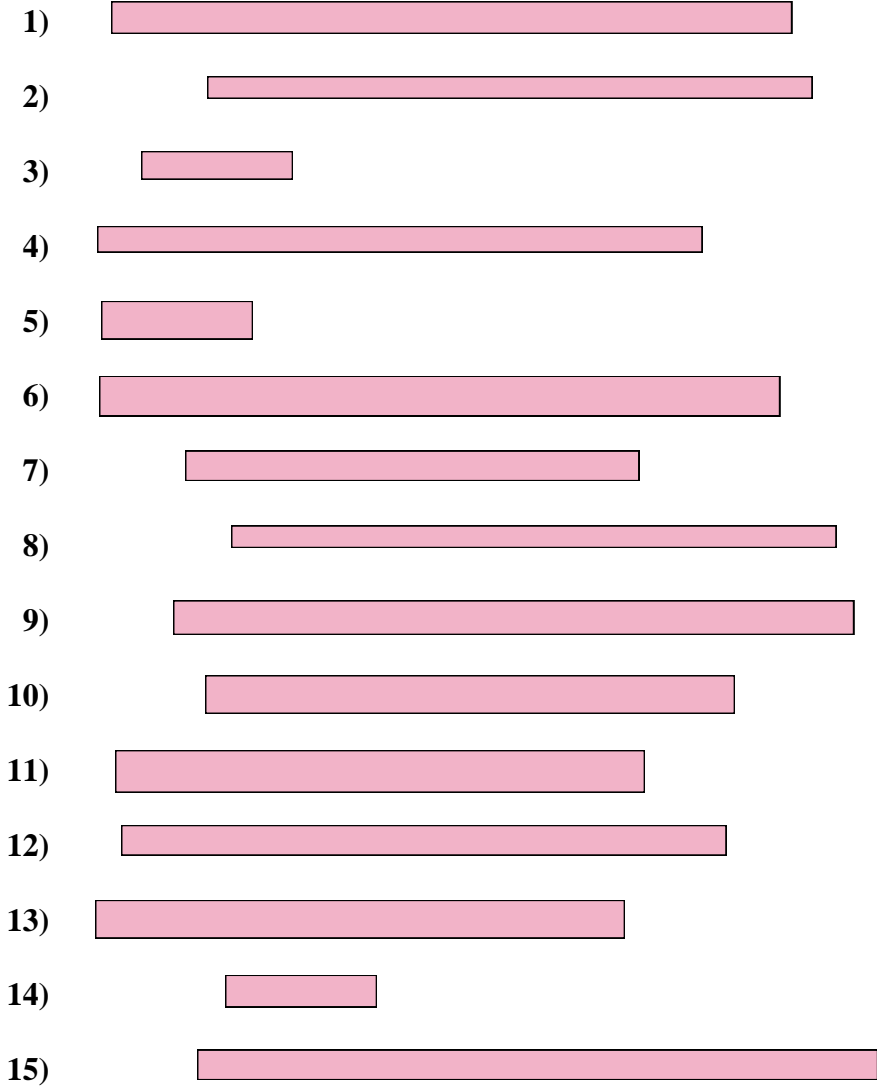
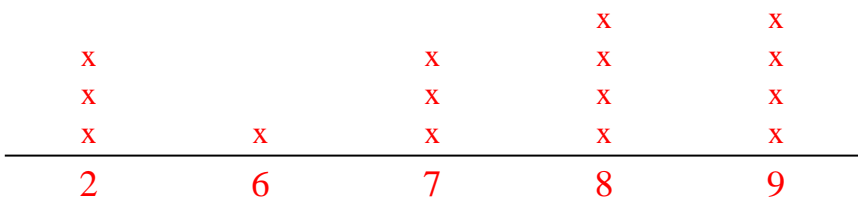


Diagrama de puntos



Respuestas

- 1. 9
- 2. 8
- 3. 2
- 4. 8
- 5. 2
- 6. 9
- 7. 6
- 8. 8
- 9. 9
- 10. 7
- 11. 7
- 12. 8
- 13. 7
- 14. 2
- 15. 9