




Medir cada una de las barras (en centímetros) y después generar un diagrama basado en la información.

**Respuestas**



1. \_\_\_\_\_



2. \_\_\_\_\_



3. \_\_\_\_\_



4. \_\_\_\_\_



5. \_\_\_\_\_



6. \_\_\_\_\_



7. \_\_\_\_\_




8. \_\_\_\_\_



9. \_\_\_\_\_



10. \_\_\_\_\_



11. \_\_\_\_\_



12. \_\_\_\_\_



13. \_\_\_\_\_



14. \_\_\_\_\_



15. \_\_\_\_\_

Diagrama de puntos

\_\_\_\_\_



Medir cada una de las barras (en centímetros) y después generar un diagrama basado en la información.

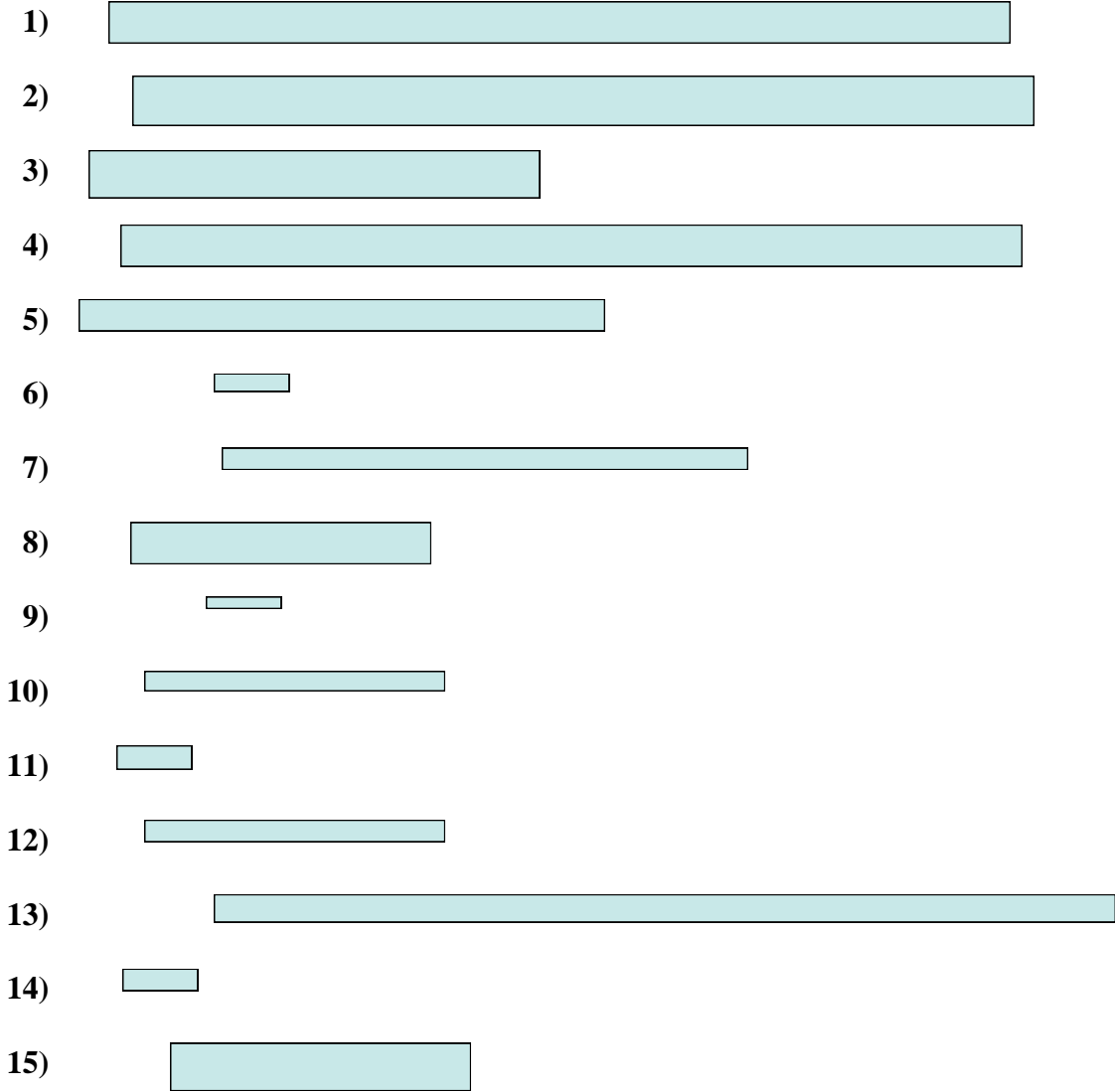
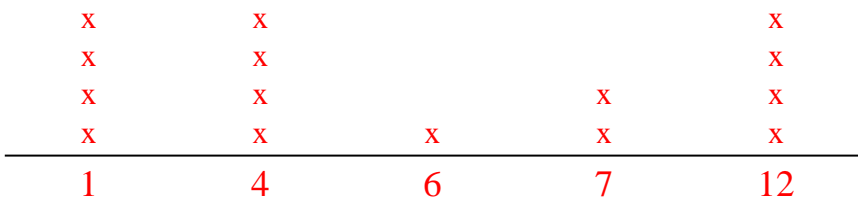


Diagrama de puntos



Respuestas

- 1. 12
- 2. 12
- 3. 6
- 4. 12
- 5. 7
- 6. 1
- 7. 7
- 8. 4
- 9. 1
- 10. 4
- 11. 12
- 12. 1
- 13. 4
- 14. 12
- 15. 1
- 16. 4