



Medir cada una de las barras (en centímetros) y después generar un diagrama basado en la información.

Respuestas

1)



1. _____

2)




2. _____

3)



3. _____

4)



4. _____

5)




5. _____

6)



6. _____

7)




7. _____

8)




8. _____

9)




9. _____

10)




10. _____

11)



11. _____

12)




12. _____

13)



13. _____

14)



14. _____

15)



15. _____

Diagrama de puntos



Medir cada una de las barras (en centímetros) y después generar un diagrama basado en la información.

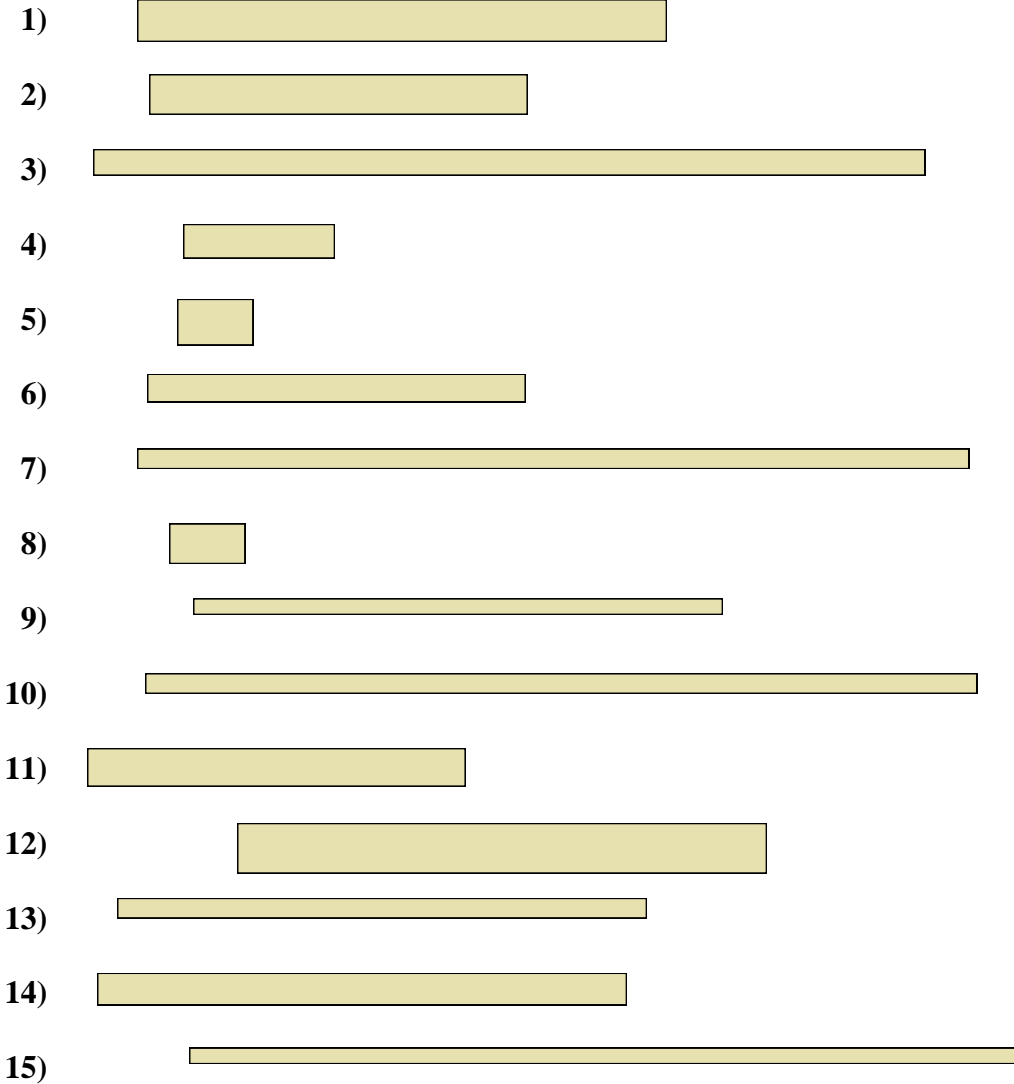


Diagrama de puntos



Respuestas

- 1. 7
- 2. 5
- 3. 11
- 4. 2
- 5. 1
- 6. 5
- 7. 11
- 8. 1
- 9. 7
- 10. 11
- 11. 5
- 12. 7
- 13. 7
- 14. 7
- 15. 11