



Medir el ancho de cada bloque en pulgadas y en centímetros.



**Respuestas**  
Ej(in). 5

Ej(cm). 12



1(in). \_\_\_\_\_

1(cm). \_\_\_\_\_



2(in). \_\_\_\_\_

2(cm). \_\_\_\_\_



3(in). \_\_\_\_\_

3(cm). \_\_\_\_\_



4(in). \_\_\_\_\_

4(cm). \_\_\_\_\_




5(in). \_\_\_\_\_

5(cm). \_\_\_\_\_



6(in). \_\_\_\_\_

6(cm). \_\_\_\_\_



7(in). \_\_\_\_\_

7(cm). \_\_\_\_\_



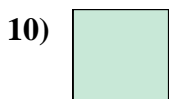
8(in). \_\_\_\_\_

8(cm). \_\_\_\_\_



9(in). \_\_\_\_\_

9(cm). \_\_\_\_\_



10(in). \_\_\_\_\_

10(cm). \_\_\_\_\_

In		1		2		3		4		5		6		7				
Cm	1	2	3	4	5	6	7	8	9	10	11	12	13	14	15	16	17	18
In		1		2		3		4		5		6		7				
Cm	1	2	3	4	5	6	7	8	9	10	11	12	13	14	15	16	17	18
In		1		2		3		4		5		6		7				
Cm	1	2	3	4	5	6	7	8	9	10	11	12	13	14	15	16	17	18
In		1		2		3		4		5		6		7				
Cm	1	2	3	4	5	6	7	8	9	10	11	12	13	14	15	16	17	18
In		1		2		3		4		5		6		7				
Cm	1	2	3	4	5	6	7	8	9	10	11	12	13	14	15	16	17	18
In		1		2		3		4		5		6		7				
Cm	1	2	3	4	5	6	7	8	9	10	11	12	13	14	15	16	17	18
In		1		2		3		4		5		6		7				
Cm	1	2	3	4	5	6	7	8	9	10	11	12	13	14	15	16	17	18
In		1		2		3		4		5		6		7				
Cm	1	2	3	4	5	6	7	8	9	10	11	12	13	14	15	16	17	18
In		1		2		3		4		5		6		7				
Cm	1	2	3	4	5	6	7	8	9	10	11	12	13	14	15	16	17	18



Medir el ancho de cada bloque en pulgadas y en centímetros.



**Respuestas**  
Ej(in). 5



Ej(cm). 12

1(in). 3 1/2



1(cm). 8 - 9

2(in). 4 1/2



2(cm). 11 - 12

3(in). 3



3(cm). 7 - 8

4(in). 5




4(cm). 12 - 13

5(in). 1



5(cm). 2 - 3

6(in). 4



6(cm). 10 - 11

7(in). 2



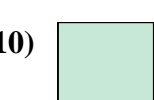
7(cm). 5 - 6

8(in). 5 1/2



8(cm). 13 - 14

9(in). 1 1/2



9(cm). 3 - 4

10(in). 0 1/2

10(cm). 1 - 2