



Compara el ancho de los dos bloques.

1) ¿Cuánto más largo es B que A (en pulgadas)?



2) ¿Cuánto más largo es A que B (en pulgadas)?





3) ¿Cuánto más largo es B que A (en pulgadas)?





4) ¿Cuánto más largo es A que B (en pulgadas)?




5) ¿Cuánto más largo es B que A (en pulgadas)?




6) ¿Cuánto más largo es A que B (en centímetros)?




7) ¿Cuánto más largo es A que B (en centímetros)?





8) ¿Cuánto más largo es B que A (en centímetros)?



9) ¿Cuánto más largo es B que A (en centímetros)?



10) ¿Cuánto más largo es A que B (en centímetros)?



Respuestas

1. _____

2. _____

3. _____

4. _____

5. _____

6. _____

7. _____

8. _____

9. _____

10. _____

In		1		2		3		4		5		6		7				
Cm	1	2	3	4	5	6	7	8	9	10	11	12	13	14	15	16	17	18
In		1		2		3		4		5		6		7				
Cm	1	2	3	4	5	6	7	8	9	10	11	12	13	14	15	16	17	18
In		1		2		3		4		5		6		7				
Cm	1	2	3	4	5	6	7	8	9	10	11	12	13	14	15	16	17	18
In		1		2		3		4		5		6		7				
Cm	1	2	3	4	5	6	7	8	9	10	11	12	13	14	15	16	17	18
In		1		2		3		4		5		6		7				
Cm	1	2	3	4	5	6	7	8	9	10	11	12	13	14	15	16	17	18
In		1		2		3		4		5		6		7				
Cm	1	2	3	4	5	6	7	8	9	10	11	12	13	14	15	16	17	18
In		1		2		3		4		5		6		7				
Cm	1	2	3	4	5	6	7	8	9	10	11	12	13	14	15	16	17	18
In		1		2		3		4		5		6		7				
Cm	1	2	3	4	5	6	7	8	9	10	11	12	13	14	15	16	17	18
In		1		2		3		4		5		6		7				
Cm	1	2	3	4	5	6	7	8	9	10	11	12	13	14	15	16	17	18



Compara el ancho de los dos bloques.

1) ¿Cuánto más largo es B que A (en pulgadas)?



2) ¿Cuánto más largo es A que B (en pulgadas)?





3) ¿Cuánto más largo es B que A (en pulgadas)?





4) ¿Cuánto más largo es A que B (en pulgadas)?





5) ¿Cuánto más largo es B que A (en pulgadas)?



6) ¿Cuánto más largo es A que B (en centímetros)?



7) ¿Cuánto más largo es A que B (en centímetros)?



8) ¿Cuánto más largo es B que A (en centímetros)?



9) ¿Cuánto más largo es B que A (en centímetros)?



10) ¿Cuánto más largo es A que B (en centímetros)?



Respuestas

1. 2

2. 3

3. 3

4. 2

5. 3

6. 3

7. 7

8. 8

9. 12

10. 8