


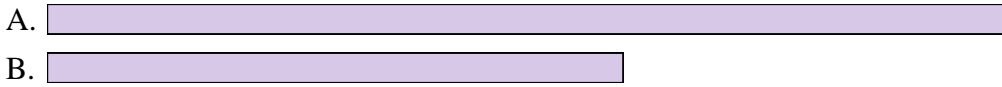


Compara el ancho de los dos bloques.

1) ¿Cuánto más largo es A que B (en pulgadas)?




2) ¿Cuánto más largo es A que B (en pulgadas)?




3) ¿Cuánto más largo es B que A (en pulgadas)?



4) ¿Cuánto más largo es A que B (en pulgadas)?




5) ¿Cuánto más largo es B que A (en pulgadas)?



6) ¿Cuánto más largo es B que A (en centímetros)?



7) ¿Cuánto más largo es A que B (en centímetros)?




8) ¿Cuánto más largo es B que A (en centímetros)?



9) ¿Cuánto más largo es B que A (en centímetros)?



10) ¿Cuánto más largo es A que B (en centímetros)?



Respuestas


1. _____
2. _____
3. _____
4. _____
5. _____
6. _____
7. _____
8. _____
9. _____
10. _____

In		1		2		3		4		5		6		7				
Cm	1	2	3	4	5	6	7	8	9	10	11	12	13	14	15	16	17	18
In		1		2		3		4		5		6		7				
Cm	1	2	3	4	5	6	7	8	9	10	11	12	13	14	15	16	17	18
In		1		2		3		4		5		6		7				
Cm	1	2	3	4	5	6	7	8	9	10	11	12	13	14	15	16	17	18
In		1		2		3		4		5		6		7				
Cm	1	2	3	4	5	6	7	8	9	10	11	12	13	14	15	16	17	18
In		1		2		3		4		5		6		7				
Cm	1	2	3	4	5	6	7	8	9	10	11	12	13	14	15	16	17	18
In		1		2		3		4		5		6		7				
Cm	1	2	3	4	5	6	7	8	9	10	11	12	13	14	15	16	17	18
In		1		2		3		4		5		6		7				
Cm	1	2	3	4	5	6	7	8	9	10	11	12	13	14	15	16	17	18
In		1		2		3		4		5		6		7				
Cm	1	2	3	4	5	6	7	8	9	10	11	12	13	14	15	16	17	18
In		1		2		3		4		5		6		7				
Cm	1	2	3	4	5	6	7	8	9	10	11	12	13	14	15	16	17	18

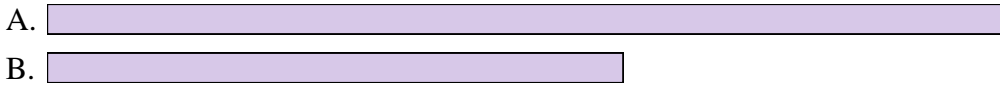


Compara el ancho de los dos bloques.

1) ¿Cuánto más largo es A que B (en pulgadas)?




2) ¿Cuánto más largo es A que B (en pulgadas)?




3) ¿Cuánto más largo es B que A (en pulgadas)?



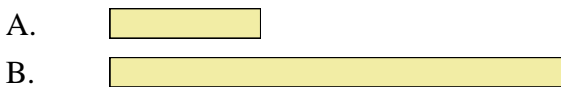
4) ¿Cuánto más largo es A que B (en pulgadas)?




5) ¿Cuánto más largo es B que A (en pulgadas)?



6) ¿Cuánto más largo es B que A (en centímetros)?



7) ¿Cuánto más largo es A que B (en centímetros)?




8) ¿Cuánto más largo es B que A (en centímetros)?



9) ¿Cuánto más largo es B que A (en centímetros)?



10) ¿Cuánto más largo es A que B (en centímetros)?



Respuestas

- 1. 4
- 2. 2
- 3. 3
- 4. 1
- 5. 2
- 6. 4
- 7. 2
- 8. 6
- 9. 7
- 10. 3