



**Compara el ancho de los dos bloques.**



1) ¿Cuánto más largo es A que B (en pulgadas)?



2) ¿Cuánto más largo es A que B (en pulgadas)?





3) ¿Cuánto más largo es B que A (en pulgadas)?



4) ¿Cuánto más largo es A que B (en pulgadas)?



5) ¿Cuánto más largo es A que B (en pulgadas)?



6) ¿Cuánto más largo es A que B (en centímetros)?



7) ¿Cuánto más largo es A que B (en centímetros)?



8) ¿Cuánto más largo es B que A (en centímetros)?



9) ¿Cuánto más largo es A que B (en centímetros)?



10) ¿Cuánto más largo es A que B (en centímetros)?



**Respuestas**

1. \_\_\_\_\_

2. \_\_\_\_\_

3. \_\_\_\_\_

4. \_\_\_\_\_

5. \_\_\_\_\_

6. \_\_\_\_\_

7. \_\_\_\_\_

8. \_\_\_\_\_

9. \_\_\_\_\_

10. \_\_\_\_\_

In		1		2		3		4		5		6		7				
Cm	1	2	3	4	5	6	7	8	9	10	11	12	13	14	15	16	17	18
In		1		2		3		4		5		6		7				
Cm	1	2	3	4	5	6	7	8	9	10	11	12	13	14	15	16	17	18
In		1		2		3		4		5		6		7				
Cm	1	2	3	4	5	6	7	8	9	10	11	12	13	14	15	16	17	18
In		1		2		3		4		5		6		7				
Cm	1	2	3	4	5	6	7	8	9	10	11	12	13	14	15	16	17	18
In		1		2		3		4		5		6		7				
Cm	1	2	3	4	5	6	7	8	9	10	11	12	13	14	15	16	17	18
In		1		2		3		4		5		6		7				
Cm	1	2	3	4	5	6	7	8	9	10	11	12	13	14	15	16	17	18
In		1		2		3		4		5		6		7				
Cm	1	2	3	4	5	6	7	8	9	10	11	12	13	14	15	16	17	18
In		1		2		3		4		5		6		7				
Cm	1	2	3	4	5	6	7	8	9	10	11	12	13	14	15	16	17	18
In		1		2		3		4		5		6		7				
Cm	1	2	3	4	5	6	7	8	9	10	11	12	13	14	15	16	17	18



**Compara el ancho de los dos bloques.**



1) ¿Cuánto más largo es A que B (en pulgadas)?



2) ¿Cuánto más largo es A que B (en pulgadas)?





3) ¿Cuánto más largo es B que A (en pulgadas)?



4) ¿Cuánto más largo es A que B (en pulgadas)?



5) ¿Cuánto más largo es A que B (en pulgadas)?



6) ¿Cuánto más largo es A que B (en centímetros)?



7) ¿Cuánto más largo es A que B (en centímetros)?




8) ¿Cuánto más largo es B que A (en centímetros)?



9) ¿Cuánto más largo es A que B (en centímetros)?



10) ¿Cuánto más largo es A que B (en centímetros)?



**Respuestas**

1. 2

2. 2

3. 1

4. 1

5. 1

6. 6

7. 4

8. 2

9. 10

10. 3