

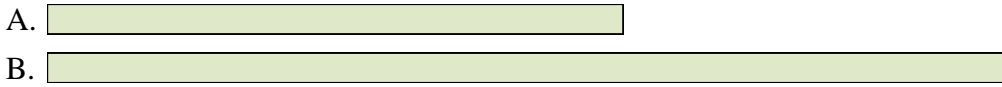


Compara el ancho de los dos bloques.


1) ¿Cuánto más largo es A que B (en pulgadas)?




2) ¿Cuánto más largo es B que A (en pulgadas)?



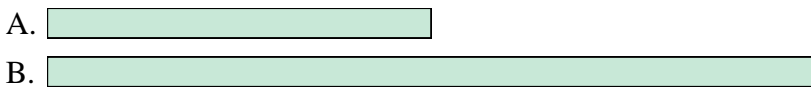
3) ¿Cuánto más largo es B que A (en pulgadas)?



4) ¿Cuánto más largo es A que B (en pulgadas)?



5) ¿Cuánto más largo es B que A (en pulgadas)?




6) ¿Cuánto más largo es A que B (en centímetros)?




7) ¿Cuánto más largo es B que A (en centímetros)?




8) ¿Cuánto más largo es A que B (en centímetros)?



9) ¿Cuánto más largo es A que B (en centímetros)?



10) ¿Cuánto más largo es A que B (en centímetros)?



Respuestas

1. _____
2. _____
3. _____
4. _____
5. _____
6. _____
7. _____
8. _____
9. _____
10. _____

In		1		2		3		4		5		6		7				
Cm	1	2	3	4	5	6	7	8	9	10	11	12	13	14	15	16	17	18
In		1		2		3		4		5		6		7				
Cm	1	2	3	4	5	6	7	8	9	10	11	12	13	14	15	16	17	18
In		1		2		3		4		5		6		7				
Cm	1	2	3	4	5	6	7	8	9	10	11	12	13	14	15	16	17	18
In		1		2		3		4		5		6		7				
Cm	1	2	3	4	5	6	7	8	9	10	11	12	13	14	15	16	17	18
In		1		2		3		4		5		6		7				
Cm	1	2	3	4	5	6	7	8	9	10	11	12	13	14	15	16	17	18
In		1		2		3		4		5		6		7				
Cm	1	2	3	4	5	6	7	8	9	10	11	12	13	14	15	16	17	18
In		1		2		3		4		5		6		7				
Cm	1	2	3	4	5	6	7	8	9	10	11	12	13	14	15	16	17	18
In		1		2		3		4		5		6		7				
Cm	1	2	3	4	5	6	7	8	9	10	11	12	13	14	15	16	17	18
In		1		2		3		4		5		6		7				
Cm	1	2	3	4	5	6	7	8	9	10	11	12	13	14	15	16	17	18





Compara el ancho de los dos bloques.



1) ¿Cuánto más largo es A que B (en pulgadas)?



2) ¿Cuánto más largo es B que A (en pulgadas)?





3) ¿Cuánto más largo es B que A (en pulgadas)?



4) ¿Cuánto más largo es A que B (en pulgadas)?



5) ¿Cuánto más largo es B que A (en pulgadas)?



6) ¿Cuánto más largo es A que B (en centímetros)?



7) ¿Cuánto más largo es B que A (en centímetros)?





8) ¿Cuánto más largo es A que B (en centímetros)?



9) ¿Cuánto más largo es A que B (en centímetros)?



10) ¿Cuánto más largo es A que B (en centímetros)?



Respuestas

1. 2

2. 2

3. 4

4. 3

5. 2

6. 7

7. 9

8. 10

9. 6

10. 9