



**Compara el ancho de los dos bloques.**



1) ¿Cuánto más largo es B que A (en pulgadas)?





2) ¿Cuánto más largo es A que B (en pulgadas)?




3) ¿Cuánto más largo es A que B (en pulgadas)?




4) ¿Cuánto más largo es A que B (en pulgadas)?



5) ¿Cuánto más largo es B que A (en pulgadas)?




6) ¿Cuánto más largo es A que B (en centímetros)?



7) ¿Cuánto más largo es A que B (en centímetros)?



8) ¿Cuánto más largo es A que B (en centímetros)?



9) ¿Cuánto más largo es B que A (en centímetros)?



10) ¿Cuánto más largo es B que A (en centímetros)?



**Respuestas**

1. \_\_\_\_\_

2. \_\_\_\_\_

3. \_\_\_\_\_

4. \_\_\_\_\_

5. \_\_\_\_\_

6. \_\_\_\_\_

7. \_\_\_\_\_

8. \_\_\_\_\_

9. \_\_\_\_\_


10. \_\_\_\_\_

In		1		2		3		4		5		6		7				
Cm	1	2	3	4	5	6	7	8	9	10	11	12	13	14	15	16	17	18
In		1		2		3		4		5		6		7				
Cm	1	2	3	4	5	6	7	8	9	10	11	12	13	14	15	16	17	18
In		1		2		3		4		5		6		7				
Cm	1	2	3	4	5	6	7	8	9	10	11	12	13	14	15	16	17	18
In		1		2		3		4		5		6		7				
Cm	1	2	3	4	5	6	7	8	9	10	11	12	13	14	15	16	17	18
In		1		2		3		4		5		6		7				
Cm	1	2	3	4	5	6	7	8	9	10	11	12	13	14	15	16	17	18
In		1		2		3		4		5		6		7				
Cm	1	2	3	4	5	6	7	8	9	10	11	12	13	14	15	16	17	18
In		1		2		3		4		5		6		7				
Cm	1	2	3	4	5	6	7	8	9	10	11	12	13	14	15	16	17	18
In		1		2		3		4		5		6		7				
Cm	1	2	3	4	5	6	7	8	9	10	11	12	13	14	15	16	17	18
In		1		2		3		4		5		6		7				
Cm	1	2	3	4	5	6	7	8	9	10	11	12	13	14	15	16	17	18




**Compara el ancho de los dos bloques.**


1) ¿Cuánto más largo es B que A (en pulgadas)?




2) ¿Cuánto más largo es A que B (en pulgadas)?



3) ¿Cuánto más largo es A que B (en pulgadas)?




4) ¿Cuánto más largo es A que B (en pulgadas)?



5) ¿Cuánto más largo es B que A (en pulgadas)?



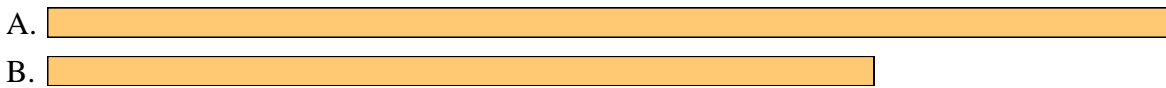
6) ¿Cuánto más largo es A que B (en centímetros)?




7) ¿Cuánto más largo es A que B (en centímetros)?



8) ¿Cuánto más largo es A que B (en centímetros)?



9) ¿Cuánto más largo es B que A (en centímetros)?



10) ¿Cuánto más largo es B que A (en centímetros)?



**Respuestas**

- 1.     **1**
- 2.     **2**
- 3.     **1**
- 4.     **1**
- 5.     **2**
- 6.     **7**
- 7.     **1**
- 8.     **4**
- 9.     **1**
- 10.     **9**