




Compara el ancho de los dos bloques.

1) ¿Cuánto más largo es A que B (en pulgadas)?





2) ¿Cuánto más largo es A que B (en pulgadas)?





3) ¿Cuánto más largo es A que B (en pulgadas)?



4) ¿Cuánto más largo es B que A (en pulgadas)?



5) ¿Cuánto más largo es A que B (en pulgadas)?



6) ¿Cuánto más largo es B que A (en centímetros)?



7) ¿Cuánto más largo es A que B (en centímetros)?



8) ¿Cuánto más largo es A que B (en centímetros)?



9) ¿Cuánto más largo es A que B (en centímetros)?



10) ¿Cuánto más largo es A que B (en centímetros)?



Respuestas

1. _____

2. _____

3. _____

4. _____

5. _____

6. _____

7. _____

8. _____

9. _____


10. _____

In		1		2		3		4		5		6		7				
Cm	1	2	3	4	5	6	7	8	9	10	11	12	13	14	15	16	17	18
In		1		2		3		4		5		6		7				
Cm	1	2	3	4	5	6	7	8	9	10	11	12	13	14	15	16	17	18
In		1		2		3		4		5		6		7				
Cm	1	2	3	4	5	6	7	8	9	10	11	12	13	14	15	16	17	18
In		1		2		3		4		5		6		7				
Cm	1	2	3	4	5	6	7	8	9	10	11	12	13	14	15	16	17	18
In		1		2		3		4		5		6		7				
Cm	1	2	3	4	5	6	7	8	9	10	11	12	13	14	15	16	17	18
In		1		2		3		4		5		6		7				
Cm	1	2	3	4	5	6	7	8	9	10	11	12	13	14	15	16	17	18
In		1		2		3		4		5		6		7				
Cm	1	2	3	4	5	6	7	8	9	10	11	12	13	14	15	16	17	18
In		1		2		3		4		5		6		7				
Cm	1	2	3	4	5	6	7	8	9	10	11	12	13	14	15	16	17	18
In		1		2		3		4		5		6		7				
Cm	1	2	3	4	5	6	7	8	9	10	11	12	13	14	15	16	17	18




Compara el ancho de los dos bloques.

1) ¿Cuánto más largo es A que B (en pulgadas)?





2) ¿Cuánto más largo es A que B (en pulgadas)?





3) ¿Cuánto más largo es A que B (en pulgadas)?




4) ¿Cuánto más largo es B que A (en pulgadas)?



5) ¿Cuánto más largo es A que B (en pulgadas)?





6) ¿Cuánto más largo es B que A (en centímetros)?



7) ¿Cuánto más largo es A que B (en centímetros)?




8) ¿Cuánto más largo es A que B (en centímetros)?



9) ¿Cuánto más largo es A que B (en centímetros)?



10) ¿Cuánto más largo es A que B (en centímetros)?



Respuestas

1. 3

2. 3

3. 1

4. 1

5. 1

6. 8

7. 5

8. 3

9. 1

10. 10