



**Compara el ancho de los dos bloques.**

**Respuestas**

1) ¿Cuánto más largo es B que A (en pulgadas)?

A. 

B. 

1. \_\_\_\_\_


2) ¿Cuánto más largo es B que A (en pulgadas)?


A. 

B. 

2. \_\_\_\_\_


3) ¿Cuánto más largo es B que A (en pulgadas)?


A. 

B. 

3. \_\_\_\_\_

4) ¿Cuánto más largo es B que A (en pulgadas)?

A. 

B. 

4. \_\_\_\_\_

5) ¿Cuánto más largo es A que B (en pulgadas)?


A. 

B. 

5. \_\_\_\_\_

6) ¿Cuánto más largo es B que A (en centímetros)?

A. 

B. 

6. \_\_\_\_\_

7) ¿Cuánto más largo es A que B (en centímetros)?

A. 

B. 

7. \_\_\_\_\_

8) ¿Cuánto más largo es B que A (en centímetros)?

A. 

B. 

8. \_\_\_\_\_


9) ¿Cuánto más largo es A que B (en centímetros)?

A. 

B. 

9. \_\_\_\_\_

10) ¿Cuánto más largo es A que B (en centímetros)?

A. 

B. 

10. \_\_\_\_\_

In		1		2		3		4		5		6		7				
Cm	1	2	3	4	5	6	7	8	9	10	11	12	13	14	15	16	17	18
In		1		2		3		4		5		6		7				
Cm	1	2	3	4	5	6	7	8	9	10	11	12	13	14	15	16	17	18
In		1		2		3		4		5		6		7				
Cm	1	2	3	4	5	6	7	8	9	10	11	12	13	14	15	16	17	18
In		1		2		3		4		5		6		7				
Cm	1	2	3	4	5	6	7	8	9	10	11	12	13	14	15	16	17	18
In		1		2		3		4		5		6		7				
Cm	1	2	3	4	5	6	7	8	9	10	11	12	13	14	15	16	17	18
In		1		2		3		4		5		6		7				
Cm	1	2	3	4	5	6	7	8	9	10	11	12	13	14	15	16	17	18
In		1		2		3		4		5		6		7				
Cm	1	2	3	4	5	6	7	8	9	10	11	12	13	14	15	16	17	18
In		1		2		3		4		5		6		7				
Cm	1	2	3	4	5	6	7	8	9	10	11	12	13	14	15	16	17	18
In		1		2		3		4		5		6		7				
Cm	1	2	3	4	5	6	7	8	9	10	11	12	13	14	15	16	17	18



**Compara el ancho de los dos bloques.**

1) ¿Cuánto más largo es B que A (en pulgadas)?

A.

B.

2) ¿Cuánto más largo es B que A (en pulgadas)?

A.

B.

3) ¿Cuánto más largo es B que A (en pulgadas)?

A.

B.

4) ¿Cuánto más largo es B que A (en pulgadas)?

A.

B.

5) ¿Cuánto más largo es A que B (en pulgadas)?

A.

B.

6) ¿Cuánto más largo es B que A (en centímetros)?

A.

B.

7) ¿Cuánto más largo es A que B (en centímetros)?

A.

B.

8) ¿Cuánto más largo es B que A (en centímetros)?

A.

B.

9) ¿Cuánto más largo es A que B (en centímetros)?

A.

B.

10) ¿Cuánto más largo es A que B (en centímetros)?

A.

B.

**Respuestas**

1. 2

2. 2

3. 2

4. 1

5. 3

6. 5

7. 1

8. 6

9. 12

10. 9