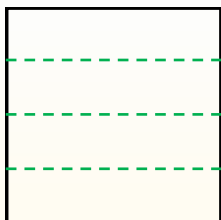


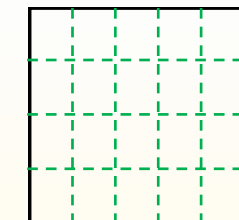
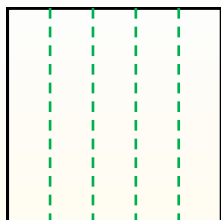


Partir la forma como se describe y después contar para encontrar el número de cajas.

Las filas van de izquierda a derecha.




Las columnas van de arriba a abajo. Este cuenta con 4 filas y 5 columnas. Hay 20 cajas en total.




Respuestas

1. _____
2. _____
3. _____
4. _____
5. _____
6. _____
7. _____
8. _____
9. _____


1) 2 filas
4 columnas




2) 3 filas
3 columnas




3) 2 filas
2 columnas




4) 5 filas
5 columnas




5) 2 filas
5 columnas




6) 4 filas
2 columnas




7) 5 filas
4 columnas



8) 3 filas
2 columnas



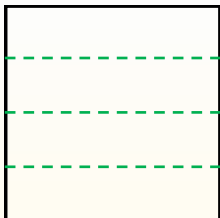
9) 5 filas
3 columnas



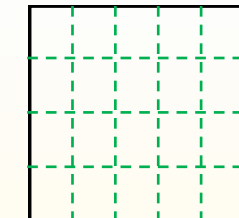
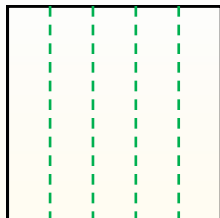


Partir la forma como se describe y después contar para encontrar el número de cajas.

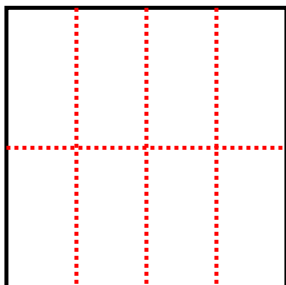
Las filas van de izquierda a derecha.



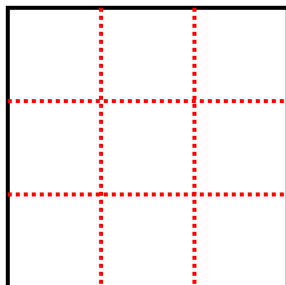
Las columnas van de arriba a abajo. Este cuenta con 4 filas y 5 columnas. Hay 20 cajas en total.



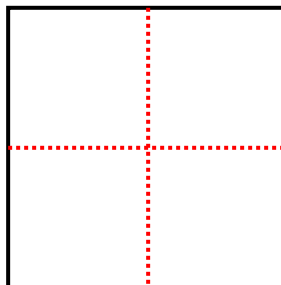
1) 2 filas
4 columnas



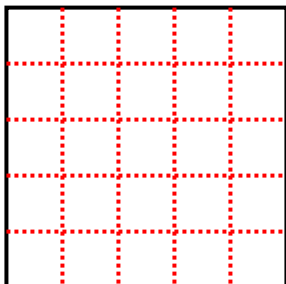
2) 3 filas
3 columnas



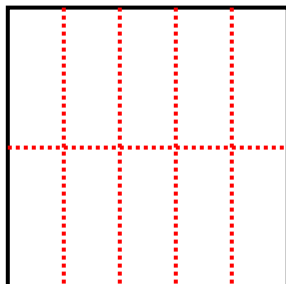
3) 2 filas
2 columnas



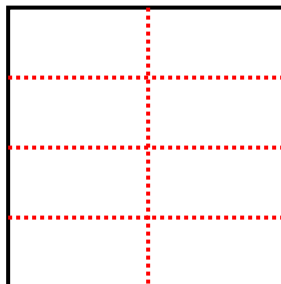
4) 5 filas
5 columnas



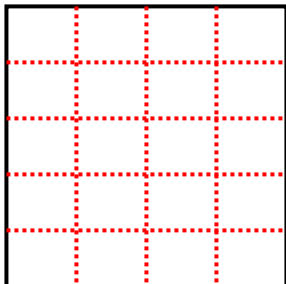
5) 2 filas
5 columnas



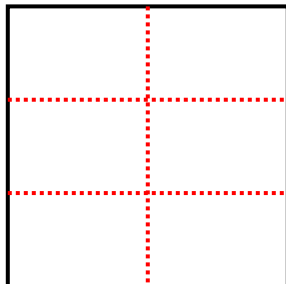
6) 4 filas
2 columnas



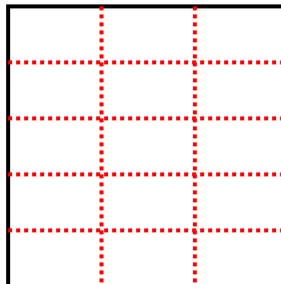
7) 5 filas
4 columnas



8) 3 filas
2 columnas



9) 5 filas
3 columnas



Respuestas

1. 8

2. 9

3. 4

4. 25

5. 10

6. 8

7. 20

8. 6

9. 15