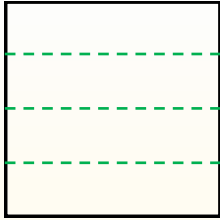


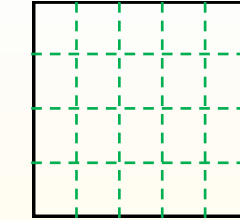
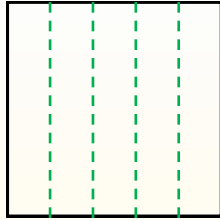


Partir la forma como se describe y después contar para encontrar el número de cajas.

Las filas van de izquierda a derecha.




Las columnas van de arriba a abajo. Este cuenta con 4 filas y 5 columnas. Hay 20 cajas en total.




Respuestas

1. _____
2. _____
3. _____
4. _____
5. _____
6. _____
7. _____
8. _____
9. _____

1) 2 filas
5 columnas




2) 5 filas
4 columnas




3) 4 filas
2 columnas



4) 2 filas
3 columnas




5) 5 filas
2 columnas




6) 3 filas
2 columnas



7) 3 filas
3 columnas



8) 2 filas
4 columnas



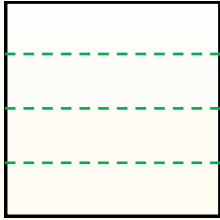
9) 3 filas
4 columnas



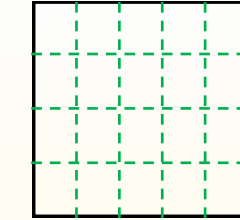
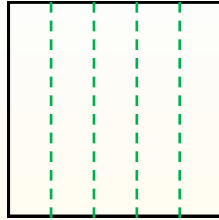


Partir la forma como se describe y después contar para encontrar el número de cajas.

Las filas van de izquierda a derecha.



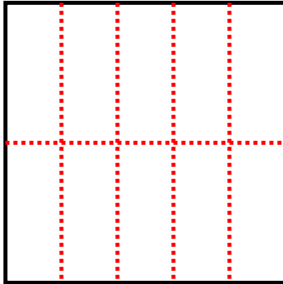
Las columnas van de arriba a abajo. Este cuenta con 4 filas y 5 columnas. Hay 20 cajas en total.



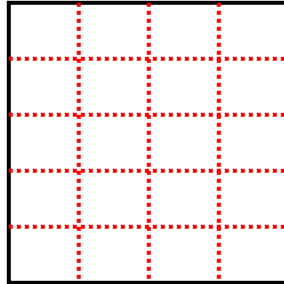
Respuestas

- 1. 10
- 2. 20
- 3. 8
- 4. 6
- 5. 10
- 6. 6
- 7. 9
- 8. 8
- 9. 12

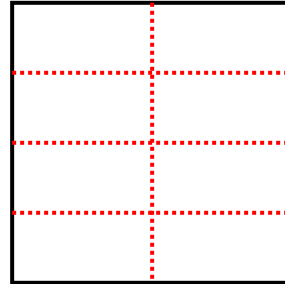
1) 2 filas
5 columnas



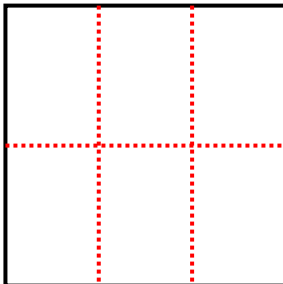
2) 5 filas
4 columnas



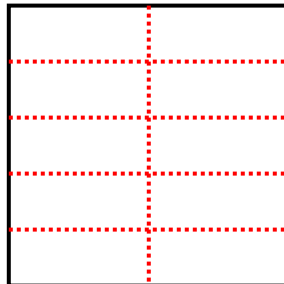
3) 4 filas
2 columnas



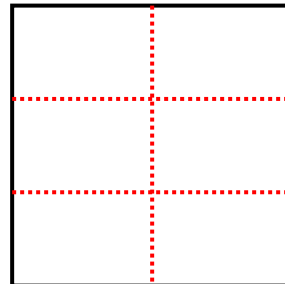
4) 2 filas
3 columnas



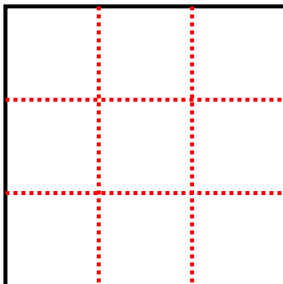
5) 5 filas
2 columnas



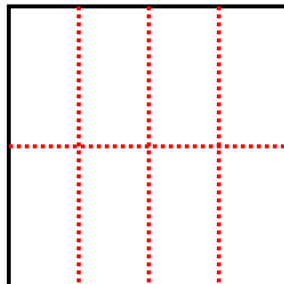
6) 3 filas
2 columnas



7) 3 filas
3 columnas



8) 2 filas
4 columnas



9) 3 filas
4 columnas

