




Expresar cada grupo como un problema de multiplicación.

Ej)



Respuestas

Ej. $6 \times 7 = 42$

1. _____

2. _____

3. _____

4. _____

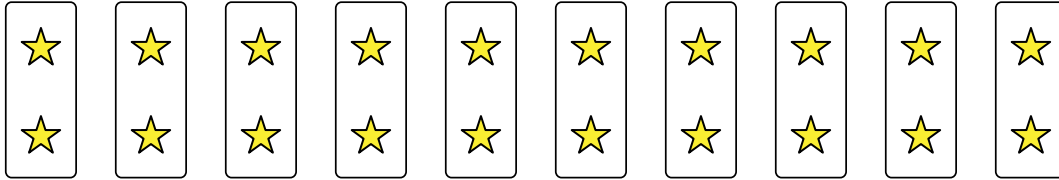
5. _____

6. _____

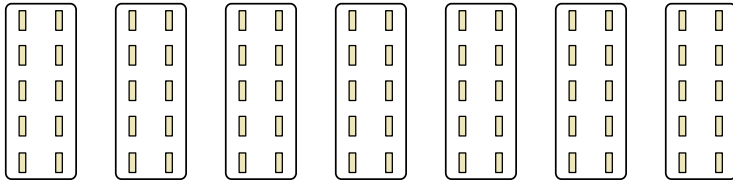
7. _____

8. _____

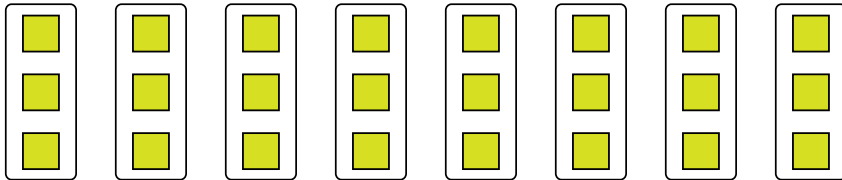
1)




2)



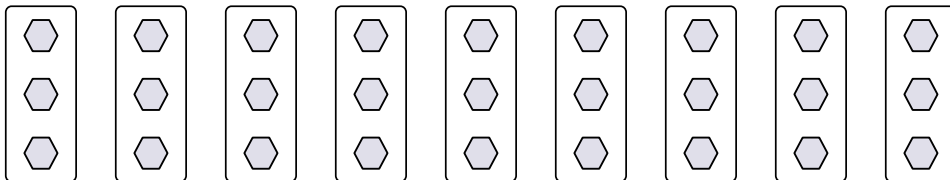
3)



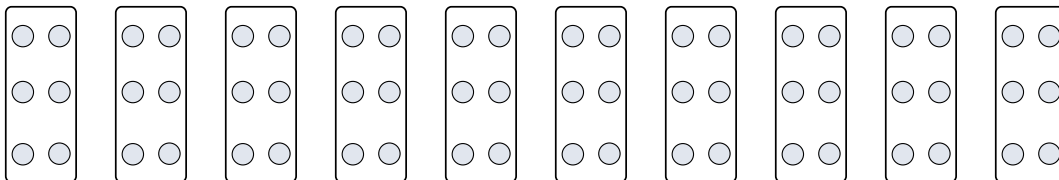
4)



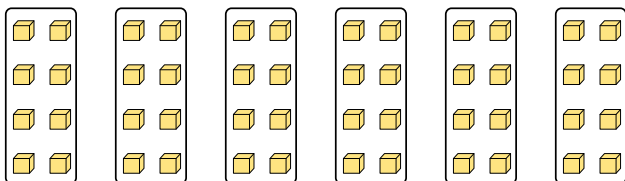
5)




6)



7)



8)





Expresar cada grupo como un problema de multiplicación.

Ej)

1)

2)

3)

4)

5)

6)

7)

8)

Respuestas

- Ej. $6 \times 7 = 42$
1. $10 \times 2 = 20$
2. $7 \times 10 = 70$
3. $8 \times 3 = 24$
4. $7 \times 3 = 21$
5. $9 \times 3 = 27$
6. $10 \times 6 = 60$
7. $6 \times 8 = 48$
8. $10 \times 3 = 30$