



**Resolver cada problema.****Respuestas**

1) ¿Qué letra representa mejor -17?



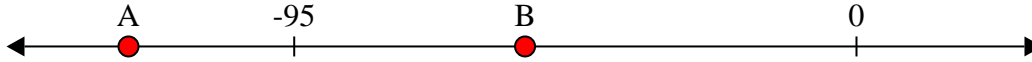
1. _____

2) ¿Qué letra representa mejor -92?




2. _____

3) ¿Qué letra representa mejor -56?




3. _____

4) ¿Qué letra representa mejor -52?




4. _____

5) ¿Qué letra representa mejor -14?



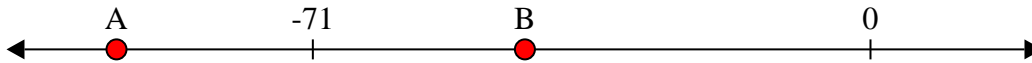
5. _____

6) ¿Qué letra representa mejor -21?




6. _____

7) ¿Qué letra representa mejor -96?



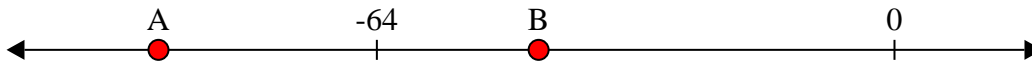
7. _____

8) ¿Qué letra representa mejor -28?




8. _____

9) ¿Qué letra representa mejor -91?



9. _____

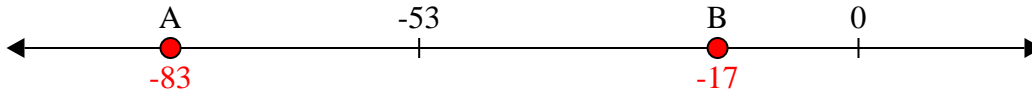
10) ¿Qué letra representa mejor -40?



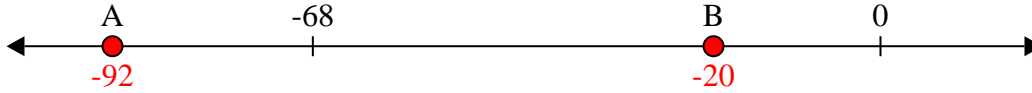
10. _____

**Resolver cada problema.**

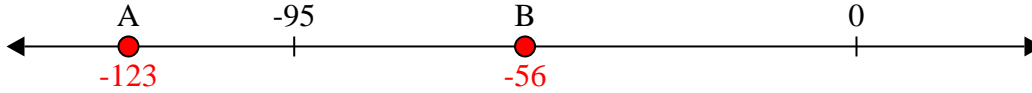
1) ¿Qué letra representa mejor -17?



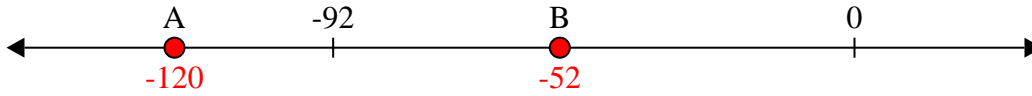
2) ¿Qué letra representa mejor -92?



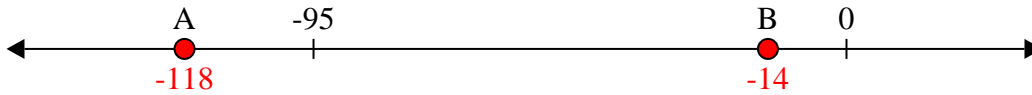
3) ¿Qué letra representa mejor -56?



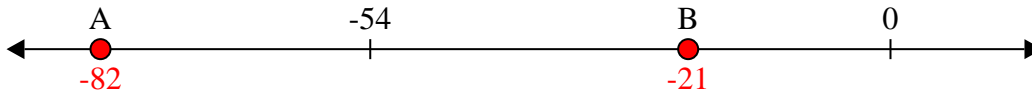
4) ¿Qué letra representa mejor -52?



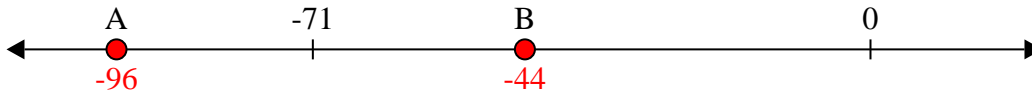
5) ¿Qué letra representa mejor -14?



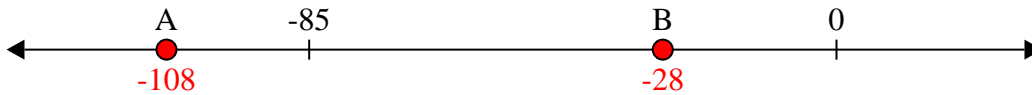
6) ¿Qué letra representa mejor -21?



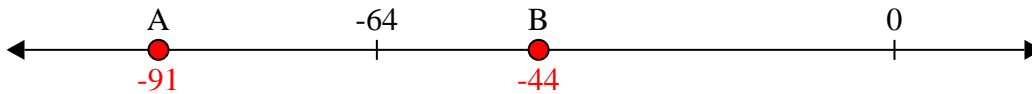
7) ¿Qué letra representa mejor -96?



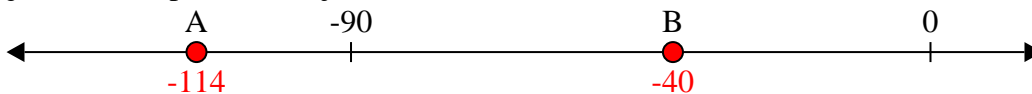
8) ¿Qué letra representa mejor -28?



9) ¿Qué letra representa mejor -91?



10) ¿Qué letra representa mejor -40?

**Respuestas**1. **B**2. **A**3. **B**4. **B**5. **B**6. **B**7. **A**8. **B**9. **A**10. **B**