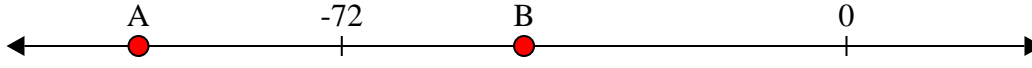



**Resolver cada problema.**


1) ¿Qué letra representa mejor -101?




2) ¿Qué letra representa mejor -27?



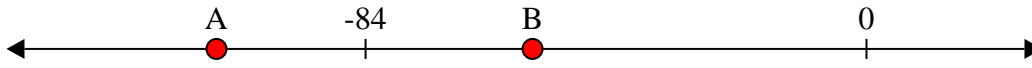
3) ¿Qué letra representa mejor -27?



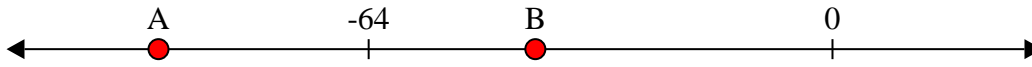
4) ¿Qué letra representa mejor -114?




5) ¿Qué letra representa mejor -56?




6) ¿Qué letra representa mejor -93?



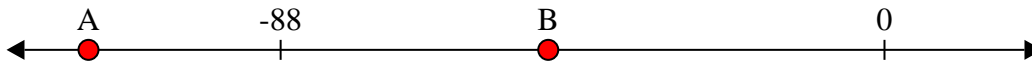
7) ¿Qué letra representa mejor -85?




8) ¿Qué letra representa mejor -69?



9) ¿Qué letra representa mejor -116?



10) ¿Qué letra representa mejor -88?

**Respuestas**

1. _____

2. _____

3. _____

4. _____

5. _____

6. _____

7. _____

8. _____

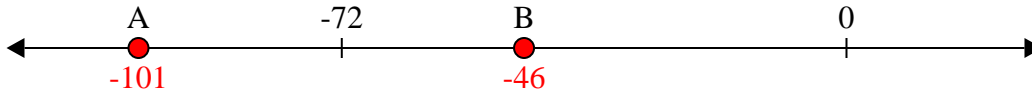
9. _____

10. _____

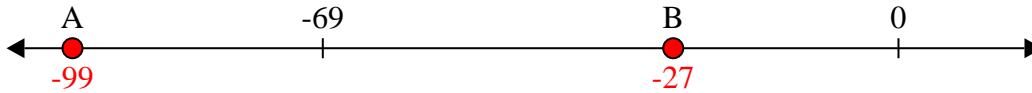


Resolver cada problema.

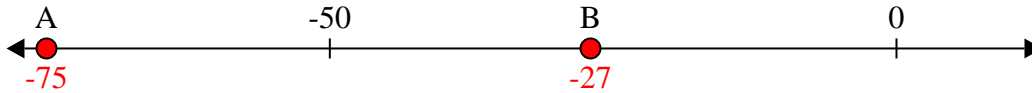
1) ¿Qué letra representa mejor -101?



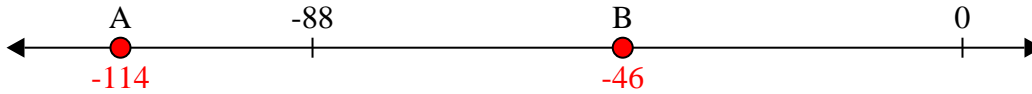
2) ¿Qué letra representa mejor -27?



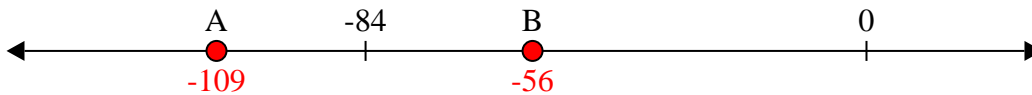
3) ¿Qué letra representa mejor -27?



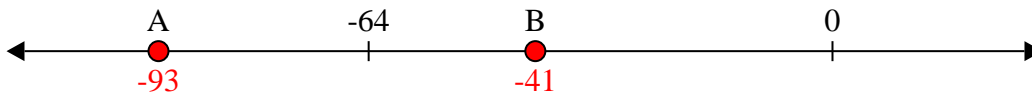
4) ¿Qué letra representa mejor -114?




5) ¿Qué letra representa mejor -56?



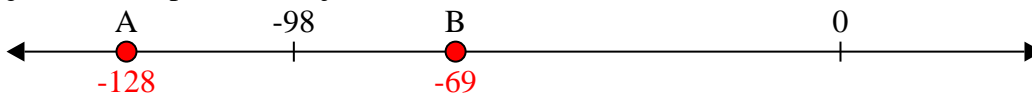
6) ¿Qué letra representa mejor -93?



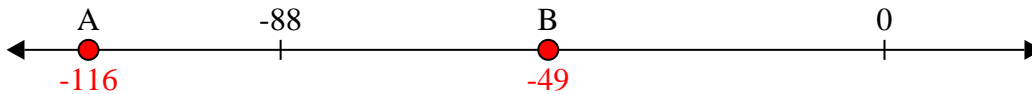
7) ¿Qué letra representa mejor -85?



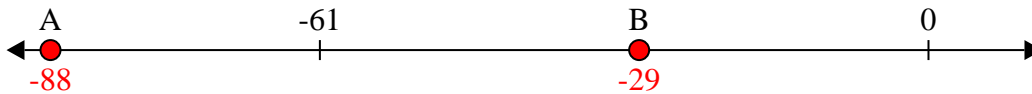
8) ¿Qué letra representa mejor -69?



9) ¿Qué letra representa mejor -116?



10) ¿Qué letra representa mejor -88?

**Respuestas**1. **A**2. **B**3. **B**4. **A**5. **B**6. **A**7. **A**8. **B**9. **A**10. **A**