



**Resolver cada problema.****Respuestas**

1) ¿Qué letra representa mejor -11?




1. \_\_\_\_\_

2) ¿Qué letra representa mejor -83?




2. \_\_\_\_\_

3) ¿Qué letra representa mejor -62?



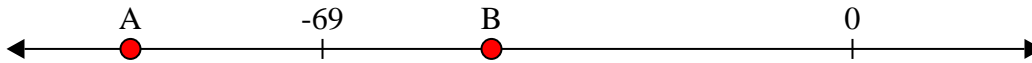
3. \_\_\_\_\_

4) ¿Qué letra representa mejor -29?




4. \_\_\_\_\_

5) ¿Qué letra representa mejor -47?




5. \_\_\_\_\_

6) ¿Qué letra representa mejor -123?




6. \_\_\_\_\_

7) ¿Qué letra representa mejor -19?




7. \_\_\_\_\_

8) ¿Qué letra representa mejor -24?




8. \_\_\_\_\_

9) ¿Qué letra representa mejor -49?



9. \_\_\_\_\_

10) ¿Qué letra representa mejor -42?

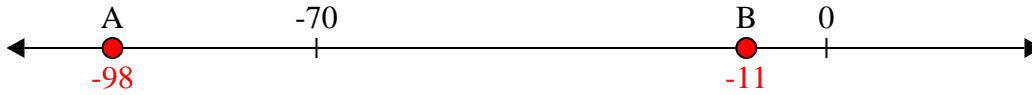


10. \_\_\_\_\_

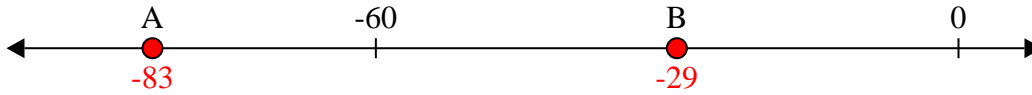


Resolver cada problema.

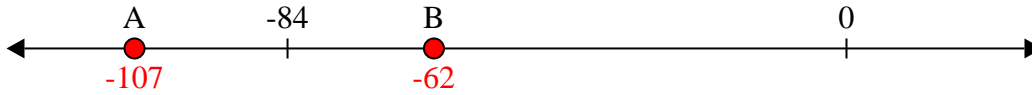
1) ¿Qué letra representa mejor -11?



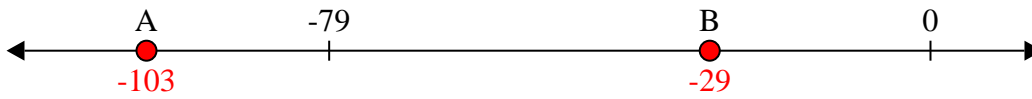
2) ¿Qué letra representa mejor -83?



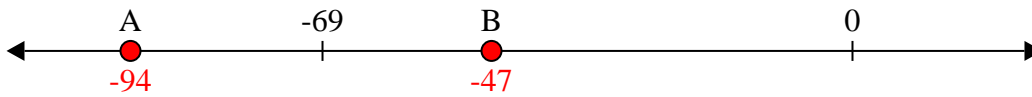
3) ¿Qué letra representa mejor -62?



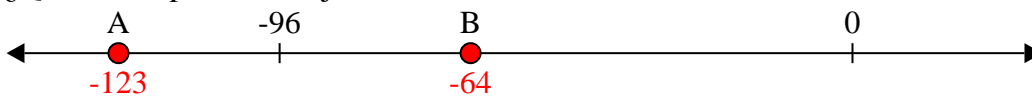
4) ¿Qué letra representa mejor -29?




5) ¿Qué letra representa mejor -47?




6) ¿Qué letra representa mejor -123?



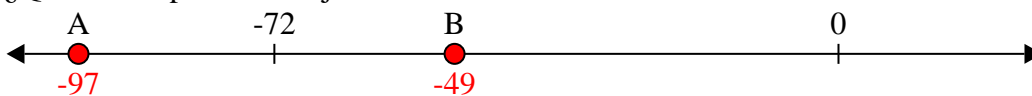
7) ¿Qué letra representa mejor -19?



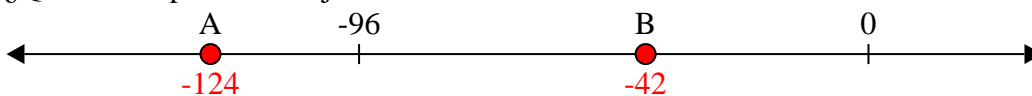
8) ¿Qué letra representa mejor -24?



9) ¿Qué letra representa mejor -49?



10) ¿Qué letra representa mejor -42?

**Respuestas**1. **B**2. **A**3. **B**4. **B**5. **B**6. **A**7. **B**8. **B**9. **B**10. **B**