



**Resolver cada problema.**


1) ¿Qué letra representa mejor -25?




2) ¿Qué letra representa mejor -108?




3) ¿Qué letra representa mejor -103?



4) ¿Qué letra representa mejor -15?



5) ¿Qué letra representa mejor -117?




6) ¿Qué letra representa mejor -45?




7) ¿Qué letra representa mejor -117?



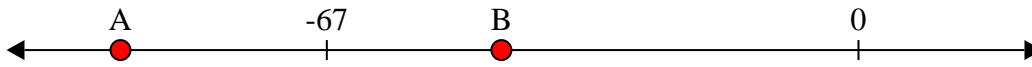
8) ¿Qué letra representa mejor -24?



9) ¿Qué letra representa mejor -99?



10) ¿Qué letra representa mejor -45?

**Respuestas**

1. _____

2. _____

3. _____

4. _____

5. _____

6. _____

7. _____

8. _____

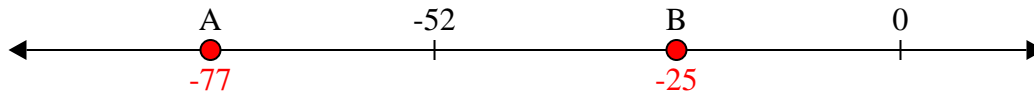
9. _____

10. _____

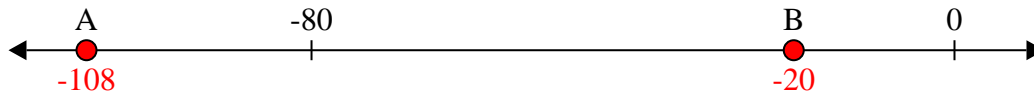


Resolver cada problema.


1) ¿Qué letra representa mejor -25?




2) ¿Qué letra representa mejor -108?



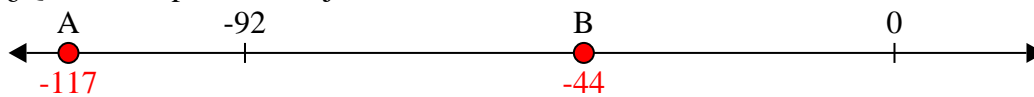
3) ¿Qué letra representa mejor -103?



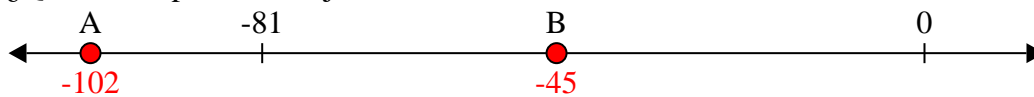
4) ¿Qué letra representa mejor -15?




5) ¿Qué letra representa mejor -117?




6) ¿Qué letra representa mejor -45?



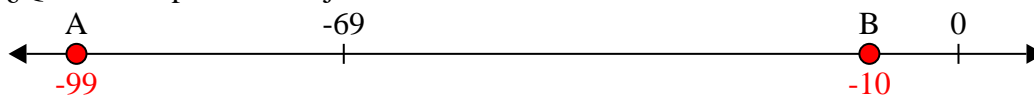
7) ¿Qué letra representa mejor -117?



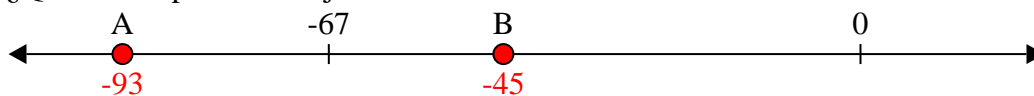
8) ¿Qué letra representa mejor -24?



9) ¿Qué letra representa mejor -99?



10) ¿Qué letra representa mejor -45?

**Respuestas**1. **B**2. **A**3. **A**4. **B**5. **A**6. **B**7. **A**8. **B**9. **A**10. **B**