





Resolver cada problema.


1) ¿Qué letra representa mejor -38?




2) ¿Qué letra representa mejor -114?




3) ¿Qué letra representa mejor -78?




4) ¿Qué letra representa mejor -105?



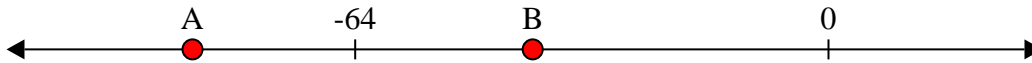
5) ¿Qué letra representa mejor -90?




6) ¿Qué letra representa mejor -22?




7) ¿Qué letra representa mejor -86?




8) ¿Qué letra representa mejor -96?



9) ¿Qué letra representa mejor -17?



10) ¿Qué letra representa mejor -10?



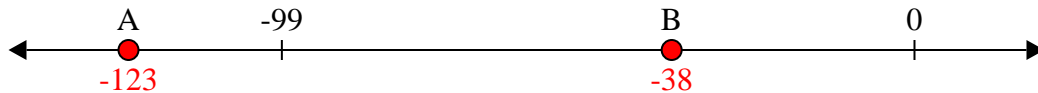
Respuestas

1. _____
2. _____
3. _____
4. _____
5. _____
6. _____
7. _____
8. _____
9. _____
10. _____

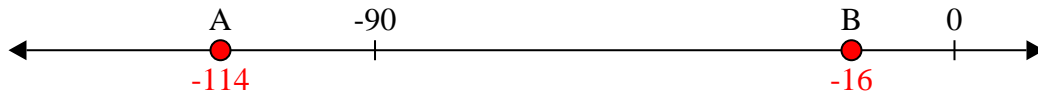


Resolver cada problema.

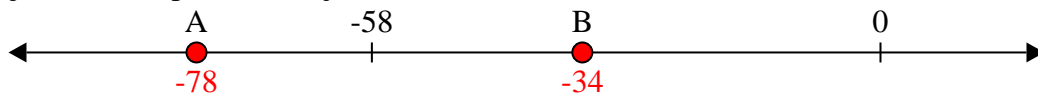
1) ¿Qué letra representa mejor -38?




2) ¿Qué letra representa mejor -114?




3) ¿Qué letra representa mejor -78?




4) ¿Qué letra representa mejor -105?



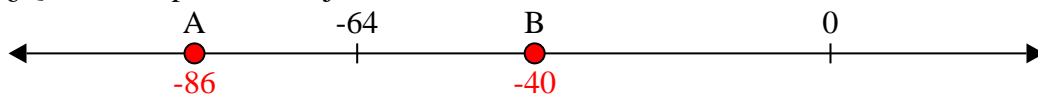
5) ¿Qué letra representa mejor -90?




6) ¿Qué letra representa mejor -22?




7) ¿Qué letra representa mejor -86?



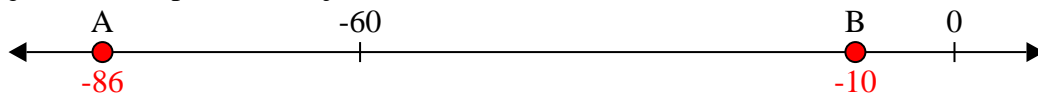
8) ¿Qué letra representa mejor -96?



9) ¿Qué letra representa mejor -17?



10) ¿Qué letra representa mejor -10?

**Respuestas**1. **B**2. **A**3. **A**4. **A**5. **A**6. **B**7. **A**8. **A**9. **B**10. **B**