




Resolver cada problema.


1) ¿Qué letra representa mejor -123?




2) ¿Qué letra representa mejor -25?




3) ¿Qué letra representa mejor -21?




4) ¿Qué letra representa mejor -35?



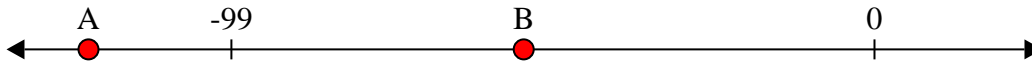
5) ¿Qué letra representa mejor -79?




6) ¿Qué letra representa mejor -14?




7) ¿Qué letra representa mejor -121?




8) ¿Qué letra representa mejor -34?



9) ¿Qué letra representa mejor -45?



10) ¿Qué letra representa mejor -73?



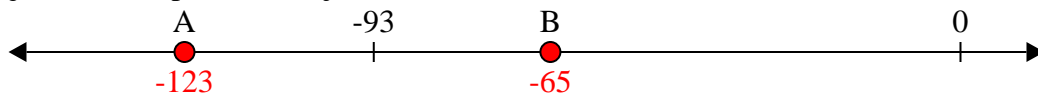
Respuestas

1. _____
2. _____
3. _____
4. _____
5. _____
6. _____
7. _____
8. _____
9. _____
10. _____




Resolver cada problema.


1) ¿Qué letra representa mejor -123?




2) ¿Qué letra representa mejor -25?




3) ¿Qué letra representa mejor -21?




4) ¿Qué letra representa mejor -35?



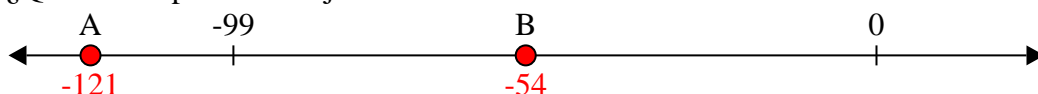
5) ¿Qué letra representa mejor -79?




6) ¿Qué letra representa mejor -14?



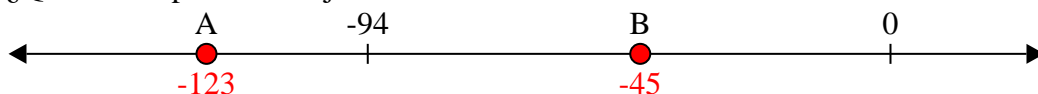
7) ¿Qué letra representa mejor -121?



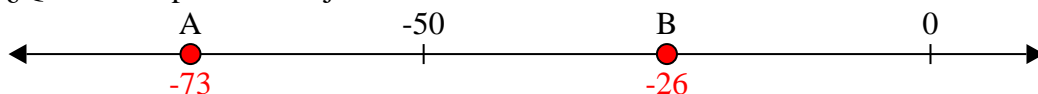
8) ¿Qué letra representa mejor -34?



9) ¿Qué letra representa mejor -45?



10) ¿Qué letra representa mejor -73?

**Respuestas**1. **A** 2. **B** 3. **B** 4. **B** 5. **A** 6. **B** 7. **A** 8. **B** 9. **B** 10. **A**