





Resolver cada problema.


1) ¿Qué letra representa mejor -95?



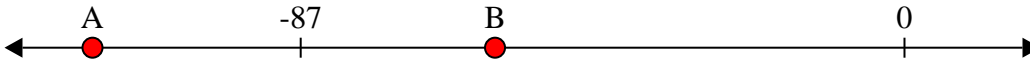
2) ¿Qué letra representa mejor -42?




3) ¿Qué letra representa mejor -87?




4) ¿Qué letra representa mejor -117?




5) ¿Qué letra representa mejor -53?




6) ¿Qué letra representa mejor -82?




7) ¿Qué letra representa mejor -21?




8) ¿Qué letra representa mejor -91?



9) ¿Qué letra representa mejor -80?



10) ¿Qué letra representa mejor -37?

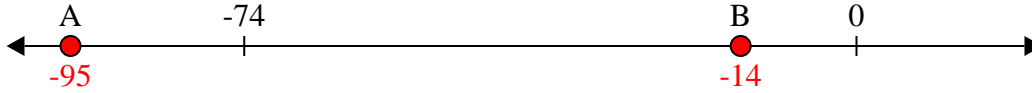


Respuestas

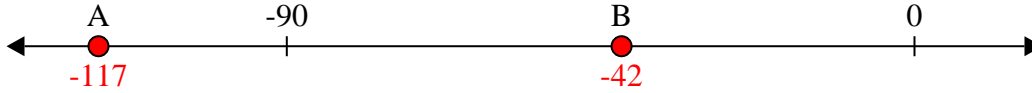
1. _____
2. _____
3. _____
4. _____
5. _____
6. _____
7. _____
8. _____
9. _____
10. _____

**Resolver cada problema.**

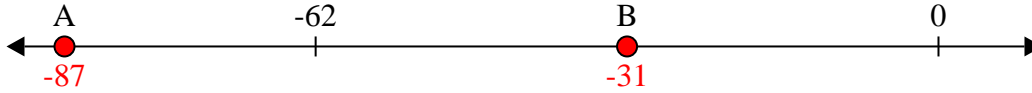
1) ¿Qué letra representa mejor -95?



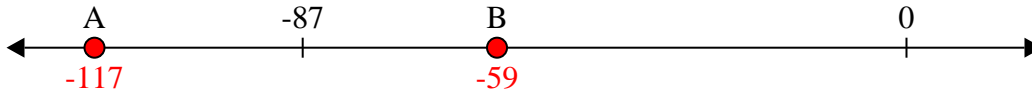
2) ¿Qué letra representa mejor -42?



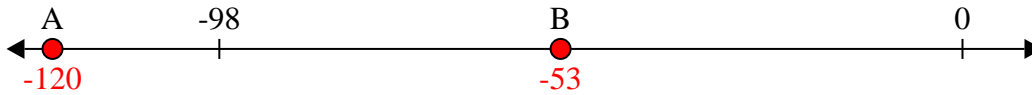
3) ¿Qué letra representa mejor -87?



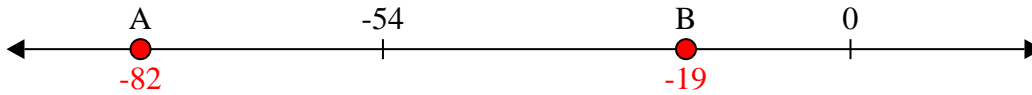
4) ¿Qué letra representa mejor -117?



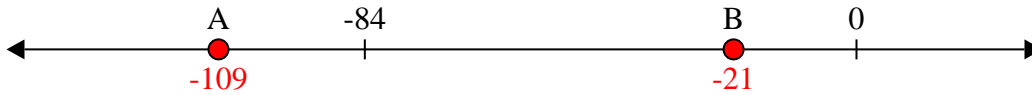
5) ¿Qué letra representa mejor -53?



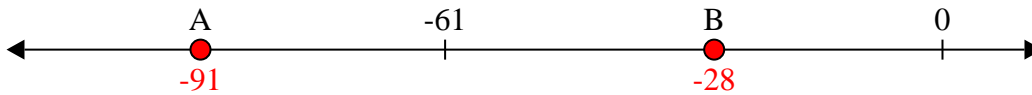
6) ¿Qué letra representa mejor -82?



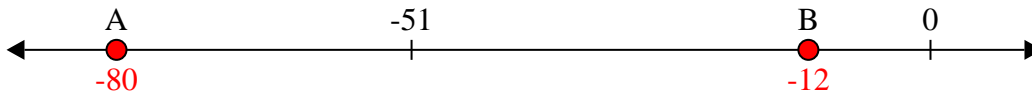
7) ¿Qué letra representa mejor -21?



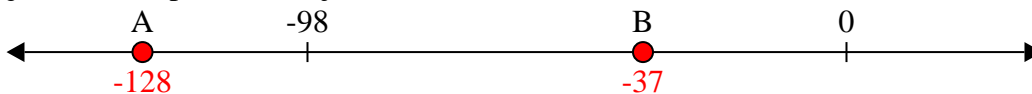
8) ¿Qué letra representa mejor -91?



9) ¿Qué letra representa mejor -80?



10) ¿Qué letra representa mejor -37?

**Respuestas**1. **A**2. **B**3. **A**4. **A**5. **B**6. **A**7. **B**8. **A**9. **A**10. **B**