



**Resolver cada problema.**


1) ¿Qué letra representa mejor -127?



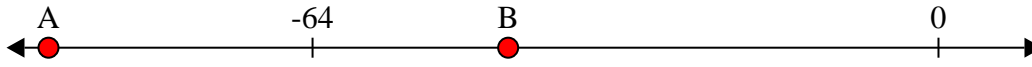
2) ¿Qué letra representa mejor -119?




3) ¿Qué letra representa mejor -93?




4) ¿Qué letra representa mejor -91?




5) ¿Qué letra representa mejor -17?




6) ¿Qué letra representa mejor -21?




7) ¿Qué letra representa mejor -98?



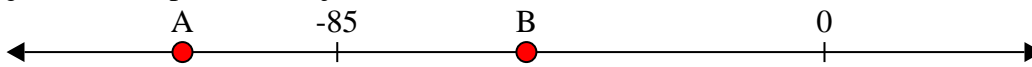
8) ¿Qué letra representa mejor -26?



9) ¿Qué letra representa mejor -80?



10) ¿Qué letra representa mejor -112?

**Respuestas**

1. \_\_\_\_\_

2. \_\_\_\_\_

3. \_\_\_\_\_

4. \_\_\_\_\_

5. \_\_\_\_\_

6. \_\_\_\_\_

7. \_\_\_\_\_

8. \_\_\_\_\_

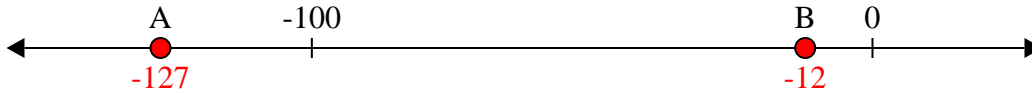
9. \_\_\_\_\_

10. \_\_\_\_\_

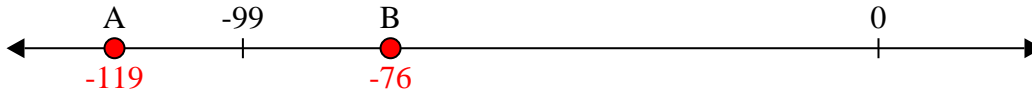


Resolver cada problema.

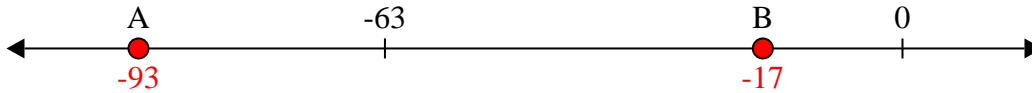
1) ¿Qué letra representa mejor -127?



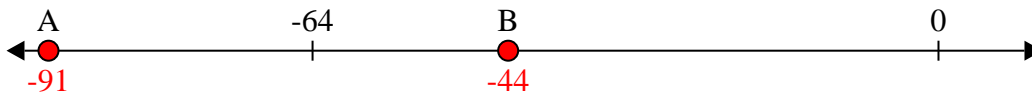
2) ¿Qué letra representa mejor -119?



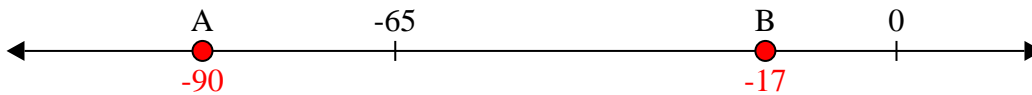
3) ¿Qué letra representa mejor -93?



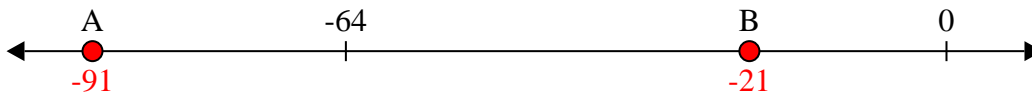
4) ¿Qué letra representa mejor -91?




5) ¿Qué letra representa mejor -17?




6) ¿Qué letra representa mejor -21?




7) ¿Qué letra representa mejor -98?



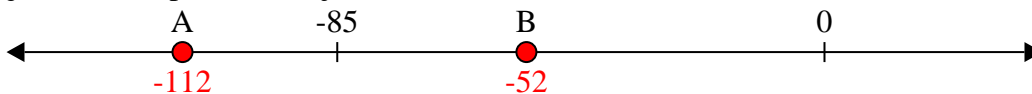
8) ¿Qué letra representa mejor -26?



9) ¿Qué letra representa mejor -80?



10) ¿Qué letra representa mejor -112?

**Respuestas**1. **A**2. **A**3. **A**4. **A**5. **B**6. **B**7. **A**8. **B**9. **A**10. **A**