



**Resolver cada problema.**


1) ¿Qué letra representa mejor -126?




2) ¿Qué letra representa mejor -94?




3) ¿Qué letra representa mejor -82?




4) ¿Qué letra representa mejor -22?



5) ¿Qué letra representa mejor -28?



6) ¿Qué letra representa mejor -126?




7) ¿Qué letra representa mejor -79?




8) ¿Qué letra representa mejor -17?



9) ¿Qué letra representa mejor -29?



10) ¿Qué letra representa mejor -87?

**Respuestas**

1. \_\_\_\_\_

2. \_\_\_\_\_

3. \_\_\_\_\_

4. \_\_\_\_\_

5. \_\_\_\_\_

6. \_\_\_\_\_

7. \_\_\_\_\_

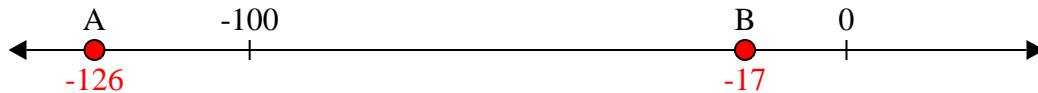
8. \_\_\_\_\_

9. \_\_\_\_\_

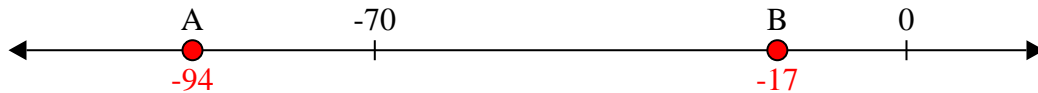
10. \_\_\_\_\_

**Resolver cada problema.**


1) ¿Qué letra representa mejor -126?




2) ¿Qué letra representa mejor -94?




3) ¿Qué letra representa mejor -82?




4) ¿Qué letra representa mejor -22?




5) ¿Qué letra representa mejor -28?




6) ¿Qué letra representa mejor -126?




7) ¿Qué letra representa mejor -79?



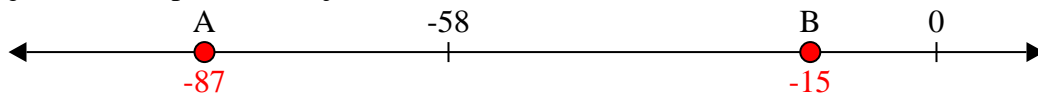
8) ¿Qué letra representa mejor -17?



9) ¿Qué letra representa mejor -29?



10) ¿Qué letra representa mejor -87?

**Respuestas**1. **A**2. **A**3. **A**4. **B**5. **B**6. **A**7. **A**8. **B**9. **B**10. **A**