



**Resolver cada problema.****Respuestas**

1) ¿Qué letra representa mejor -17?



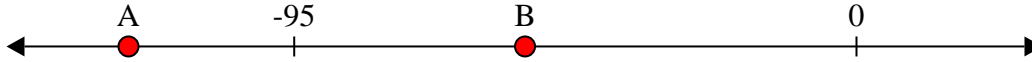
1. _____

2) ¿Qué letra representa mejor -92?




2. _____

3) ¿Qué letra representa mejor -56?




3. _____

4) ¿Qué letra representa mejor -52?




4. _____

5) ¿Qué letra representa mejor -14?



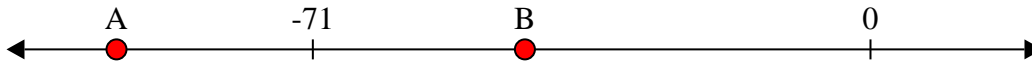
5. _____

6) ¿Qué letra representa mejor -21?




6. _____

7) ¿Qué letra representa mejor -96?



7. _____

8) ¿Qué letra representa mejor -28?




8. _____

9) ¿Qué letra representa mejor -91?



9. _____

10) ¿Qué letra representa mejor -40?

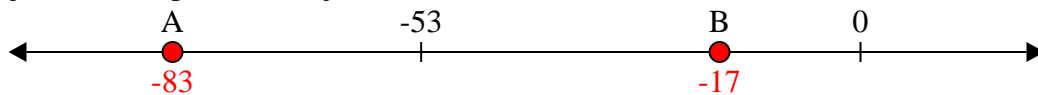


10. _____




Resolver cada problema.

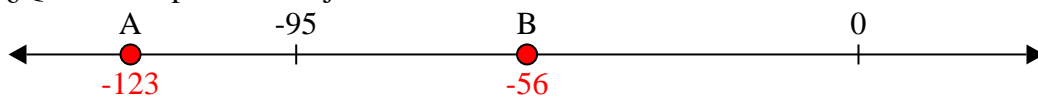
1) ¿Qué letra representa mejor -17?



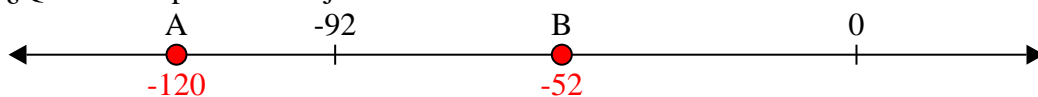
2) ¿Qué letra representa mejor -92?



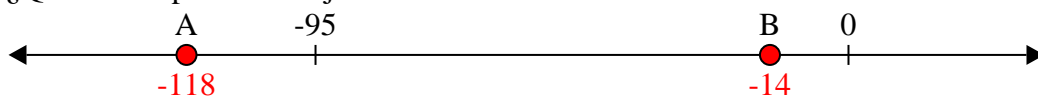
3) ¿Qué letra representa mejor -56?



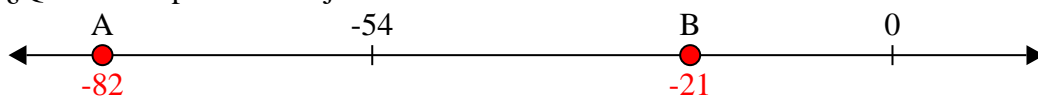
4) ¿Qué letra representa mejor -52?



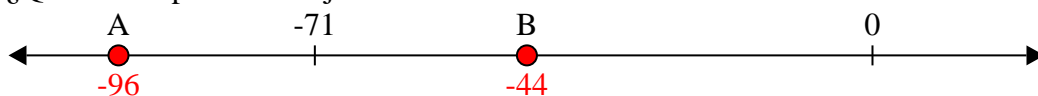
5) ¿Qué letra representa mejor -14?




6) ¿Qué letra representa mejor -21?



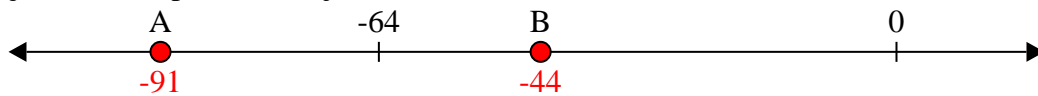
7) ¿Qué letra representa mejor -96?



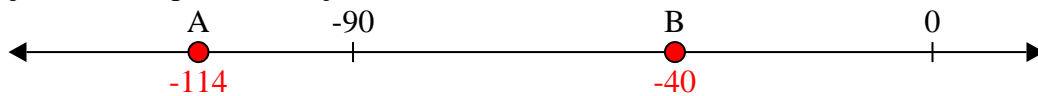
8) ¿Qué letra representa mejor -28?



9) ¿Qué letra representa mejor -91?




10) ¿Qué letra representa mejor -40?

**Respuestas**1. **B**2. **A**3. **B**4. **B**5. **B**6. **B**7. **A**8. **B**9. **A**10. **B**




Resolver cada problema.


1) ¿Qué letra representa mejor -11?




2) ¿Qué letra representa mejor -83?



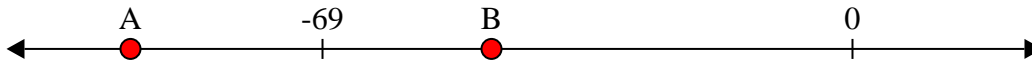
3) ¿Qué letra representa mejor -62?




4) ¿Qué letra representa mejor -29?




5) ¿Qué letra representa mejor -47?




6) ¿Qué letra representa mejor -123?




7) ¿Qué letra representa mejor -19?




8) ¿Qué letra representa mejor -24?



9) ¿Qué letra representa mejor -49?



10) ¿Qué letra representa mejor -42?



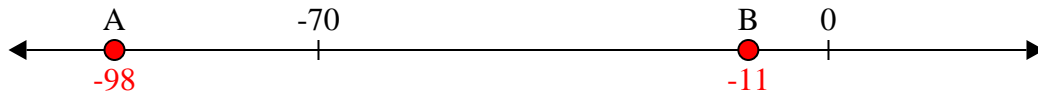
Respuestas

1. _____
2. _____
3. _____
4. _____
5. _____
6. _____
7. _____
8. _____
9. _____
10. _____

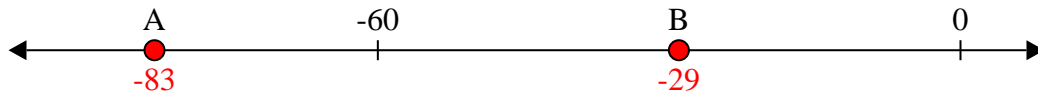


Resolver cada problema.


1) ¿Qué letra representa mejor -11?




2) ¿Qué letra representa mejor -83?



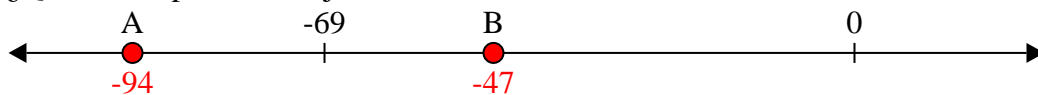
3) ¿Qué letra representa mejor -62?



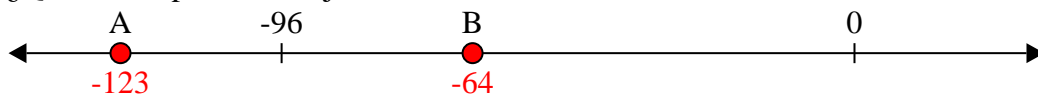
4) ¿Qué letra representa mejor -29?




5) ¿Qué letra representa mejor -47?




6) ¿Qué letra representa mejor -123?



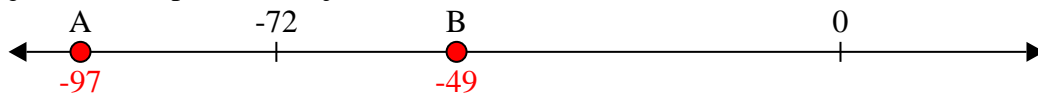
7) ¿Qué letra representa mejor -19?



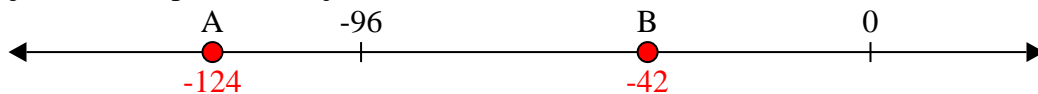
8) ¿Qué letra representa mejor -24?



9) ¿Qué letra representa mejor -49?




10) ¿Qué letra representa mejor -42?

**Respuestas**1. **B**2. **A**3. **B**4. **B**5. **B**6. **A**7. **B**8. **B**9. **B**10. **B**


**Resolver cada problema.****Respuestas**

1) ¿Qué letra representa mejor -25?




1. _____

2) ¿Qué letra representa mejor -108?




2. _____

3) ¿Qué letra representa mejor -103?




3. _____

4) ¿Qué letra representa mejor -15?



4. _____

5) ¿Qué letra representa mejor -117?




5. _____

6) ¿Qué letra representa mejor -45?




6. _____

7) ¿Qué letra representa mejor -117?




7. _____

8) ¿Qué letra representa mejor -24?



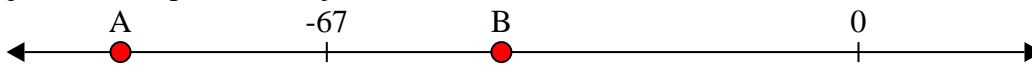
8. _____

9) ¿Qué letra representa mejor -99?



9. _____

10) ¿Qué letra representa mejor -45?

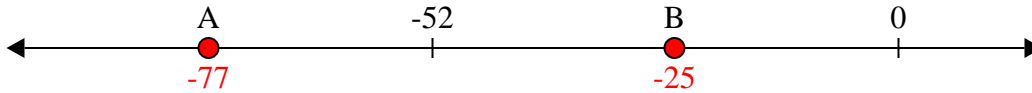


10. _____

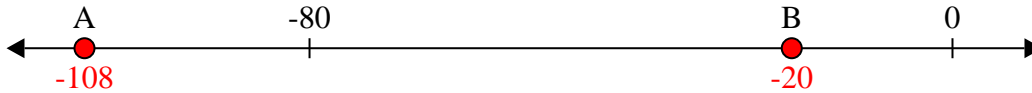


Resolver cada problema.

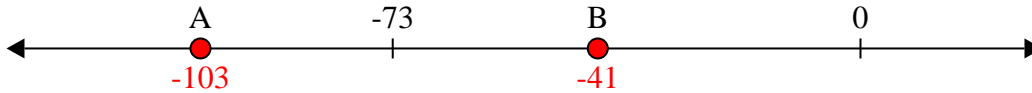
1) ¿Qué letra representa mejor -25?



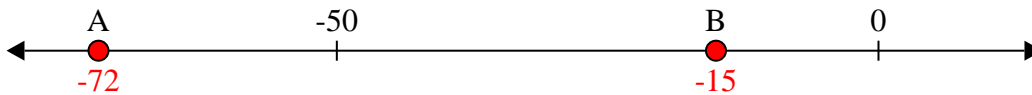
2) ¿Qué letra representa mejor -108?



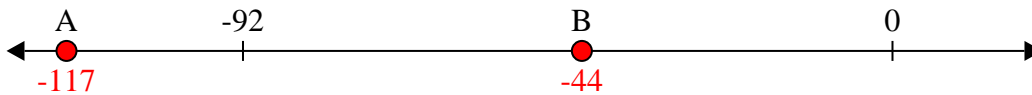
3) ¿Qué letra representa mejor -103?



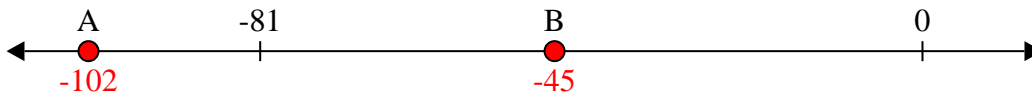
4) ¿Qué letra representa mejor -15?




5) ¿Qué letra representa mejor -117?




6) ¿Qué letra representa mejor -45?



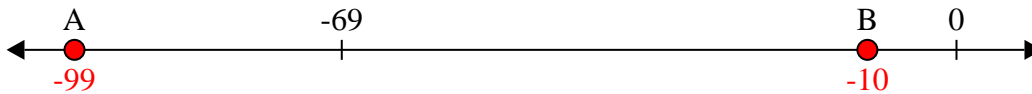
7) ¿Qué letra representa mejor -117?



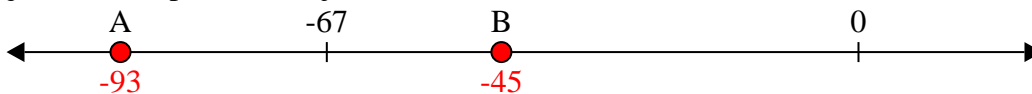
8) ¿Qué letra representa mejor -24?



9) ¿Qué letra representa mejor -99?




10) ¿Qué letra representa mejor -45?


**Respuestas**1. **B**2. **A**3. **A**4. **B**5. **A**6. **B**7. **A**8. **B**9. **A**10. **B**

**Resolver cada problema.**


1) ¿Qué letra representa mejor -38?




2) ¿Qué letra representa mejor -114?




3) ¿Qué letra representa mejor -78?




4) ¿Qué letra representa mejor -105?



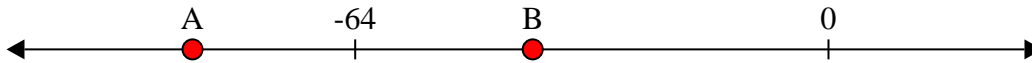
5) ¿Qué letra representa mejor -90?




6) ¿Qué letra representa mejor -22?




7) ¿Qué letra representa mejor -86?




8) ¿Qué letra representa mejor -96?



9) ¿Qué letra representa mejor -17?



10) ¿Qué letra representa mejor -10?

**Respuestas**

1. _____

2. _____

3. _____

4. _____

5. _____

6. _____

7. _____

8. _____

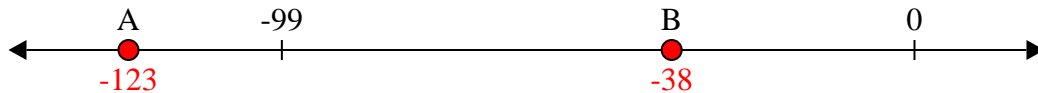
9. _____

10. _____

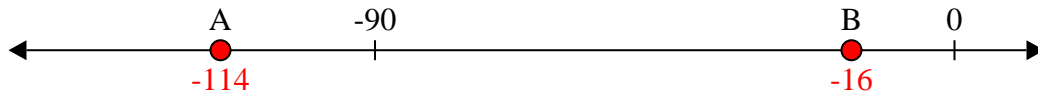


Resolver cada problema.

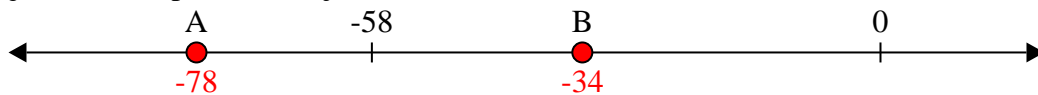
1) ¿Qué letra representa mejor -38?




2) ¿Qué letra representa mejor -114?




3) ¿Qué letra representa mejor -78?




4) ¿Qué letra representa mejor -105?



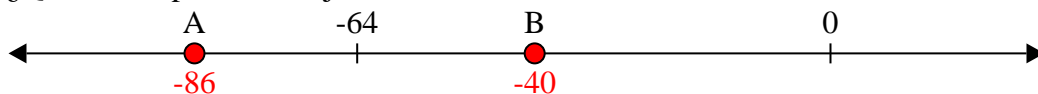
5) ¿Qué letra representa mejor -90?




6) ¿Qué letra representa mejor -22?




7) ¿Qué letra representa mejor -86?



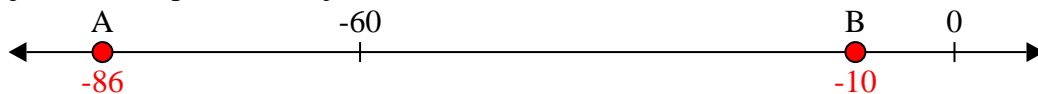
8) ¿Qué letra representa mejor -96?



9) ¿Qué letra representa mejor -17?



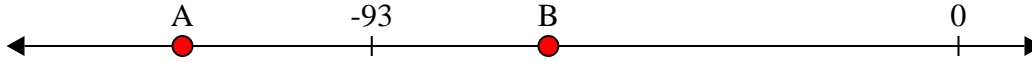
10) ¿Qué letra representa mejor -10?

**Respuestas**1. **B**2. **A**3. **A**4. **A**5. **A**6. **B**7. **A**8. **A**9. **B**10. **B**




Resolver cada problema.


1) ¿Qué letra representa mejor -123?




2) ¿Qué letra representa mejor -25?




3) ¿Qué letra representa mejor -21?




4) ¿Qué letra representa mejor -35?



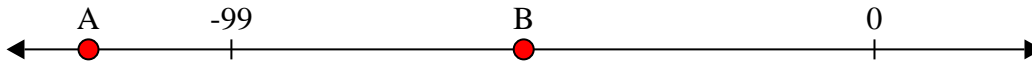
5) ¿Qué letra representa mejor -79?




6) ¿Qué letra representa mejor -14?




7) ¿Qué letra representa mejor -121?




8) ¿Qué letra representa mejor -34?



9) ¿Qué letra representa mejor -45?



10) ¿Qué letra representa mejor -73?



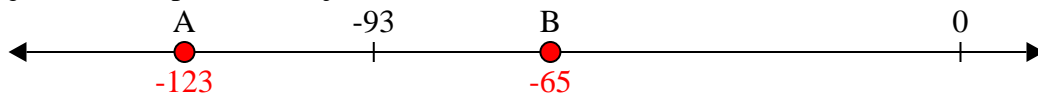
Respuestas

1. _____
2. _____
3. _____
4. _____
5. _____
6. _____
7. _____
8. _____
9. _____
10. _____




Resolver cada problema.


1) ¿Qué letra representa mejor -123?




2) ¿Qué letra representa mejor -25?




3) ¿Qué letra representa mejor -21?




4) ¿Qué letra representa mejor -35?



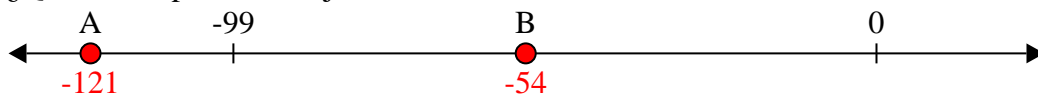
5) ¿Qué letra representa mejor -79?




6) ¿Qué letra representa mejor -14?




7) ¿Qué letra representa mejor -121?



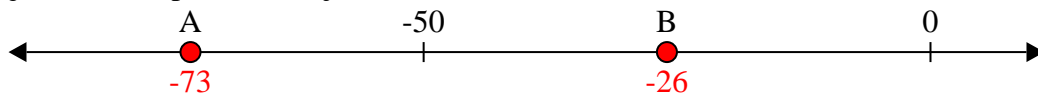
8) ¿Qué letra representa mejor -34?



9) ¿Qué letra representa mejor -45?




10) ¿Qué letra representa mejor -73?


**Respuestas**1. **A**2. **B**3. **B**4. **B**5. **A**6. **B**7. **A**8. **B**9. **B**10. **A**

**Resolver cada problema.**


1) ¿Qué letra representa mejor -17?




2) ¿Qué letra representa mejor -29?




3) ¿Qué letra representa mejor -120?




4) ¿Qué letra representa mejor -114?




5) ¿Qué letra representa mejor -116?




6) ¿Qué letra representa mejor -31?




7) ¿Qué letra representa mejor -22?




8) ¿Qué letra representa mejor -91?



9) ¿Qué letra representa mejor -26?



10) ¿Qué letra representa mejor -94?

**Respuestas**

1. _____

2. _____

3. _____

4. _____

5. _____

6. _____

7. _____

8. _____

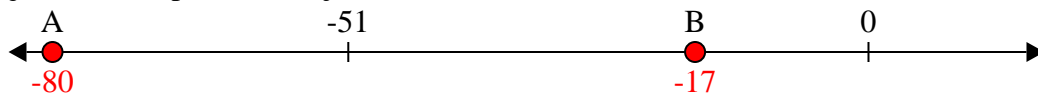
9. _____

10. _____




Resolver cada problema.


1) ¿Qué letra representa mejor -17?




2) ¿Qué letra representa mejor -29?




3) ¿Qué letra representa mejor -120?




4) ¿Qué letra representa mejor -114?




5) ¿Qué letra representa mejor -116?




6) ¿Qué letra representa mejor -31?




7) ¿Qué letra representa mejor -22?



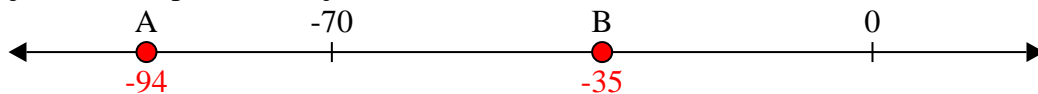
8) ¿Qué letra representa mejor -91?



9) ¿Qué letra representa mejor -26?




10) ¿Qué letra representa mejor -94?

**Respuestas**1. **B**2. **B**3. **A**4. **A**5. **A**6. **B**7. **B**8. **A**9. **B**10. **A**


**Resolver cada problema.****Respuestas**

1) ¿Qué letra representa mejor -95?




1. _____

2) ¿Qué letra representa mejor -42?



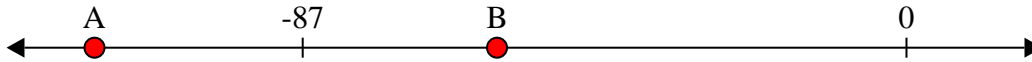
2. _____

3) ¿Qué letra representa mejor -87?




3. _____

4) ¿Qué letra representa mejor -117?




4. _____

5) ¿Qué letra representa mejor -53?




5. _____

6) ¿Qué letra representa mejor -82?




6. _____

7) ¿Qué letra representa mejor -21?




7. _____

8) ¿Qué letra representa mejor -91?




8. _____

9) ¿Qué letra representa mejor -80?



9. _____

10) ¿Qué letra representa mejor -37?

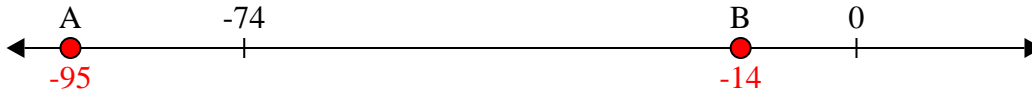


10. _____

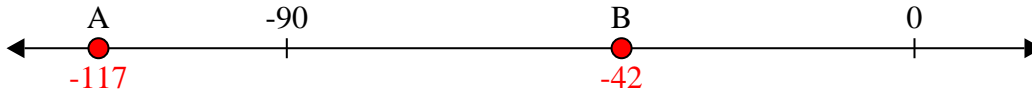


Resolver cada problema.


1) ¿Qué letra representa mejor -95?



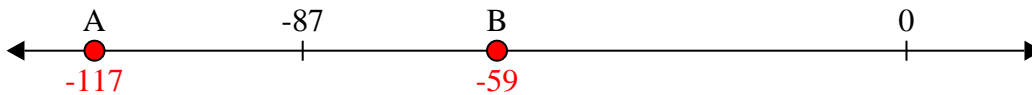
2) ¿Qué letra representa mejor -42?



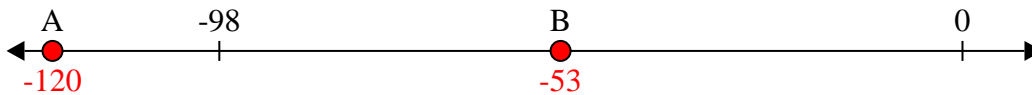
3) ¿Qué letra representa mejor -87?




4) ¿Qué letra representa mejor -117?




5) ¿Qué letra representa mejor -53?




6) ¿Qué letra representa mejor -82?




7) ¿Qué letra representa mejor -21?



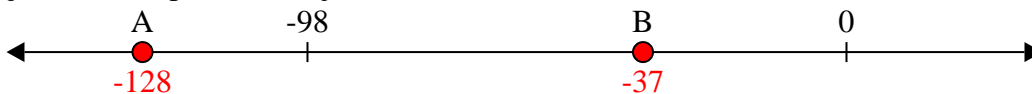
8) ¿Qué letra representa mejor -91?



9) ¿Qué letra representa mejor -80?




10) ¿Qué letra representa mejor -37?

**Respuestas**1. **A**2. **B**3. **A**4. **A**5. **B**6. **A**7. **B**8. **A**9. **A**10. **B**




Resolver cada problema.


1) ¿Qué letra representa mejor -127?



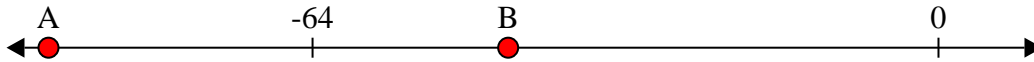
2) ¿Qué letra representa mejor -119?




3) ¿Qué letra representa mejor -93?




4) ¿Qué letra representa mejor -91?




5) ¿Qué letra representa mejor -17?




6) ¿Qué letra representa mejor -21?




7) ¿Qué letra representa mejor -98?



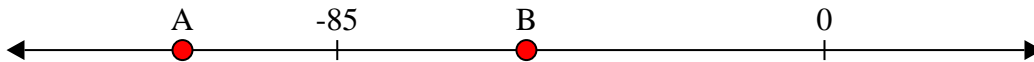
8) ¿Qué letra representa mejor -26?



9) ¿Qué letra representa mejor -80?



10) ¿Qué letra representa mejor -112?

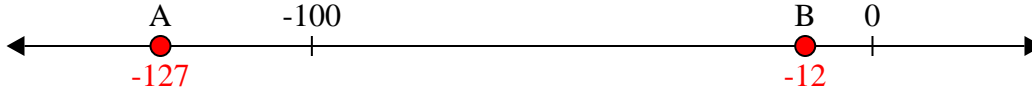


Respuestas

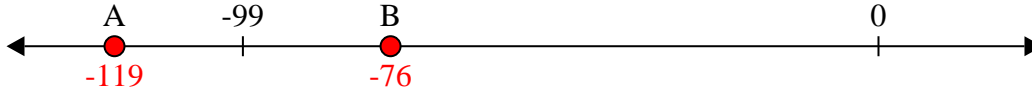
1. _____
2. _____
3. _____
4. _____
5. _____
6. _____
7. _____
8. _____
9. _____
10. _____

**Resolver cada problema.**

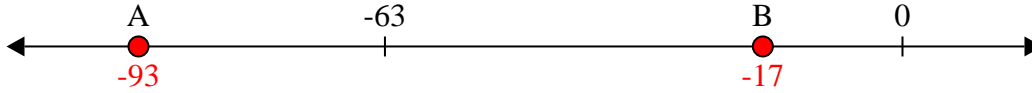
1) ¿Qué letra representa mejor -127?



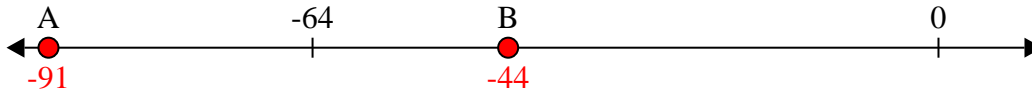
2) ¿Qué letra representa mejor -119?



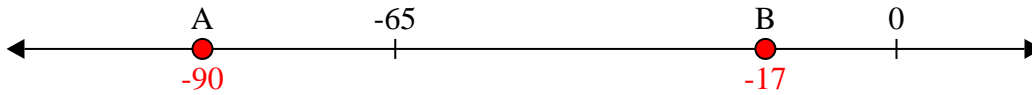
3) ¿Qué letra representa mejor -93?



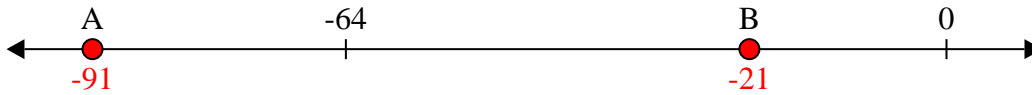
4) ¿Qué letra representa mejor -91?



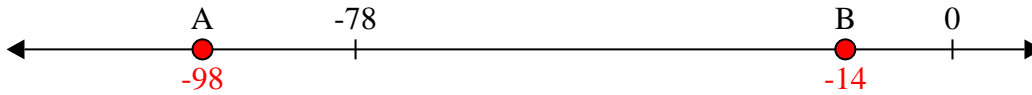
5) ¿Qué letra representa mejor -17?



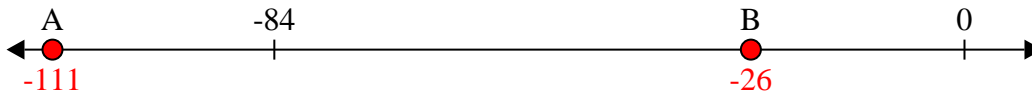
6) ¿Qué letra representa mejor -21?



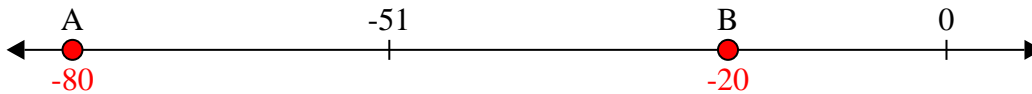
7) ¿Qué letra representa mejor -98?



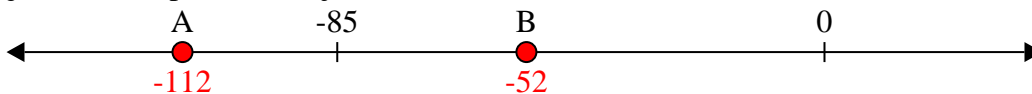
8) ¿Qué letra representa mejor -26?



9) ¿Qué letra representa mejor -80?




10) ¿Qué letra representa mejor -112?


**Respuestas**1. **A** 2. **A** 3. **A** 4. **A** 5. **B** 6. **B** 7. **A** 8. **B** 9. **A** 10. **A**

**Resolver cada problema.**


1) ¿Qué letra representa mejor -126?




2) ¿Qué letra representa mejor -94?




3) ¿Qué letra representa mejor -82?




4) ¿Qué letra representa mejor -22?



5) ¿Qué letra representa mejor -28?



6) ¿Qué letra representa mejor -126?




7) ¿Qué letra representa mejor -79?




8) ¿Qué letra representa mejor -17?



9) ¿Qué letra representa mejor -29?



10) ¿Qué letra representa mejor -87?

**Respuestas**

1. _____

2. _____

3. _____

4. _____

5. _____

6. _____

7. _____

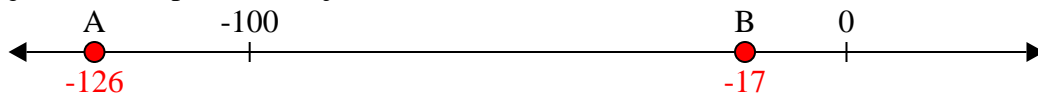
8. _____

9. _____


10. _____

**Resolver cada problema.**


1) ¿Qué letra representa mejor -126?




2) ¿Qué letra representa mejor -94?



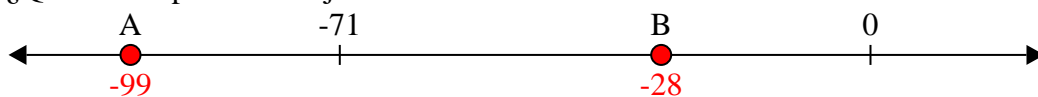
3) ¿Qué letra representa mejor -82?



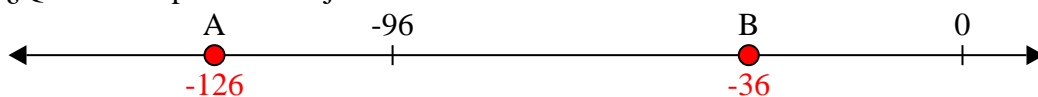
4) ¿Qué letra representa mejor -22?




5) ¿Qué letra representa mejor -28?




6) ¿Qué letra representa mejor -126?



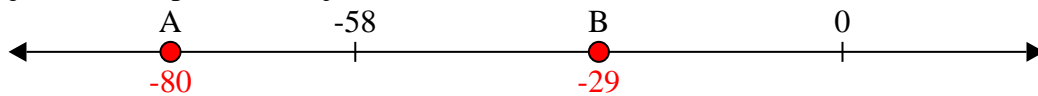
7) ¿Qué letra representa mejor -79?



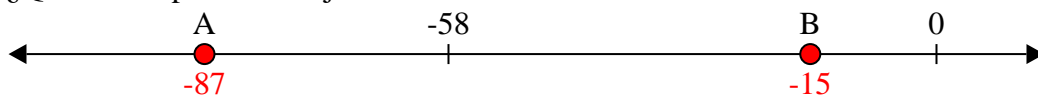
8) ¿Qué letra representa mejor -17?



9) ¿Qué letra representa mejor -29?

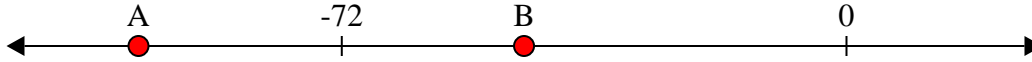


10) ¿Qué letra representa mejor -87?


**Respuestas**1. **A**2. **A**3. **A**4. **B**5. **B**6. **A**7. **A**8. **B**9. **B**10. **A**

**Resolver cada problema.**


1) ¿Qué letra representa mejor -101?




2) ¿Qué letra representa mejor -27?



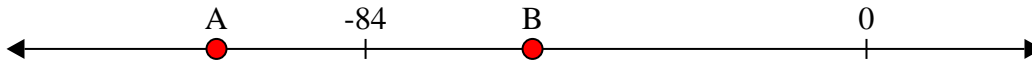
3) ¿Qué letra representa mejor -27?



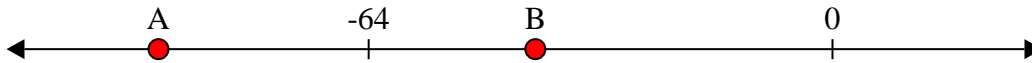
4) ¿Qué letra representa mejor -114?




5) ¿Qué letra representa mejor -56?




6) ¿Qué letra representa mejor -93?



7) ¿Qué letra representa mejor -85?




8) ¿Qué letra representa mejor -69?



9) ¿Qué letra representa mejor -116?



10) ¿Qué letra representa mejor -88?

**Respuestas**

1. _____

2. _____

3. _____

4. _____

5. _____

6. _____

7. _____

8. _____

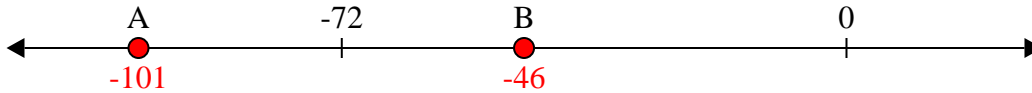
9. _____

10. _____

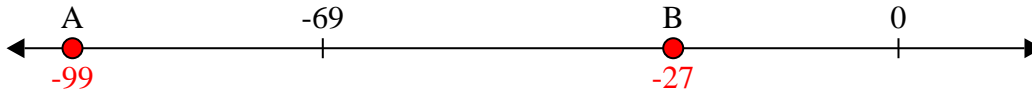


Resolver cada problema.

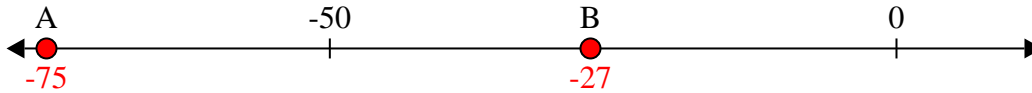
1) ¿Qué letra representa mejor -101?



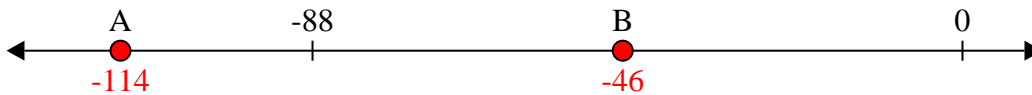
2) ¿Qué letra representa mejor -27?



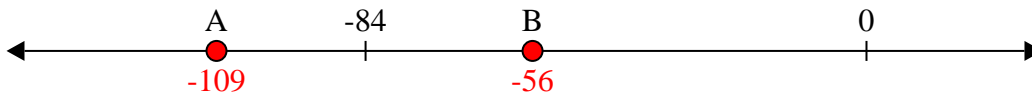
3) ¿Qué letra representa mejor -27?



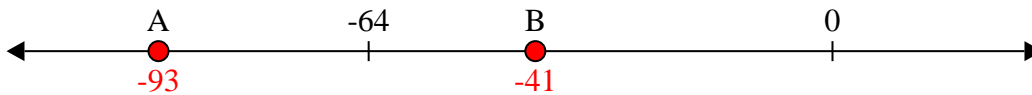
4) ¿Qué letra representa mejor -114?




5) ¿Qué letra representa mejor -56?



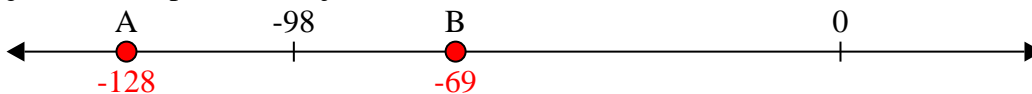
6) ¿Qué letra representa mejor -93?



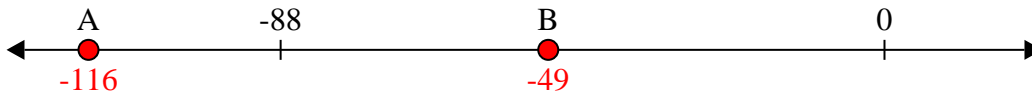
7) ¿Qué letra representa mejor -85?



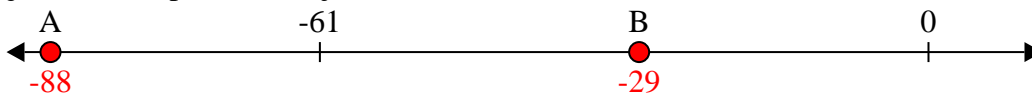
8) ¿Qué letra representa mejor -69?



9) ¿Qué letra representa mejor -116?



10) ¿Qué letra representa mejor -88?

**Respuestas**1. **A** 2. **B** 3. **B** 4. **A** 5. **B** 6. **A** 7. **A** 8. **B** 9. **A** 10. **A**