



**Resolver cada problema.****Respuestas**

1) ¿Qué letra representa mejor -114?




1. \_\_\_\_\_

2) ¿Qué letra representa mejor -106?




2. \_\_\_\_\_

3) ¿Qué letra representa mejor -30?




3. \_\_\_\_\_

4) ¿Qué letra representa mejor -102?




4. \_\_\_\_\_

5) ¿Qué letra representa mejor -106?




5. \_\_\_\_\_

6) ¿Qué letra representa mejor -91?




6. \_\_\_\_\_

7) ¿Qué letra representa mejor -83?



7. \_\_\_\_\_

8) ¿Qué letra representa mejor -86?




8. \_\_\_\_\_

9) ¿Qué letra representa mejor -113?



9. \_\_\_\_\_

10) ¿Qué letra representa mejor -60?



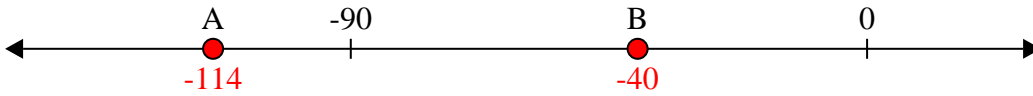
10. \_\_\_\_\_



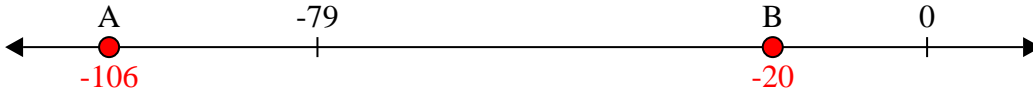
Resolver cada problema.

**Respuestas**

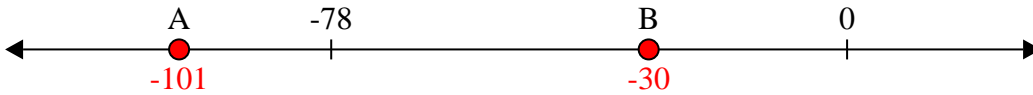
1) ¿Qué letra representa mejor -114?

1.   **A**  

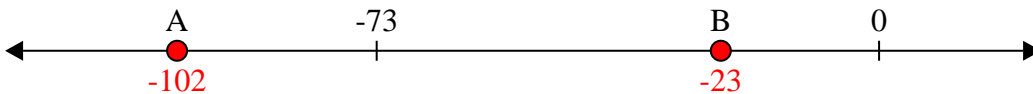
2) ¿Qué letra representa mejor -106?

2.   **A**  

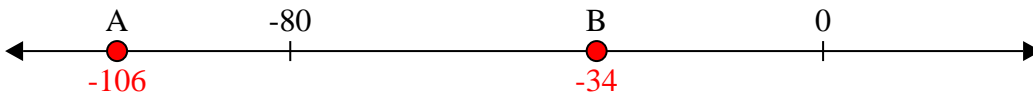
3) ¿Qué letra representa mejor -30?

3.   **B**  


4) ¿Qué letra representa mejor -102?

4.   **A**  


5) ¿Qué letra representa mejor -106?

5.   **A**  


6) ¿Qué letra representa mejor -91?

6.   **A**  


7) ¿Qué letra representa mejor -83?

7.   **A**  

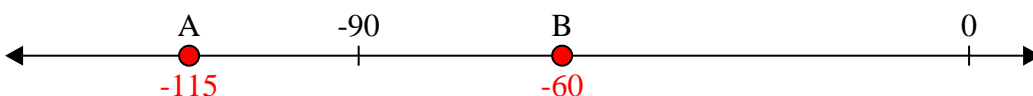
8) ¿Qué letra representa mejor -86?

8.   **A**  

9) ¿Qué letra representa mejor -113?

9.   **A**  

10) ¿Qué letra representa mejor -60?

10.   **B**