




Resolver cada problema.


**Respuestas**

1) ¿Qué letra representa mejor -57?




1. \_\_\_\_\_

2) ¿Qué letra representa mejor -11?




2. \_\_\_\_\_

3) ¿Qué letra representa mejor -94?




3. \_\_\_\_\_

4) ¿Qué letra representa mejor -16?




4. \_\_\_\_\_

5) ¿Qué letra representa mejor -111?



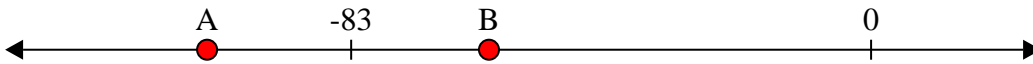
5. \_\_\_\_\_

6) ¿Qué letra representa mejor -123?




6. \_\_\_\_\_

7) ¿Qué letra representa mejor -61?




7. \_\_\_\_\_

8) ¿Qué letra representa mejor -99?




8. \_\_\_\_\_

9) ¿Qué letra representa mejor -104?



9. \_\_\_\_\_

10) ¿Qué letra representa mejor -12?



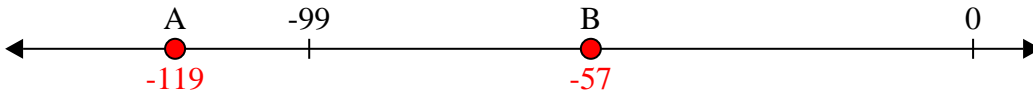
10. \_\_\_\_\_



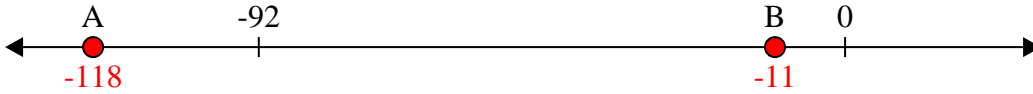
Resolver cada problema.

**Respuestas**

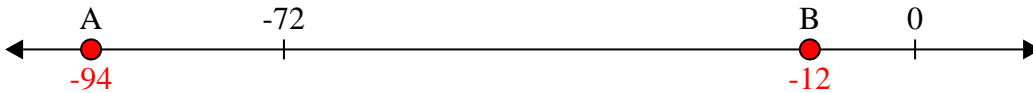
1) ¿Qué letra representa mejor -57?

1.     **B**    


2) ¿Qué letra representa mejor -11?

2.     **B**    

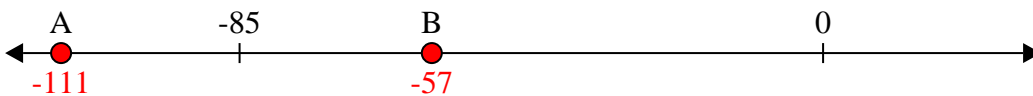
3) ¿Qué letra representa mejor -94?

3.     **A**    


4) ¿Qué letra representa mejor -16?

4.     **B**    

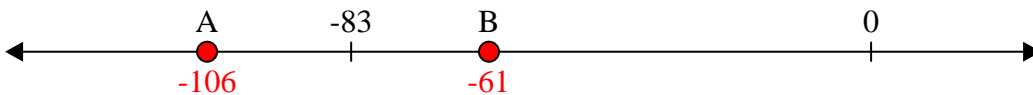
5) ¿Qué letra representa mejor -111?

5.     **A**    

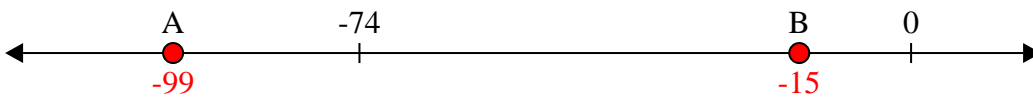
6) ¿Qué letra representa mejor -123?

6.     **A**    


7) ¿Qué letra representa mejor -61?

7.     **B**    


8) ¿Qué letra representa mejor -99?

8.     **A**    

9) ¿Qué letra representa mejor -104?

9.     **A**    

10) ¿Qué letra representa mejor -12?

10.     **B**