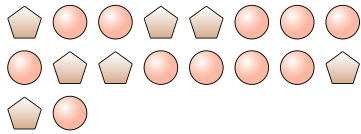




Resolver cada problema.

Respuestas

Ej) ¿Cuál es la relación de pentágonos a círculos? 1) ¿Cuál es la relación de lunas a estrellas?

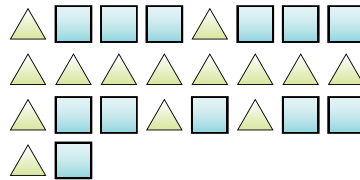


Ej. 7:11

2) ¿Cuál es la relación de estrellas a cuadros?



3) ¿Cuál es la relación de cuadros a triángulos?



1. _____

2. _____

3. _____

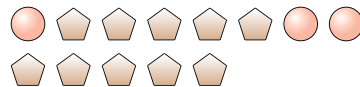
4. _____

5. _____

4) ¿Cuál es la relación de lunas a corazones?



5) ¿Cuál es la relación de pentágonos a círculos?

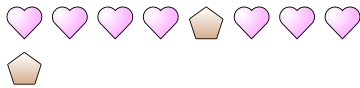


6. _____

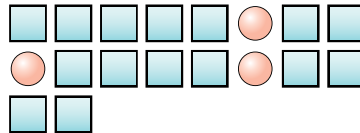
7. _____

8. _____

6) ¿Cuál es la relación de pentágonos a corazones?



7) ¿Cuál es la relación de círculos a cuadros?

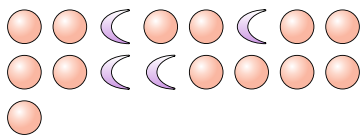


9. _____

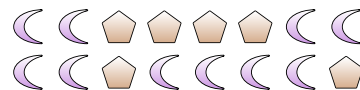
10. _____

11. _____

8) ¿Cuál es la relación de círculos a lunas?



9) ¿Cuál es la relación de lunas a pentágonos?



10) ¿Cuál es la relación de pentágonos a estrellas? 11) ¿Cuál es la relación de cuadros a lunas?

