

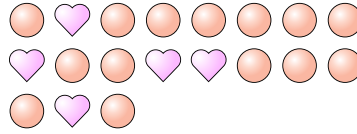


Resolver cada problema.

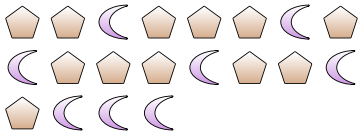
Ej) ¿Cuál es la relación de pentágonos a lunas?



1) ¿Cuál es la relación de círculos a corazones?



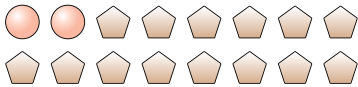
2) ¿Cuál es la relación de lunas a pentágonos?



3) ¿Cuál es la relación de lunas a estrellas?




4) ¿Cuál es la relación de círculos a pentágonos?




5) ¿Cuál es la relación de estrellas a corazones?



6) ¿Cuál es la relación de cuadros a corazones?



7) ¿Cuál es la relación de corazones a círculos?



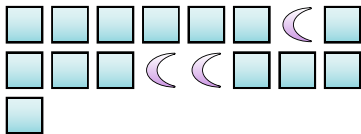
8) ¿Cuál es la relación de corazones a lunas?




9) ¿Cuál es la relación de triángulos a estrellas?



10) ¿Cuál es la relación de lunas a cuadros?



11) ¿Cuál es la relación de corazones a lunas?



Respuestas

Ej. 7:10

1. \_\_\_\_\_

2. \_\_\_\_\_

3. \_\_\_\_\_

4. \_\_\_\_\_

5. \_\_\_\_\_

6. \_\_\_\_\_

7. \_\_\_\_\_

8. \_\_\_\_\_

9. \_\_\_\_\_

10. \_\_\_\_\_

11. \_\_\_\_\_

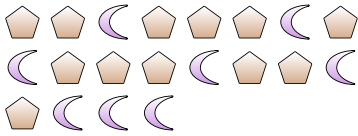


**Resolver cada problema.**

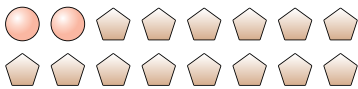
Ej) ¿Cuál es la relación de pentágonos a lunas?




2) ¿Cuál es la relación de lunas a pentágonos?



4) ¿Cuál es la relación de círculos a pentágonos?



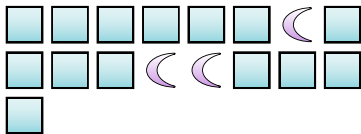
6) ¿Cuál es la relación de cuadros a corazones?



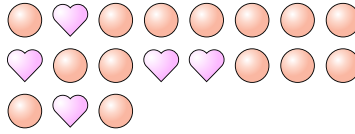
8) ¿Cuál es la relación de corazones a lunas?



10) ¿Cuál es la relación de lunas a cuadros?



1) ¿Cuál es la relación de círculos a corazones?




3) ¿Cuál es la relación de lunas a estrellas?



5) ¿Cuál es la relación de estrellas a corazones?



7) ¿Cuál es la relación de corazones a círculos?



9) ¿Cuál es la relación de triángulos a estrellas?



11) ¿Cuál es la relación de corazones a lunas?



**Respuestas**

Ej. 7:10

1. 14:5

2. 8:12

3. 11:4

4. 2:14

5. 3:4

6. 14:14

7. 13:9

8. 10:8

9. 8:10

10. 3:14

11. 15:6