





Resolver cada problema.

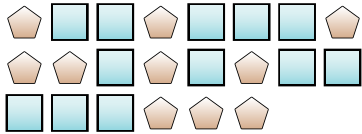
Ej) ¿Cuál es la relación de corazones a círculos?



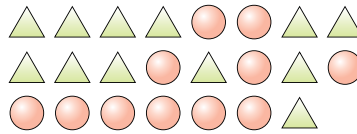
1) ¿Cuál es la relación de corazones a lunas?



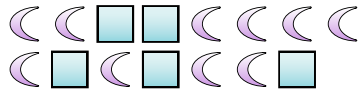
2) ¿Cuál es la relación de pentágonos a cuadros?



3) ¿Cuál es la relación de triángulos a círculos?



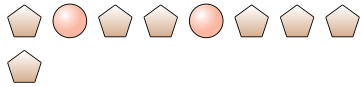
4) ¿Cuál es la relación de cuadros a lunas?



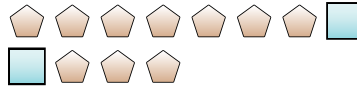
5) ¿Cuál es la relación de cuadros a estrellas?



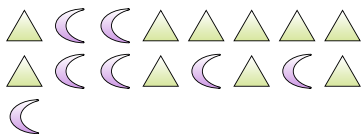
6) ¿Cuál es la relación de círculos a pentágonos?



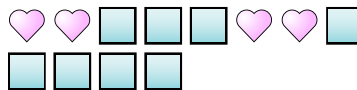
7) ¿Cuál es la relación de pentágonos a cuadros?



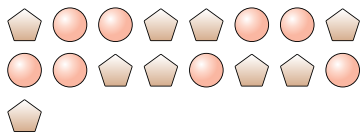
8) ¿Cuál es la relación de triángulos a lunas?



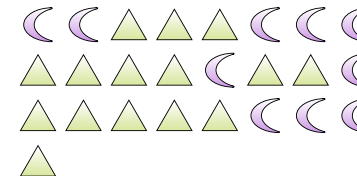
9) ¿Cuál es la relación de cuadros a corazones?



10) ¿Cuál es la relación de pentágonos a círculos?



11) ¿Cuál es la relación de lunas a triángulos?



Respuestas

Ej. 7:11

1. 9:10

2. 10:12

3. 12:11

4. 5:10

5. 10:3

6. 2:7

7. 10:2

8. 10:7

9. 8:4

10. 9:8

11. 10:15