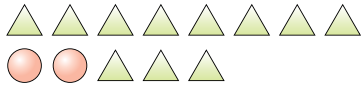




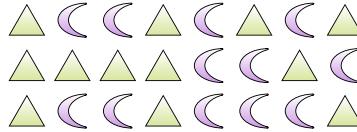


**Resolver cada problema.**

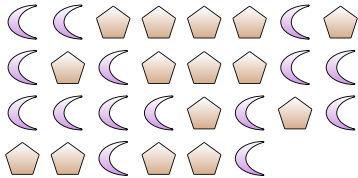
Ej) ¿Cuál es la relación de círculos a triángulos?



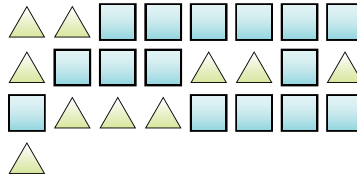
1) ¿Cuál es la relación de lunas a triángulos?



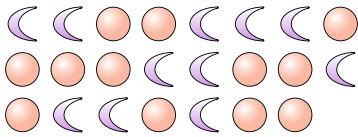
2) ¿Cuál es la relación de lunas a pentágonos?



3) ¿Cuál es la relación de triángulos a cuadros?



4) ¿Cuál es la relación de círculos a lunas?



5) ¿Cuál es la relación de estrellas a lunas?



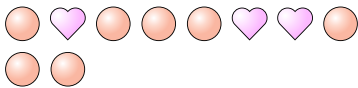
6) ¿Cuál es la relación de triángulos a estrellas?



7) ¿Cuál es la relación de corazones a estrellas?



8) ¿Cuál es la relación de corazones a círculos?



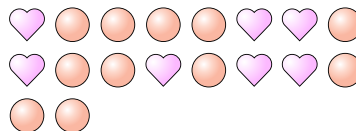
9) ¿Cuál es la relación de corazones a estrellas?



10) ¿Cuál es la relación de pentágonos a círculos?



11) ¿Cuál es la relación de círculos a corazones?



**Respuestas**

Ej. 2:11

1. 12:12

2. 15:15

3. 10:15

4. 12:11

5. 4:13

6. 15:3

7. 15:10

8. 3:7

9. 2:4

10. 4:3

11. 11:7