


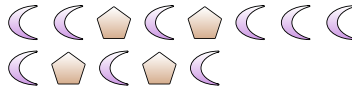


Resolver cada problema.

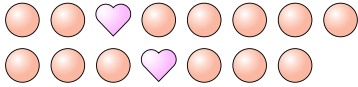
Ej) ¿Cuál es la relación de corazones a pentágonos?




1) ¿Cuál es la relación de pentágonos a lunas?



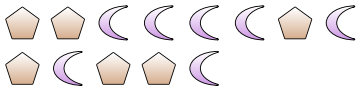
2) ¿Cuál es la relación de círculos a corazones?



3) ¿Cuál es la relación de círculos a corazones?



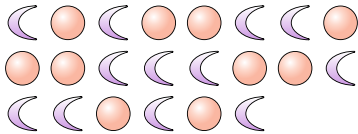
4) ¿Cuál es la relación de pentágonos a lunas?



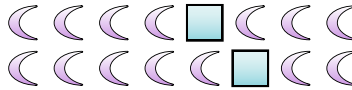
5) ¿Cuál es la relación de corazones a lunas?



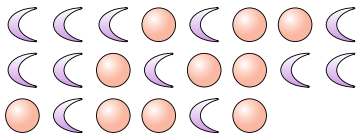
6) ¿Cuál es la relación de círculos a lunas?




7) ¿Cuál es la relación de cuadros a lunas?



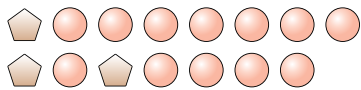
8) ¿Cuál es la relación de círculos a lunas?




9) ¿Cuál es la relación de círculos a estrellas?



10) ¿Cuál es la relación de círculos a pentágonos?



11) ¿Cuál es la relación de lunas a triángulos?



Respuestas

Ej. 15:8

1. \_\_\_\_\_

2. \_\_\_\_\_

3. \_\_\_\_\_

4. \_\_\_\_\_

5. \_\_\_\_\_

6. \_\_\_\_\_

7. \_\_\_\_\_

8. \_\_\_\_\_

9. \_\_\_\_\_

10. \_\_\_\_\_

11. \_\_\_\_\_

