


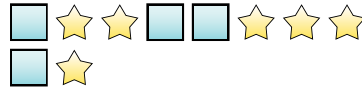


Resolver cada problema.


Ej) ¿Cuál es la relación de círculos a corazones?




1) ¿Cuál es la relación de cuadros a estrellas?



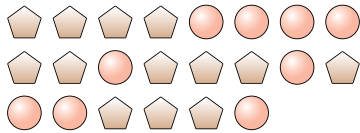
2) ¿Cuál es la relación de círculos a corazones?



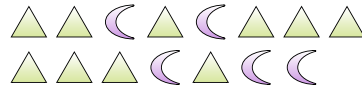
3) ¿Cuál es la relación de círculos a corazones?




4) ¿Cuál es la relación de pentágonos a círculos?



5) ¿Cuál es la relación de triángulos a lunas?




6) ¿Cuál es la relación de estrellas a cuadros?



7) ¿Cuál es la relación de lunas a triángulos?



8) ¿Cuál es la relación de lunas a triángulos?




9) ¿Cuál es la relación de estrellas a corazones?



10) ¿Cuál es la relación de cuadros a corazones?



11) ¿Cuál es la relación de círculos a estrellas?



Respuestas

Ej. 8:6

1. 4:6

2. 2:8

3. 5:14

4. 13:9

5. 10:5

6. 8:12

7. 8:3

8. 14:15

9. 9:2

10. 6:10

11. 8:11