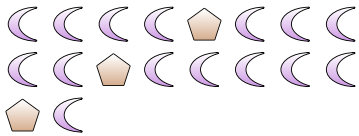


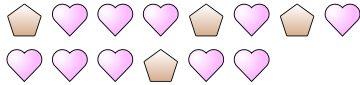


Resolver cada problema.

Ej) ¿Cuál es la relación de pentágonos a lunas?



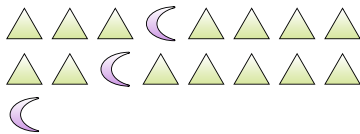
2) ¿Cuál es la relación de pentágonos a corazones?



4) ¿Cuál es la relación de lunas a corazones?



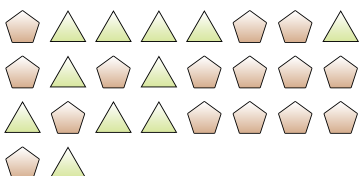
6) ¿Cuál es la relación de lunas a triángulos?




8) ¿Cuál es la relación de estrellas a círculos?



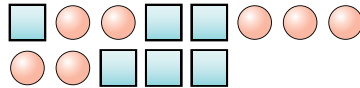
10) ¿Cuál es la relación de pentágonos a triángulos?



1) ¿Cuál es la relación de estrellas a cuadros?



3) ¿Cuál es la relación de círculos a cuadros?



5) ¿Cuál es la relación de corazones a pentágonos?



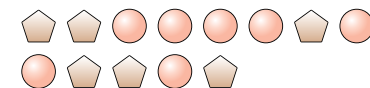
7) ¿Cuál es la relación de círculos a lunas?



9) ¿Cuál es la relación de corazones a estrellas?



11) ¿Cuál es la relación de círculos a pentágonos?



Respuestas

Ej. 3:15

1. \_\_\_\_\_

2. \_\_\_\_\_

3. \_\_\_\_\_

4. \_\_\_\_\_

5. \_\_\_\_\_

6. \_\_\_\_\_

7. \_\_\_\_\_

8. \_\_\_\_\_

9. \_\_\_\_\_

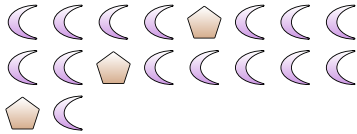
10. \_\_\_\_\_

11. \_\_\_\_\_




**Resolver cada problema.**

Ej) ¿Cuál es la relación de pentágonos a lunas?



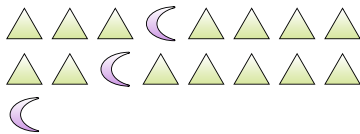
2) ¿Cuál es la relación de pentágonos a corazones?



4) ¿Cuál es la relación de lunas a corazones?



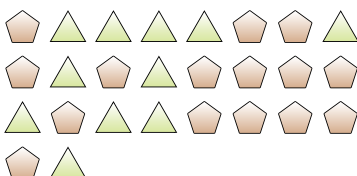
6) ¿Cuál es la relación de lunas a triángulos?




8) ¿Cuál es la relación de estrellas a círculos?



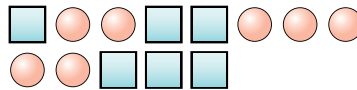
10) ¿Cuál es la relación de pentágonos a triángulos?



1) ¿Cuál es la relación de estrellas a cuadros?



3) ¿Cuál es la relación de círculos a cuadros?



5) ¿Cuál es la relación de corazones a pentágonos?



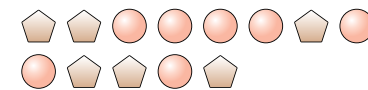
7) ¿Cuál es la relación de círculos a lunas?



9) ¿Cuál es la relación de corazones a estrellas?



11) ¿Cuál es la relación de círculos a pentágonos?



**Respuestas**

Ej. 3:15

1. 13:14

2. 4:10

3. 7:6

4. 6:15

5. 3:6

6. 3:14

7. 2:6

8. 8:3

9. 12:10

10. 15:11

11. 7:6