


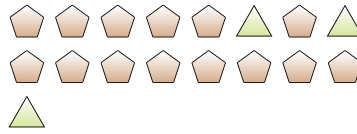


Resolver cada problema.

Ej) ¿Cuál es la relación de cuadros a estrellas?




1) ¿Cuál es la relación de pentágonos a triángulos?



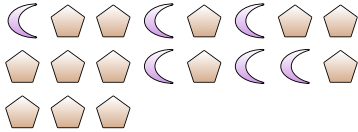
2) ¿Cuál es la relación de círculos a pentágonos?



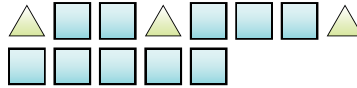
3) ¿Cuál es la relación de corazones a cuadros?



4) ¿Cuál es la relación de pentágonos a lunas?



5) ¿Cuál es la relación de triángulos a cuadros?



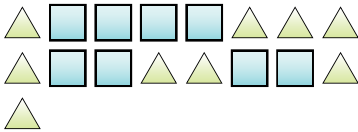
6) ¿Cuál es la relación de corazones a círculos?



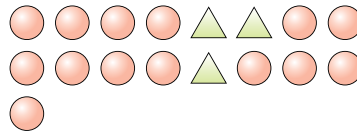
7) ¿Cuál es la relación de estrellas a lunas?



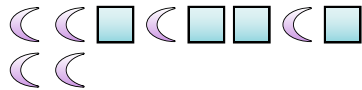
8) ¿Cuál es la relación de triángulos a cuadros?




9) ¿Cuál es la relación de círculos a triángulos?



10) ¿Cuál es la relación de cuadros a lunas?



11) ¿Cuál es la relación de triángulos a corazones?



Respuestas

Ej. 12:9

1. _____

2. _____

3. _____

4. _____

5. _____

6. _____

7. _____

8. _____

9. _____

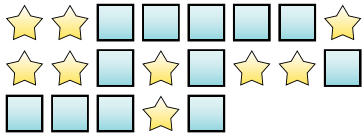
10. _____

11. _____

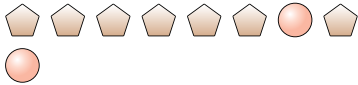


Resolver cada problema.

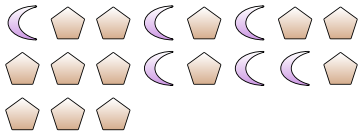
Ej) ¿Cuál es la relación de cuadros a estrellas?



2) ¿Cuál es la relación de círculos a pentágonos?



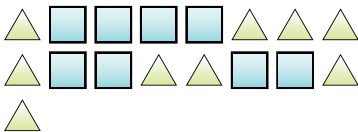
4) ¿Cuál es la relación de pentágonos a lunas?



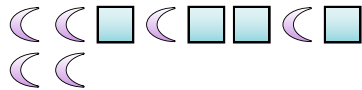
6) ¿Cuál es la relación de corazones a círculos?



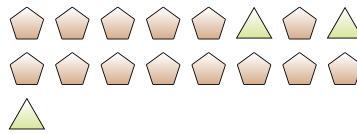
8) ¿Cuál es la relación de triángulos a cuadros?



10) ¿Cuál es la relación de cuadros a lunas?



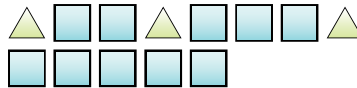
1) ¿Cuál es la relación de pentágonos a triángulos?



3) ¿Cuál es la relación de corazones a cuadros?



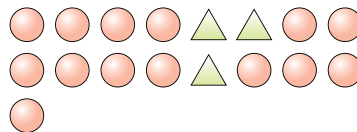
5) ¿Cuál es la relación de triángulos a cuadros?




7) ¿Cuál es la relación de estrellas a lunas?



9) ¿Cuál es la relación de círculos a triángulos?



11) ¿Cuál es la relación de triángulos a corazones?



Respuestas

Ej. 12:9

1. 14:3

2. 2:7

3. 14:2

4. 13:6

5. 3:10

6. 10:4

7. 2:11

8. 9:8

9. 14:3

10. 4:6

11. 8:10