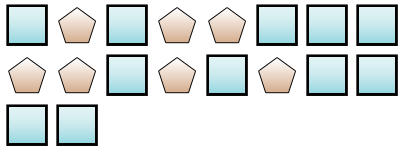


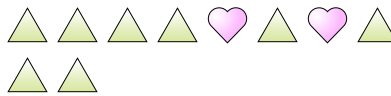


Resolver cada problema.

Ej) ¿Cuál es la relación de pentágonos a cuadros?



1) ¿Cuál es la relación de triángulos a corazones?



Respuestas

Ej. **7:11**

1. _____

2. _____

3. _____

4. _____

5. _____

6. _____

7. _____

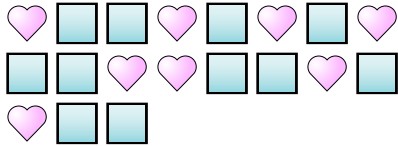
8. _____

9. _____

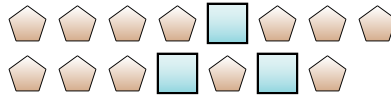
10. _____

11. _____

2) ¿Cuál es la relación de corazones a cuadros?



3) ¿Cuál es la relación de cuadros a pentágonos?




4) ¿Cuál es la relación de cuadros a estrellas?



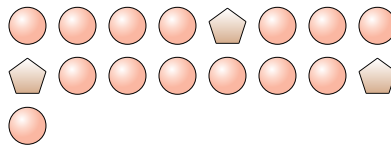
5) ¿Cuál es la relación de estrellas a círculos?



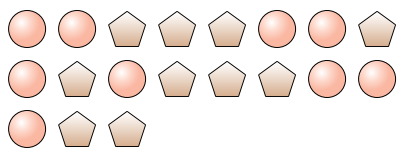
6) ¿Cuál es la relación de corazones a triángulos?



7) ¿Cuál es la relación de círculos a pentágonos?



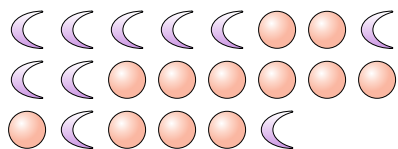
8) ¿Cuál es la relación de pentágonos a círculos?



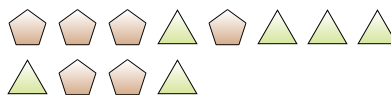
9) ¿Cuál es la relación de estrellas a pentágonos?



10) ¿Cuál es la relación de círculos a lunas?



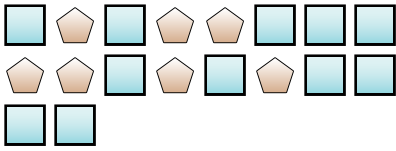
11) ¿Cuál es la relación de pentágonos a triángulos?





Resolver cada problema.

Ej) ¿Cuál es la relación de pentágonos a cuadros?



1) ¿Cuál es la relación de triángulos a corazones?



Respuestas

Ej. 7:11

1. 8:2

2. 8:11

3. 3:12

4. 4:3

5. 4:6

6. 15:3

7. 14:3

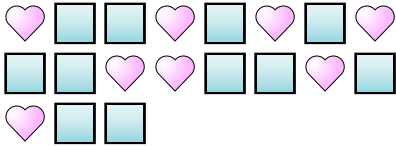
8. 10:9

9. 13:5

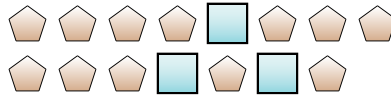
10. 12:10

11. 6:6

2) ¿Cuál es la relación de corazones a cuadros?



3) ¿Cuál es la relación de cuadros a pentágonos?




4) ¿Cuál es la relación de cuadros a estrellas?



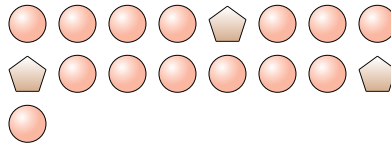
5) ¿Cuál es la relación de estrellas a círculos?



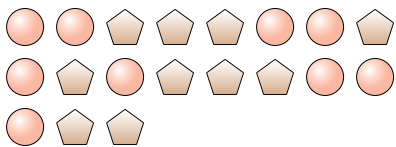
6) ¿Cuál es la relación de corazones a triángulos?



7) ¿Cuál es la relación de círculos a pentágonos?



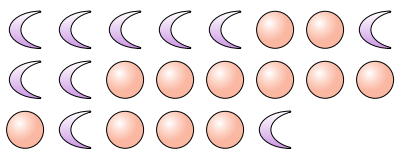
8) ¿Cuál es la relación de pentágonos a círculos?



9) ¿Cuál es la relación de estrellas a pentágonos?



10) ¿Cuál es la relación de círculos a lunas?



11) ¿Cuál es la relación de pentágonos a triángulos?

