



Usar las rectas numéricas para redondear cada número al 100 más cercano.

Ej) 366



Respuestas

Ej. 400

1) 128



1. _____

2) 456



2. _____

3) 696



3. _____

4) 497



4. _____

5) 6,849



5. _____

6) 6,203



6. _____

7) 8,909



7. _____

8) 1,433



8. _____

9) 25,847



9. _____

10) 72,644



10. _____



Usar las rectas numéricas para redondear cada número al 100 más cercano.

Ej) 366



1) 128



2) 456



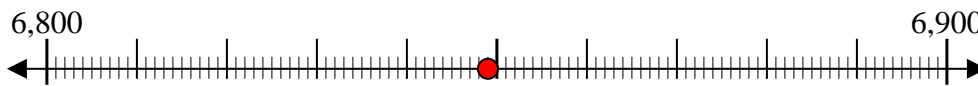
3) 696



4) 497



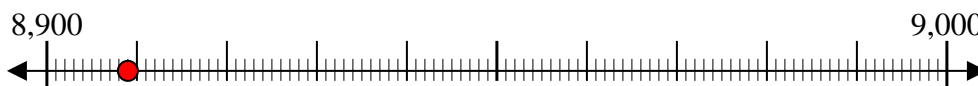
5) 6,849



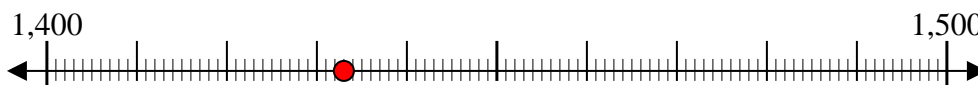
6) 6,203



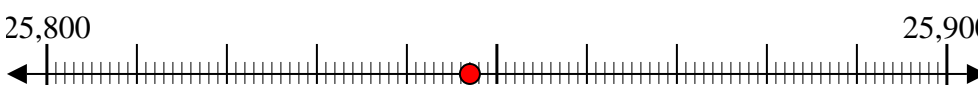
7) 8,909



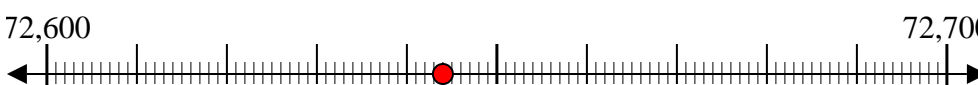
8) 1,433



9) 25,847



10) 72,644



Respuestas

Ej. 400

1. 100

2. 500

3. 700

4. 500

5. 6,800

6. 6,200

7. 8,900

8. 1,400

9. 25,800

10. 72,600