



Usar las rectas numéricas para redondear cada número al 100 más cercano.

Ej) 500



Respuestas

Ej. 500

1) 227



1. _____

2) 411



2. _____

3) 875



3. _____

4) 798



4. _____

5) 5,323



5. _____

6) 8,196



6. _____

7) 4,755



7. _____

8) 1,994



8. _____

9) 55,054



9. _____

10) 82,207



10. _____



Usar las rectas numéricas para redondear cada número al 100 más cercano.

Ej) 500



1) 227



2) 411



3) 875



4) 798



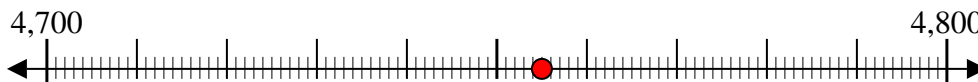
5) 5,323



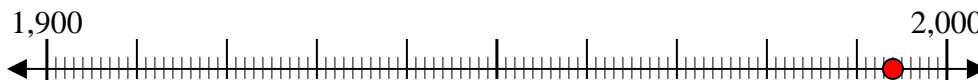
6) 8,196



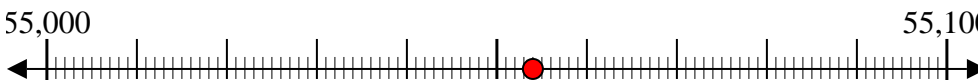
7) 4,755



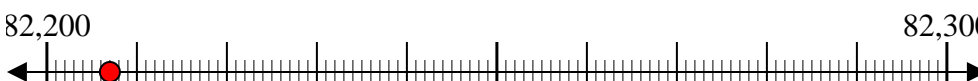
8) 1,994



9) 55,054



10) 82,207



Respuestas

Ej. 500

1. 200

2. 400

3. 900

4. 800

5. 5,300

6. 8,200

7. 4,800

8. 2,000

9. 55,100

10. 82,200