



Usar las rectas numéricas para redondear cada número al 100 más cercano.

Ej) 491



**Respuestas**

Ej. 500

1) 637



1. \_\_\_\_\_

2) 803



2. \_\_\_\_\_

3) 694



3. \_\_\_\_\_

4) 343



4. \_\_\_\_\_

5) 4,855



5. \_\_\_\_\_

6) 6,643



6. \_\_\_\_\_

7) 8,480



7. \_\_\_\_\_

8) 4,142



8. \_\_\_\_\_

9) 62,509



9. \_\_\_\_\_

10) 80,213



10. \_\_\_\_\_



Usar las rectas numéricas para redondear cada número al 100 más cercano.

Ej) 491



1) 637



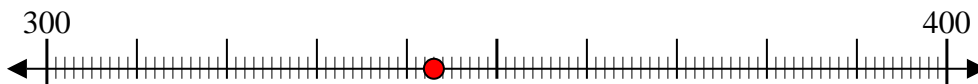
2) 803



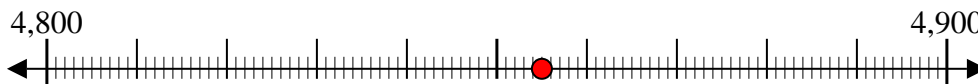
3) 694



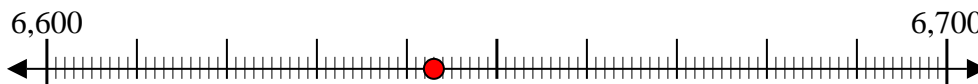
4) 343



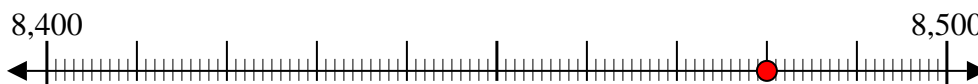
5) 4,855



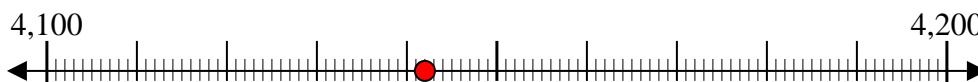
6) 6,643



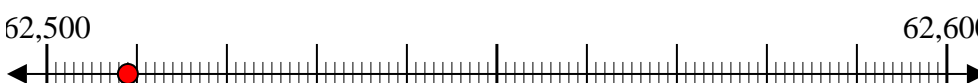
7) 8,480



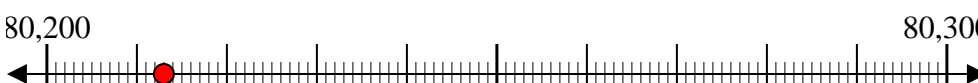
8) 4,142



9) 62,509



10) 80,213



**Respuestas**

Ej. 500

1. 600

2. 800

3. 700

4. 300

5. 4,900

6. 6,600

7. 8,500

8. 4,100

9. 62,500

10. 80,200