



Usar las rectas numéricas para redondear cada número al 100 más cercano.

Ej) 368



Respuestas

Ej. 400

1) 231



1. _____

2) 326



2. _____

3) 829



3. _____

4) 925



4. _____

5) 2,211



5. _____

6) 1,793



6. _____

7) 1,493



7. _____

8) 2,402



8. _____

9) 19,541



9. _____

10) 96,748



10. _____



Usar las rectas numéricas para redondear cada número al 100 más cercano.

Ej) 368



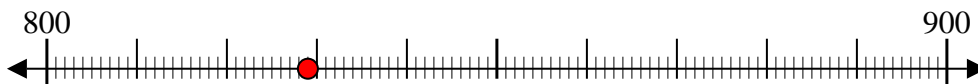
1) 231



2) 326



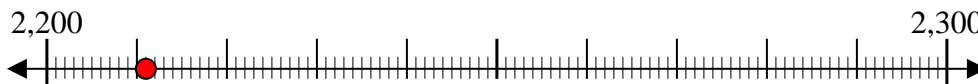
3) 829



4) 925



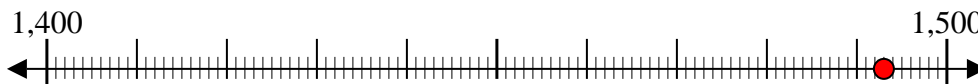
5) 2,211



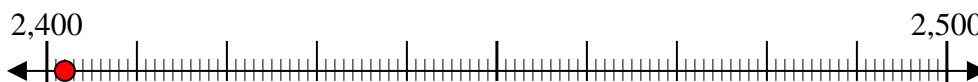
6) 1,793



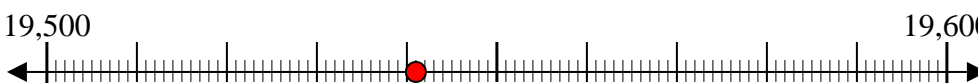
7) 1,493



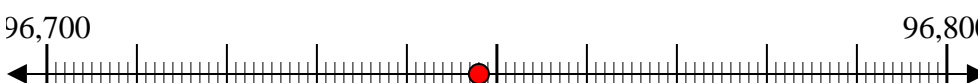
8) 2,402



9) 19,541



10) 96,748



Respuestas

Ej. 400

1. 200

2. 300

3. 800

4. 900

5. 2,200

6. 1,800

7. 1,500

8. 2,400

9. 19,500

10. 96,700