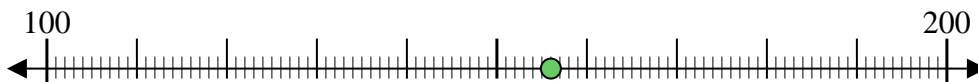




Usar las rectas numéricas para redondear cada número al 100 más cercano.

Ej) 156



**Respuestas**

Ej. 200

1) 561



1. \_\_\_\_\_

2) 550



2. \_\_\_\_\_

3) 800



3. \_\_\_\_\_

4) 393



4. \_\_\_\_\_

5) 6,955



5. \_\_\_\_\_

6) 2,991



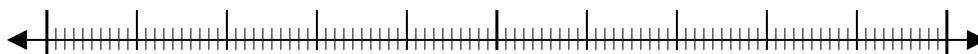
6. \_\_\_\_\_

7) 1,571



7. \_\_\_\_\_

8) 4,066



8. \_\_\_\_\_

9) 14,427



9. \_\_\_\_\_

10) 80,076



10. \_\_\_\_\_



Usar las rectas numéricas para redondear cada número al 100 más cercano.

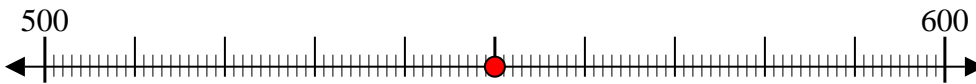
Ej) 156



1) 561



2) 550



3) 800



4) 393



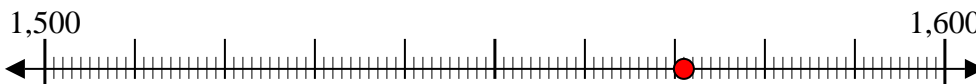
5) 6,955



6) 2,991



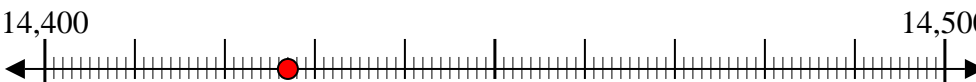
7) 1,571



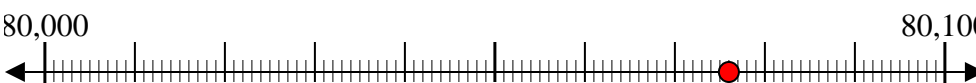
8) 4,066



9) 14,427



10) 80,076



**Respuestas**

Ej. 200

1. 600

2. 600

3. 800

4. 400

5. 7,000

6. 3,000

7. 1,600

8. 4,100

9. 14,400

10. 80,100