



Usar las rectas numéricas para redondear cada número al 100 más cercano.

Ej) 700



1) 849



2) 852



3) 570



4) 696



5) 3,697



6) 7,682



7) 6,232



8) 7,747



9) 34,757



10) 12,559



**Respuestas**

Ej. 700

1. \_\_\_\_\_

2. \_\_\_\_\_

3. \_\_\_\_\_

4. \_\_\_\_\_

5. \_\_\_\_\_

6. \_\_\_\_\_

7. \_\_\_\_\_

8. \_\_\_\_\_

9. \_\_\_\_\_

10. \_\_\_\_\_

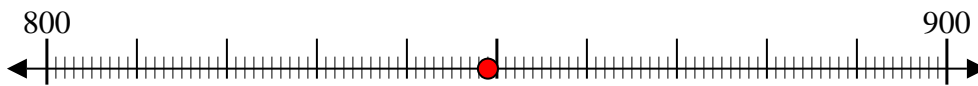


Usar las rectas numéricas para redondear cada número al 100 más cercano.

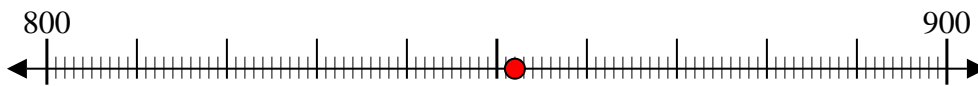
Ej) 700



1) 849



2) 852



3) 570



4) 696



5) 3,697



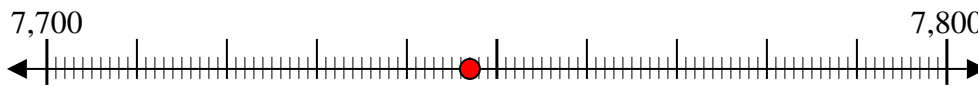
6) 7,682



7) 6,232



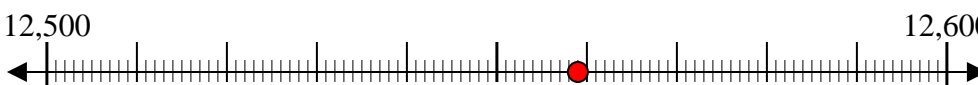
8) 7,747



9) 34,757



10) 12,559



**Respuestas**

Ej. 700

1. 800

2. 900

3. 600

4. 700

5. 3,700

6. 7,700

7. 6,200

8. 7,700

9. 34,800

10. 12,600