



Usar las rectas numéricas para redondear cada número al 100 más cercano.

Ej) 782



Respuestas

Ej. 800

1) 423



1. _____

2) 942



2. _____

3) 733



3. _____

4) 895



4. _____

5) 5,831



5. _____

6) 9,294



6. _____

7) 9,183



7. _____

8) 9,684



8. _____

9) 90,727



9. _____

10) 64,706

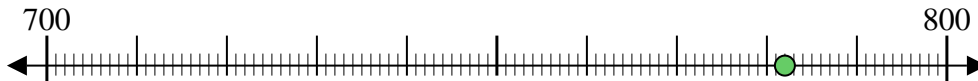


10. _____



Usar las rectas numéricas para redondear cada número al 100 más cercano.

Ej) 782



1) 423



2) 942



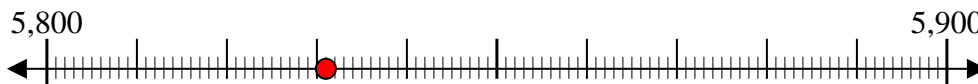
3) 733



4) 895



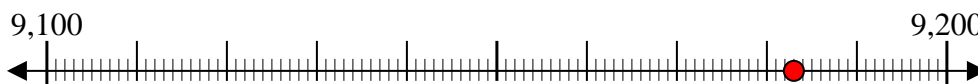
5) 5,831



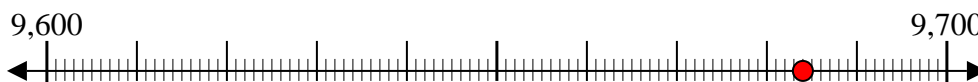
6) 9,294



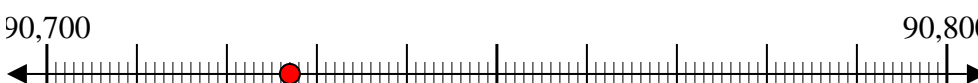
7) 9,183



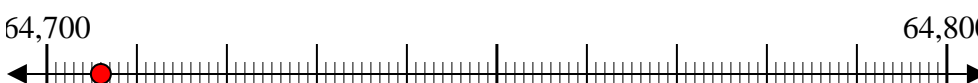
8) 9,684



9) 90,727



10) 64,706



Respuestas

Ej. 800

1. 400

2. 900

3. 700

4. 900

5. 5,800

6. 9,300

7. 9,200

8. 9,700

9. 90,700

10. 64,700